


## TÜRKÇE SORULARI



1. Doğal afetlere engel olmamız mümkün değildir. Ancak yaşamımızı doğal afetlere göre ayarlamalıyız. Deprem, sel, çığ, heyelan, kasırga, orman yangını doğal afetler sonucu oluşur. İnsanlar hayatlarında bu tür sıkıntılarla karşılaşmamak için bazı önlemler almalıdır. Örneğin; fay hattının olduğu yerlere binalar yapmamalı ve binaları yaparken sağlam yapmalıyız. Bir başka örnek ise; sel tehlikesi olan dere kenarlarına evler yapmamalıyız. Bu tür önlemleri alırsak hayatımızda bu tür afetler ile karşılaşmamış oluruz.

Yukarıda okuduğumuz **metnin türü** nedir?

- A) Şiir                      B) Bilgilendirici Metin                      C) Öyküleyici Metin                      D) Konuşma Metni

2. "**Sürmek**" kelimesi aşağıdaki cümlelerin hangisinde diğerlerinden farklı anlamda kullanılmıştır?

- A) Baygınlığım ne kadar sürdü, bilmiyorum.  
B) İstanbul'a arabayla gitmek 5 saat sürdü.  
C) Uzun süredir istediğim oyuncak aldım.  
D) Dört duvar arasında bir memur hayatı sürüyordu.

3. Gözyaşlarındaki acıların izleri silinsin.

Acı biberi hiç sevmem.



Yukarıdaki cümlelerde altı çizili kelimelerin **ortak özelliği** nedir?


- A) Eş anlamlı kelimeler                      B) Zıt anlamlı kelimeler  
C) Eş sesli (Sesteş) kelimeler                      D) Karşıt anlamlı kelimeler

4. Aşağıdaki cümlelerin hangisinde "**yüz**" kelimesi farklı bir anlamda kullanılmıştır?


- A) Daima yüzü gülerdir.  
B) Beni görünce yüzünde bir şaşkınlık ifadesi belirdi.  
C) Bu kitabı yüz liraya almıştım.  
D) Yüzünde sivilceler çıkmıştı.

5. Aşağıdakilerin hangisi bir doğal afet sonucu **oluşmaz**?

- A) Deprem                      B) Sel                      C) Çığ                      D) Trafik Kazası



## MATEMATİK SORULARI



1. Aşağıdakilerden hangisi mililitre nin sembolüdür?

- A) kg                      B) mg                      C) L                      D) mL

2. Bir kazanda 7800 mL süt vardır. Bu süt kaynatılırken 1800 mL'si buharlaşırsa geriye kaç mL süt **kalır**?

- A) 5000 mL                      B) 6000 mL                      C) 9600 mL                      D) 9000 mL

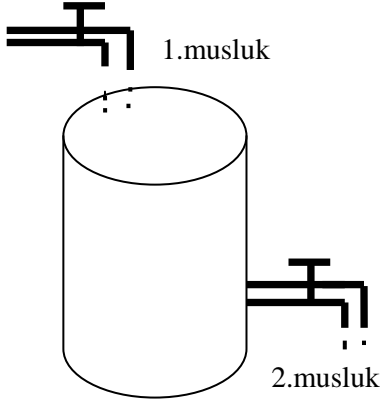
3. 80 litre meyve suyunu 20 mL lik şişelere doldurursak **kaç şişe kullanmış oluruz**?

- A) 100 şişe                      B) 300 şişe                      C) 60 şişe                      D) 400 şişe

4.Mert'in babası arabasına aldığı 1 litre mazot ile 25 kilometre yol gitmiştir.1 litre mazot 4 lira olduğuna göre 80 liraya aldığı mazot ile **kaç kilometre yol gider?**

- A) 300 km      B) 400 km      C) 500 km      D) 600 km

5.




Yandaki şekle göre ;

1.musluk saatte 50 litre su doldurmaktadır.


2.musluk saatte 20 litre su boşaltmaktadır.

İki musluk 5 saat açık kalırsa havuzda **toplam kaç mL su dolar?**

- A) 10000 mL      B) 15000 mL      C) 20000 mL      D) 30000 mL



### FEN VE TEKNOLOJİ SORULARI



1.Aşağıdakilerden hangisi **doğal ışık kaynağı** değildir?

- A) Güneş      B) Yıldız  
C) Mum      D) Ateşböceği

2."**Işık**" ile ilgili aşağıdaki söylenenlerden hangisi doğrudur?

- A) Işık duymamız için gereklidir.  
B) Işık bir enerji türüdür.  
C) Işık kaynakları etrafa soğuk hava yayar.  
D) Aşırı ışık göz sağlığımızı olumlu etkiler.



3.Geçmişten günümüze kullanılan aydınlanma teknoloji ürünlerinden hangisi diğerlerinden **farklıdır?**

- A) Gaz lambası      B) Mum  
C) Ampul      D) Meşale


4.Karanlıkta **görmemizi sağlayan** en önemli unsur nedir?

- A) Ses      B) Işık      C) Priz      D) Elektrik

5.Aşağıdaki resimleri inceleyiniz.Hangisi ışık kaynağı olmadığı halde **ışık yayıyormuş gibi görünür?**



### SOSYAL BİLGİLER SORULARI



1.Yılın aylara,haftalara,günlere bölünmesi sonucu **hangisi ortaya çıkmıştır?**

- A) Takvim      B) Televizyon      C) Gazete      D) Dergi

2.Aşağıdaki teknolojik ürünlerden hangisi **Thomas Edison** tarafından icat edilmiştir?

- A) Telefon      B) Ampul      C) Saat      D) Fotoğraf Makinesi

3.



Yukarıdaki teknolojik ürünlerin kullanım alanları,aşağıdakilerin hangisinde **sırasıyla** doğru verilmiştir?

- I      II      III      IV  
A) İletişim- Sağlık- Ulaşım- Eğitim  
B) Eğitim- Ulaşım- İletişim- Sağlık  
C) Eğitim- İletişim- Sağlık- Ulaşım  
D) Sağlık- İletişim- Ulaşım- Eğitim

**BAŞARILAR DİLERİM....**

**SORULARI DİKKATLİCE OKURSAN YAPACAĞINA EMİNİM.**

vlknogrtm

