








































# NESNE GRAFİĞİ

Ecenur hayvanat bahçesine gittiğinde gördüğü hayvanları gösteren aşağıdaki nesne grafiğini çizdi. Bu grafiğe göre aşağıdaki soruları cevaplayın.

Grafik: Hayvanat Bahçesindeki Hayvanlar Grafiği

kanguru	       
kuş	        
tavşan	   
timsah	  
ayı	
kaplumbağa	      
kedi	 
penguen	    

Her şekil 4 varlığı göstermektedir.

- 1) kuş ve ayı sayıları toplamı kaçtır?
- 2) 36 tane olan hayvan hangisidir?
- 3) 4 tane olan hayvan hangisidir?
- 4) 16 tane olan hayvan hangisidir?
- 5) En fazla olan hayvan kaç tanedir?
- 6) tavşan ve timsah sayıları toplamı kaçtır?
- 7) kaplumbağa ve kanguru sayıları toplamı kaçtır?
- 8) En az ve en fazla olan hayvanların farkı kaçtır?

- 9) 8 tane olan hayvan hangisidir?
- 10) 20 tane olan hayvan hangisidir?
- 11) 12 tane olan hayvan hangisidir?
- 12) En az ve en fazla olan hayvanların toplamı kaçtır?
- 13) kedi ve penguen sayıları toplamı kaçtır?
- 14) 28 tane olan hayvan hangisidir?
- 15) 32 tane olan hayvan hangisidir?
- 16) En az olan hayvan kaç tanedir?