









NESNE GRAFIĞİ

Ayşe hayvanat bahçesine gittiğinde gördüğü hayvanları gösteren aşağıdaki nesne grafiğini çizdi. Bu grafiğe göre aşağıdaki soruları cevaplayın.

Grafik:Hayvanat Bahçesindeki Hayvanlar Grafiği

Ördek	
Kanguru	
Tavşan	
Kaplumbağa	
Penguen	
Ayı	
Kaplan	
Sincap	









- 1) 4 tane olan hayvan hangisidir?
- 2) En az ve en fazla olan hayvanların farkı kaçtır?
- 3) 8 tane olan hayvan hangisidir?
- 4) En az olan hayvan kaç tanedir?
- 5) 2 tane olan hayvan hangisidir?

Her şekil 2 varlığı göstermektedir.

NESNE GRAFIĞİ

Ayşe hayvanat bahçesine gittiğinde gördüğü hayvanları gösteren aşağıdaki nesne grafiğini çizdi. Bu grafiğe göre aşağıdaki soruları cevaplayın.

Grafik:Hayvanat Bahçesindeki Hayvanlar Grafiği

Kanguru	
Keçi	
At	
Geyik	
Kaplumbağa	
Penguen	
Kaplan	
Kedi	









- 1) En az ve en fazla olan hayvanların farkı kaçtır?
- 2) 6 tane olan hayvan hangisidir?
- 3) 24 tane olan hayvan hangisidir?
- 4) 12 tane olan hayvan hangisidir?
- 5) 27 tane olan hayvan hangisidir?

Her şekil 3 varlığı göstermektedir.

NESNE GRAFIĞİ

Ayşe hayvanat bahçesine gittiğinde gördüğü hayvanları gösteren aşağıdaki nesne grafiğini çizdi. Bu grafiğe göre aşağıdaki soruları cevaplayın.

Grafik:Hayvanat Bahçesindeki Hayvanlar Grafiği

Kedi	
Fil	
Deniz atı	
Penguen	
Keçi	
Yunus	
Ördek	
At	

- 1) En az ve en fazla olan hayvanların farkı kaçtır?
- 2) Yunus ve Ördek toplamı kaçtır?
- 3) En az olan hayvan kaç tanedir?
- 4) 12 tane olan hayvan hangisidir?
- 5) 10 tane olan hayvan hangisidir?

Her şekil 2 varlığı göstermektedir.