


1. Aşağıdaki görsellerden hangisi canlı varlığa örnektir?



4.



Çöpleri çöp kutusuna atmak

Ağaçlara tırmanmak



Kişisel temizliğimize dikkat etmek


Yukarıdaki çocuklardan hangisi yaşanan çevrenin temizliği ile ilgili cümle kurmuştur?



2.



Yukarıda sembolle eşleşen görsellerden hangisi veya hangileri cansız varlıklar ile ilgilidir?

- A)  B)  
- C)  

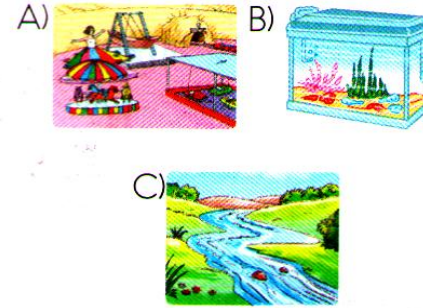
5.

İnsan eliyle meydana getirilen çevreye, çevre denir.

Yukarıdaki noktalı yere hangi sözcük gelmelidir?

- A) doğal B) yapay
C) kirlî

6. Aşağıdaki görsellerden hangisi doğal çevreye örnek olarak verilebilir?



7.



Yukarıdaki bulmacada kaç numaralı sözcük yapay çevre ile ilgilidir?

- A) 1 B) 2 C) 3

8. Sağlıklı yaşam için aşağıdakilerden hangisi yapılmamalıdır?

- A) Devamlı tek bir besinden yemek
B) Dengeli ve düzenli beslenmek
C) Spor yapmak

9. Aşağıdakilerden hangisi doğal ve yapay çevre arasındaki farklardan değildir?







- A)  Kısıtlı sayıda canlıya yuva olurlar.
B)  İnsan eliyle yapılmazlar.
C)  İnsanların ihtiyaçlarını karşılarlar.

10.  Eşyalarına özenli davranmaz.

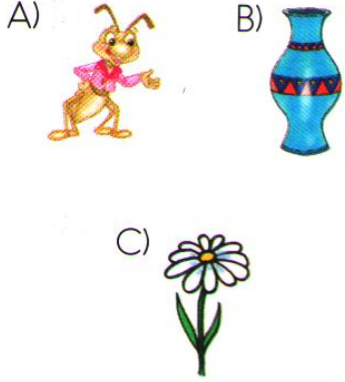
 Diş fırçalarken suyu kapatmaz.

 Gereksiz yere kâğıt harcamaz.

Yukarıda sembolle eşleşenlerden hangileri bilinçli tüketicinin davranışlarından olamaz?

- A)  
B)  
C)  

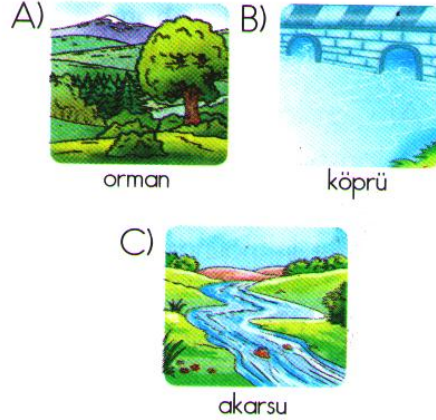
1. Aşağıdakilerden hangisi canlı değildir?




3. Aşağıdakilerden hangisi doğrudur?


- A) Yaşadığımız çevrenin temiz olması konusunda özen göstermeliyiz.
B) Çöplerimizi sınıfta çöp kutusuna atmak bizim görevimiz değildir.
C) Yaşadığımız çevrenin güzel olması çok da önemli değildir.


4. Aşağıdakilerden hangisi yapay çevreye örnektir?



2. Hangi öğrenci yanlış bir bilgi vermiştir?

A)  Canlılar hareket etme yeteneğine sahiptirler.

B)  Canlılar solunum ve beslenme yaparlar.

C)  Canlılar yalnızca hayvanlardan oluşur.

5. Aşağıdakilerden hangisi doğrudur?

- A) Yapay çevrenin belli bir maliyeti vardır.
B) Doğal çevrenin meydana gelmesi çok kısa sürer.
C) Doğal çevre sınırlı sayıda canlıya yuvadır.

6. Aşağıdakilerden hangisi doğal çevreye örnektir?




7. Aşağıdakilerden hangisi yanlıştır?


- A) Canlıların beslenmeye ihtiyaçları vardır.
B) Canlı varlıklar çevreleri ile etkileşim hâlinde dirler.
C) Tüm canlılar yer değiştirme özelliğine sahiptir.


8. Aşağıdakilerden hangisi doğrudur?

- A) Ağaç ve böcek cansızdır.
B) Hava ve su canlıdır.
C) Çiçekler hiç hareket etmez.

9. Doğal çevremizi korumak için aşağıdakilerden hangisi yapılmamalıdır?

A)  Ağaçları kesmemek ve çevremizi ağaçlandırmak gerekir.

B)  Denizlere ve akarsulara canlılara zarar verecek maddeler atılmamalıdır.

C)  Pil gibi kimyasal atıklar mutlaka gıdalarla birlikte çöp kutusuna atılmalıdır.

10. Aşağıdakilerden hangisi yanlıştır?

- A) Doğal yaşamın korunmasına yardımcı olmalıyız.
B) Canlılara zarar vermemeliyiz.
C) Yılan ve akrep gibi zehirli hayvanları doğada yok etmeliyiz.