



1 ve 2. sorular yukarıdaki resme göre cevaplandırılacaktır.

1. Resimdekilerden hangileri canlı varlıktır?

- A) 1 ve 2 B) 2, 3, 4 ve 5
C) 1, 2, 5 ve 6

2. Resme göre yorum yapan öğrencilerin söyledikleri aşağıdaki gibidir.

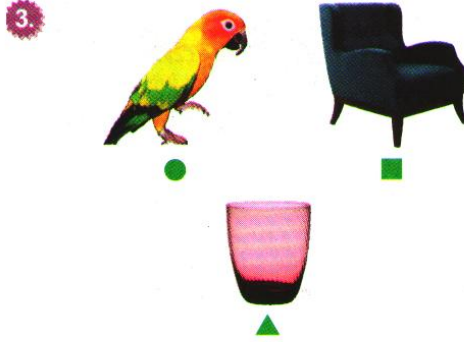
Sıla: 1, cansız varlıktır.

Bulut: 6, canlı varlıktır.

Melis: 2 ve 5 canlı varlıktır.

Buna göre hangi öğrencilerin söyledikleri doğrudur?

- A) Sıla ve Melis B) Sıla ve Bulut
C) Bulut ve Melis




Yukarıdaki resimlerden;

- canlı
- cansız

olanlar hangi seçenekte doğru verilmiştir?

	Canlı	Cansız
A)	■, ▲	●
B)	▲	●, ■
C)	●	■, ▲



Aşağıdaki canlılardan hangisinin doğal yaşam alanı toprak değildir?

- A) Balık B) Köstebek
C) Karınca

5. Öğretmen: Çocuklar, "Doğal Çevreyi Koruma" konulu afiş hazırlamanızı istiyorum.

Murat: TEMİZ ÇEVRE SAĞLIKLI İNSAN DEMEKTİR!

Esra: AĞAÇ DİKME ETKİNLİĞİMİZE SİZ DE KATILIN!

Alev: CAM VE KAĞIT ATIKLARI DÖNÜŞÜM KUTULARINA ATALIM. ÜLKEMİZ KAZANSIN!

Buna göre hangi öğrencilerin afişlerindeki sloganlar konuya uygundur?

- A) Murat, Esra
B) Esra, Alev
C) Murat, Esra, Alev

6. Aşağıdakilerden hangisi sağlıklı bir yaşam sürdürebilmek için uygun bir besindir?

A) Kola B) Ispanak
C) Cips

7. Duygu ve Sevdâ bilinçli bir tüketicinin yapması gerekenlerle ilgili önerilerde bulunmuşlardır. Ancak Duygu doğru, Sevdâ yanlış bilgi vermiştir.

Buna göre Duygu ve Sevdâ'nın söyledikleri hangileri olabilir?

A) Duygu: Ambalajı yırtık ürün almamalıyız. Sevdâ: İhtiyacımız olmayan ürünleri de almamalıyız.

B) Duygu: Fiş almalıyız. Sevdâ: TSE belgeli ürün almalıyız.


C) Duygu: Ürünün son kullanma tarihine bakmalıyız. Sevdâ: Fiyatı uygun olan ürünleri almalıyız.

Doğal Çevre	Yapay Çevre

Tablodaki sembollerin yerine aşağıdakilerden hangisi yazılamaz?


- A) – Göl
B) – Saksı
C) – Akvaryum

1. Aşağıdakilerden hangisi yapay çevre örneğidir?



A) I B) II C) III

2. Resimdeki canlı ile aşağıdaki canlılardan hangisi aynı ortamda yaşar?



3.

büyüme	beslenme
hareket	çoğalma

Tablodakilerden hangileri canlıların ortak özelliklerindendir?

A)

büyüme	beslenme
hareket	çoğalma

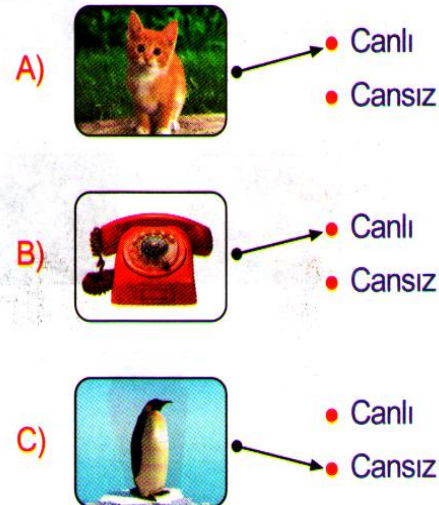
B)

hareket	çoğalma
---------	---------

C)

büyüme	beslenme
hareket	çoğalma

4. Aşağıdaki eşleştirmelerden hangisi doğrudur?



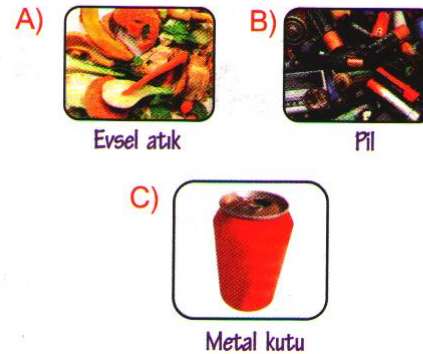
5.



Resimdeki varlıkların canlı ya da cansız varlık olduğuna karar verilerek ilerlendiğinde hangi sembole ulaşılır?

A) ☾ B) ☆ C) ○

6. Aşağıdakilerden hangisi geri dönüşüm kutusuna atılamaz?



7.

- a. Dengeli beslenme
b. Spor yapma
c. Sebze, meyve tüketme

Sağlıklı bir yaşam süren Petek yukarıdakilerden hangilerini yapıyor olabilir?

A) a ve b B) b ve c
C) a, b ve c

8.



Boşa su akıtmıyorum.



Uyurken ışığı açık bırakıyorum.



Alışverişten sonra fişimi alıyorum.

Yukarıdaki öğrencilerle ilgili;

- I. Songül bilinçli tüketicidir.
II. Kemal bilinçli bir tüketici değildir.
III. Serhat bilinçli tüketicidir.
İfadelerinden hangileri doğrudur?

A) I ve II B) I ve III C) I, II ve III