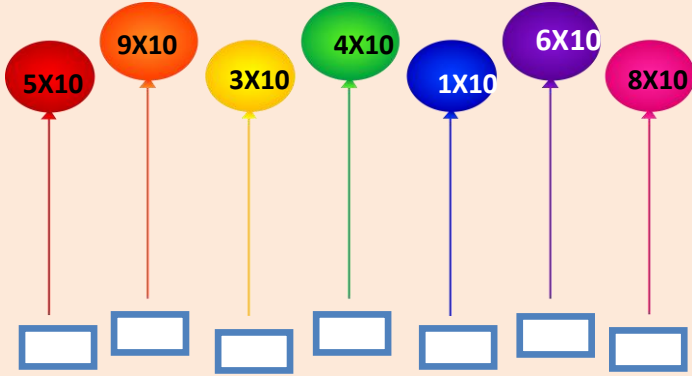


Adı :

..... İLKOKULU 2/A SINIFI MATEMATİK KAZANIM DEĞERLENDİRME SORULARI

Soyadı :

- 1- Aşağıdaki balonların üzerinde verilen çarpma işlemlerini zihinden yapınız. Sonuçları altındaki kutulara yazınız.



- 1- Sınıfımızda en çok sevilen 4 hayvan ismi belirlenmiş, sonuçlar aşağıda verilmiştir. Bu verileri kullanarak **tablo** ve **nesne grafiği** oluşturunuz.

Tavuk: 12

Ördek:9

Kedi :15

Kuzu :6

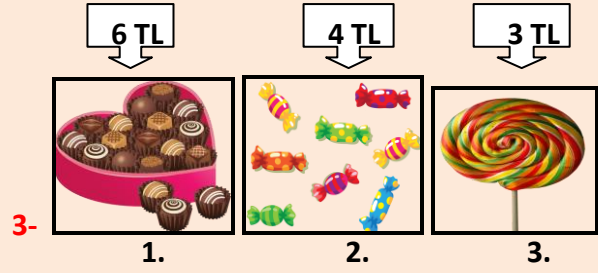
Tablo:.....

Hayvan İsimleri	Kişi Sayısı

Grafik:.....

Hayvanlar	Kişi Sayısı
	
	
	
	

Not: Her şekil 3 hayvan sayısını temsil etmektedir.



Bir markette bayram şekerlerinin kilogram satış fiyatları yukarıdaki gibi belirtilmiştir.

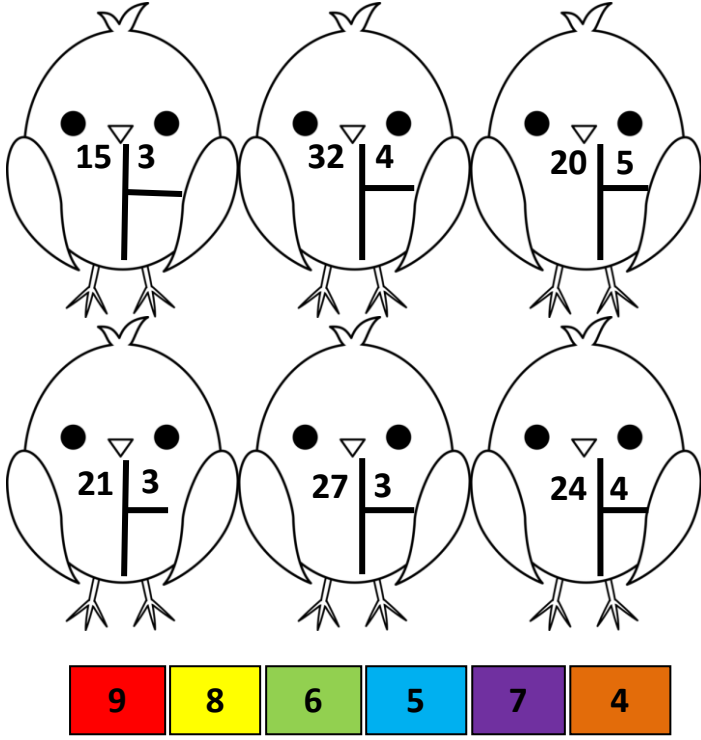
Buna göre aşağıdaki problemleri çözünüz.

- a) 1.kutudaki şekerlerden 3 kilogram alan Büşra Hanım kaç TL ödemiştir?

- b) Marketten 2. Kutudaki şekerlerden 3 kilogram, 1. Kutudaki şekerlerden 2 kilogram alan Hasan Bey toplam kaç TL ödemelidir?


- c) 1. Kutudaki çikolatalardan 4 kg alan Merve Hanım 50 TL verdiği göre, kaç TL para üzeri almalıdır?

4- Kuşlar üzerindeki bölme işlemlerini yapalım. İşlem sonuçlarının rengine göre kuşları boyayalım.



5- Kediler aşağıdaki balıkları eşit şekilde yiyecektir? Her bir kediye kaç balık düşer?

(Her kediye farklı renkte boyayalım. Yedikleri balıkları kedilerle aynı renge boyayalım.)



Her bir kediye .....balık düşer.

6- Aşağıdaki problemleri çözünüz.

a)



Her bir sepette 5 kilogram armut vardır. 6 sepette kaç kilogram armut vardır?

ÇÖZÜM:

b)



Yanda verilen domates kasasının ağırlığı 4 kilogramdır. 8 kasa domates alan Hasan amca, domateslerin 17 kg domatesi salça yapmak için kullanmıştır. Hasan amcanın kaç kilogram domatesi kalmıştır?

ÇÖZÜM:

c)

Aşağıdaki hayvanlar bizlere mevsimler, aylar ve günler hakkında bilgiler vermişlerdir. Boş bıraktıkları kutuları tamamlayalım.



Ocak



Pazartesi

İlkbahar

Haziran

Cuma

Kasım