

TOPLAMA İŞLEMİ BULMACA ETKİNLİKLERİ

A. Aşağıdaki tabloları tamamlayınız.

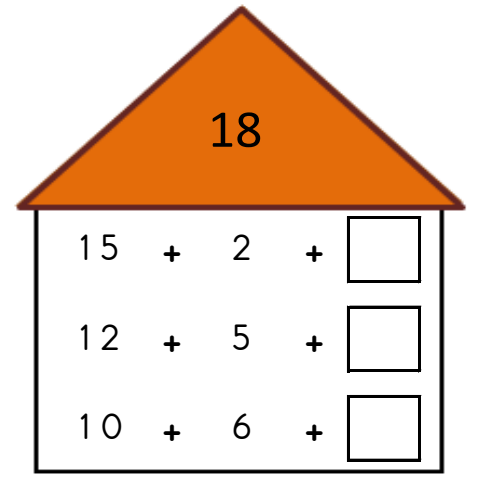
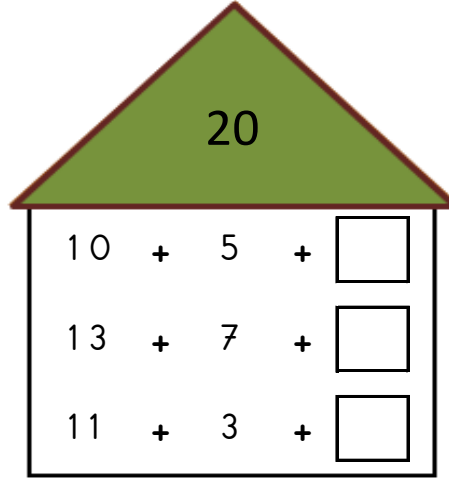
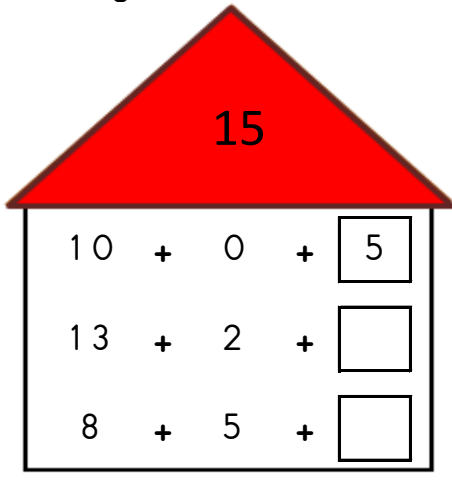
+	2	3	4
9			
8		11	
7			

+	3	4	5
7			
6			
5	8		

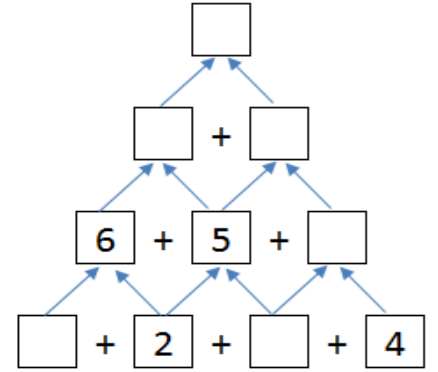
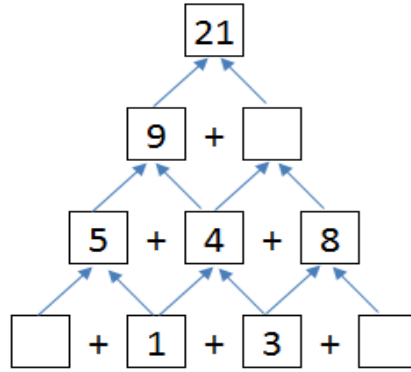
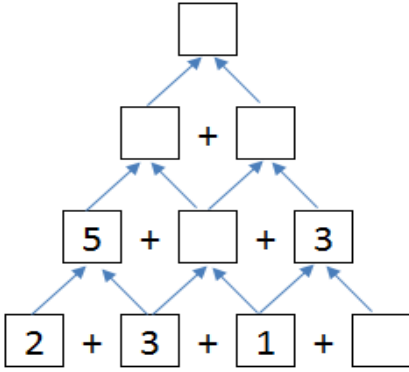
+	4	5	6
4		9	
3			
2			

+	5	6	7
7			
8			
9			16

B. Sayıların toplayarak evin çatısındaki sayıya ulaşmalısınız. Verilmeyen sayıları bulunuz.



C. Sayıları toplayarak zirveye ulaşmalısınız. Verilmeyen sayıları bulunuz.



D. Aşağıda verilen bulmacaları verilmeyen sayıları bularak çözünüz.

6	+		=	9
+		+		+
	+	9	=	11
=		=		=
8	+		=	




5	+		=	8
+		+		+
	+	8	=	12
=		=		=
9	+		=	




2	+		=	9
+		+		+
	+	6	=	11
=		=		=
7	+		=	










E. Aşağıda verilen toplama işlemlerini yaparak işlem sonuçlarına göre harfleri kutulara yazıp şifreyi bulalım?










	7	8	9	10	11	12	13
	↓	↓	↓	↓	↓	↓	↓
	A	K	Ü	A	T	R	T
	4	5	4	7	6	7	5
	+ 3	+ 6	+ 6	+ 6	+ 3	+ 5	+ 3
	↓	↓	↓	↓	↓	↓	↓
	□	□	□	□	□	□	□

F. Aşağıda verilen ip uçlarından yararlanarak bulmacayı çözelim.

 = 4
 =
 =

 = 2
 =
 =

			= 10
			= 9
			= 15
=	=	=	
12	14	10	

			= 10
			= 9
			= 11
=	=	=	
11	8	11	

G. Aşağıda verilen toplama işlemlerini yaparak petekleri doldurunuz?

	15	
7		8
4	3	5

8		
6	2	3

9		
3	6	4

	11	
5	3	8

7	2	6

10		
6		3