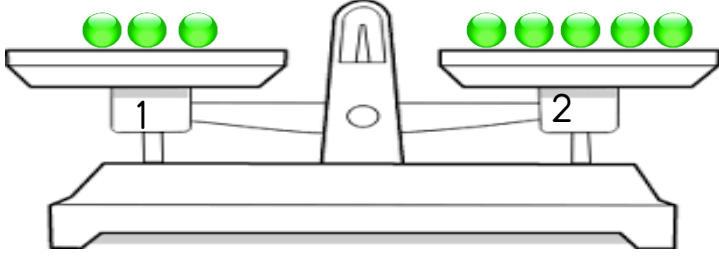


TOPLAMA İŞLEMİ DENGE ETKİNLİKLERİ

Terazi kefelerinin dengede durması için nesne sayılarının eşit olması gerekir.

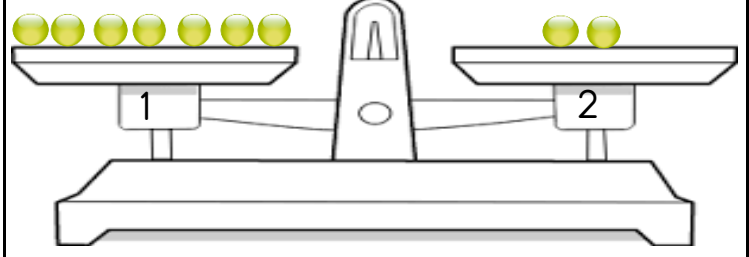
Aşağıdaki terazinin dengede durması için 1. kefeye kaç bilye konmalıdır?

$$3 + \square = 5$$



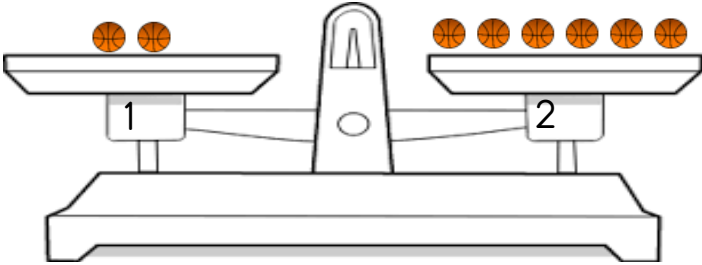
Aşağıdaki terazinin dengede durması için 2. kefeye kaç bilye konmalıdır?

$$7 = 2 + \square$$



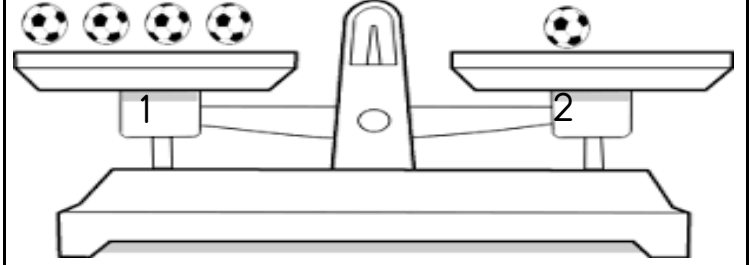
Aşağıdaki terazinin dengede durması için 1. kefeye kaç basket topu konmalıdır?

$$2 + \square = 6$$



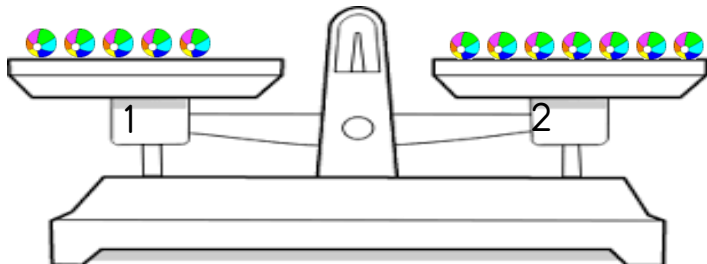
Aşağıdaki terazinin dengede durması için 2. kefeye kaç futbol topu konmalıdır?

$$4 = 1 + \square$$



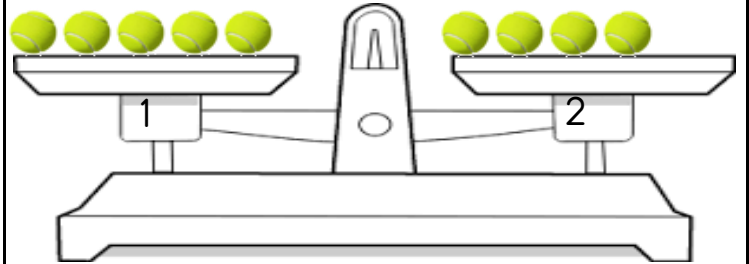
Aşağıdaki terazinin dengede durması için 1. kefeye kaç deniz topu konmalıdır?

$$5 + \square = 7$$



Aşağıdaki terazinin dengede durması için 2. kefeye kaç beyzbol topu konmalıdır?

$$5 = 4 + \square$$



Aşağıdaki terazilerin dengede olması için verilmeyen sayıları bulunuz.

