


## DERECİK İLKOKULU 1.SINIFLAR EV ÖDEVİ

### DÖRT

Bir eli belindedir,  
Oyunlarda ebedir.  
Hey aman da aman,  
Fır döner her zaman.  
Adı dördttür, dört;  
Kuş gibi öt.



Çok oku ezberle,  
bakmadan deftere yaz

### OKU-ANLA-YANITLA

MUHAMMET

Muhammet yedi yaşında, esmer, normal kiloda ve uzun boylu bir çocuktur. Sınıftaki arkadaşlarından farklı fiziksel özellikleri var. Muhammet fiziksel özelliklerini seviyor.

En sevdiği ders matematik. Çok güzel okuyor ve çok güzel yazıyor. Büyüyünce doktor olmak istiyor.


1. Muhammet'in fiziksel özellikleri nelerdir?



2. Muhammet en çok hangi dersi seviyor?


3. Muhammet büyüyünce ne olmak istiyor?


Çocuğun elindeki toplamı gösteren işlemi boy



Sayma çubuklarıyla topla.



$6 + 9 = \underline{\quad}$

$6 + 9 = \underline{\quad}$

$7 + 4 = \underline{\quad}$

$5 + 7 = \underline{\quad}$

$5 + 8 = \underline{\quad}$

$6 + 8 = \underline{\quad}$

$6 + 4 = \underline{\quad}$

$3 + 7 = \underline{\quad}$

$4 + 3 = \underline{\quad}$

$7 + 2 = \underline{\quad}$

$5 + 6 = \underline{\quad}$

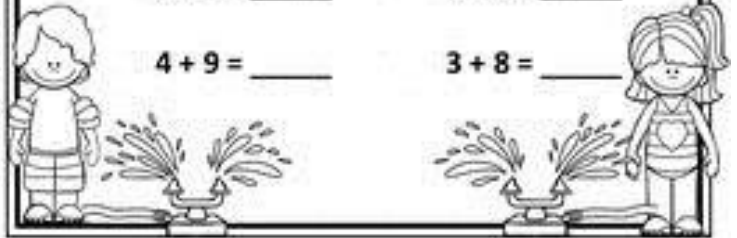
$8 + 6 = \underline{\quad}$

$3 + 9 = \underline{\quad}$

$9 + 3 = \underline{\quad}$

$4 + 9 = \underline{\quad}$

$3 + 8 = \underline{\quad}$



1-Derede 6 kurbağa vardı. 5 kurbağa daha geldi. Kaç kurbağa oldu?

[illegible]

2-Cebimde 7 fındık vardı. Dedem 9 tane daha verdi. Kaç tane oldu?

[illegible]

3-Sepete 8 erik koydum. 8 tane de kardeşim koydu. Kaç erik oldu?

[illegible]

4-Otobüse 6 kişi bindi. Diğer durakta 7 kişi daha bindi. Kaç kişi oldu?

[illegible]