



PARALARIMIZ



50 Kr



2 TL



4 TL



50 Kr



Aşağıdaki soruları yukarıdaki görsellere göre cevaplayınız.

➡ 2 kalem, 2 silgiTL eder.

➡ 1 sulu boya ile 2 cetvelTL eder.

























➡ Yukarıdaki ürünlerden birer tane alırsamTL eder.

➡ 3 TL parası olan Yeşim yukarıdaki ürünlerden
.....alabilir.Ancak
.....alamaz.

➡ 10 TL parası olan Ayberk yukarıdaki ürünlerden 3 cetvel ile
2 silgi alırsalirası artar.



**Aşağıdaki ürünleri alabilmek için gerekli paraları örnekteki
gibi yuvarlak içine alınız.**

| | | | | | |
|--|---|---|---|---|---|
|  18 TL |  |  |  |  |  |
|  8 TL |  |  |  |  |  |
|  3 TL |  |  |  |  |  |
|  12 TL |  |  |  |  |  |