

KUBİLAY İLKOKULU 2014-2015 EĞİTİM ÖĞRETİM YILI

4/D SINIFI GEOMETRİ YAZILISI SORULARI

Adı:..... Soyadı:.....

Puanı:.....

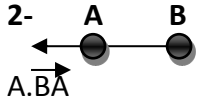
1-Aşağıdaki şekillerden hangisi doğruya örnek değildir?

(8 puan)



2- Yandaki \overleftarrow{AB} aşağıdakilerden hangisiyle birleşirse doğru oluşturur?

(8 puan)

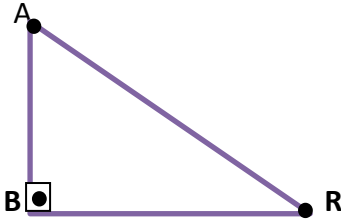


B. $[BC]$

C. $|BC|$

D. $[BC$

3-



Yukarıda verilen dik üçgen üzerindeki dar açılarının toplamı kaç derecedir?

(7 puan)

A. 90

B. 91

C. 89

D. 99

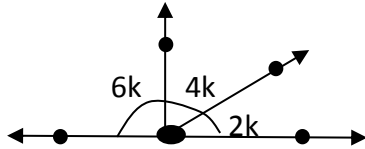
4- İki tane en büyük dar, üç tane en küçük geniş açının doğal sayı değerleri toplamı kaçtır? (8 puan)

A. 741

B. 451

C. 671

D. 557



5- Aynı doğru üzerinde 2-4 ve 6 ile orantılı olarak verilen açılardan en büyüğü kaç derecedir?

(9 puan)

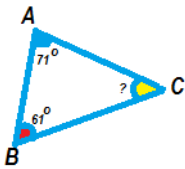
A. 80

B. 78

C. 90

D. 75

6-



Yandaki çeşitkenar üçgende $s(\widehat{C})$ kaç derecedir?

(8 Puan)

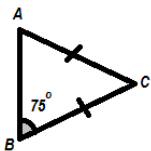
A. 52

B. 40

C. 88

D. 48

7-



Yandaki ikizkenar üçgende $s(\widehat{C})$ kaç derecedir?

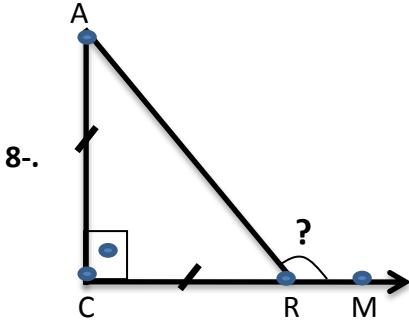
(8 Puan)

A. 75

B. 30

C. 25

D. 45

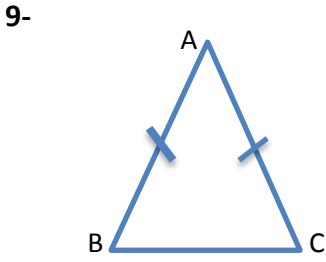


Yandaki şekilde ikizkenar dik üçgen veriliyor. Buna göre $s(\widehat{ARM})$ kaç derecedir? (9 Puan)

.....

.....

.....



Tepe açısı taban açılarından birinin $1/4$ 'i olan ikiz kenar üçgenin taban açılarından biri kaç derecedir? (9 Puan)

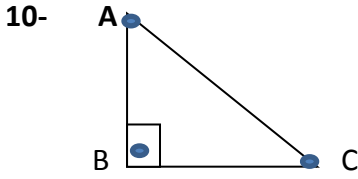
ÇÖZÜM:

.....

.....

.....

.....



Yandaki dik üçgende $s(\widehat{A})$, $s(\widehat{C})$ nin $2/3$ 'ü ise $s(\widehat{C})$ kaç derecedir? (9 Puan)

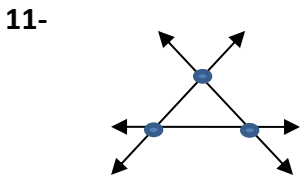
ÇÖZÜM:

.....

.....

.....

.....

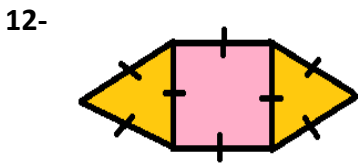


Yandaki şekilde köşe sayısı ile açı sayısının toplamı kaçtır? (8 Puan)

AÇI SAYISI:

KÖŞE SAYISI:

TOPLAMI:



Yanda, eşkenar üçgenler ve kareden çakıştırılarak oluşturulan tüm şeklin çevresi 72 cm ise karenin çevresi kaç cm'dir? (9 Puan)

ÇÖZÜM:

.....

.....

.....

BAŞARILAR DİLERİM

Orhan ÇABUK