

AD:.....
SOYAD:
SINIF-NO:

1.DÖNEM
FEN ve TEKNOLOJİ 1. SINAVI

www.suleymantanriverdi.com

DOĞRU:
YANLIŞ:
PUAN:

burun

eklem

kemik

üç

kalp

akciğer

sigara

damar

nabız

uzun

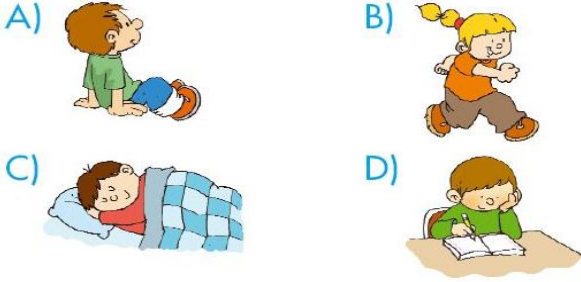
1 Aşağıdaki cümleleri yukarıda bulunan kelimelerin uygun olanları ile tamamlayınız. (30 PUAN)

- Kalbin atış ritmine denir.
- İskeleti oluşturan beyaz renkli yapıya .. denir.
- Kol ve bacak kemikleri kemiklerdir.
- İskeletimiz kısımdan oluşur.
- Vücuda alınan oksijeni temizleyip nemlendiren organa denir.
- Vücudumuza aldığımız oksijeni temizleyen organa denir.
- solunum organlarının en büyük düşmanıdır.
- Kanın vücudumuzda dolaşmasını sağlayan yapıya denir.
- Kanın vücuda pompalanmasını sağlayan organa denir.
- Kemiklerin birbirine bağlandıkları yere denir.

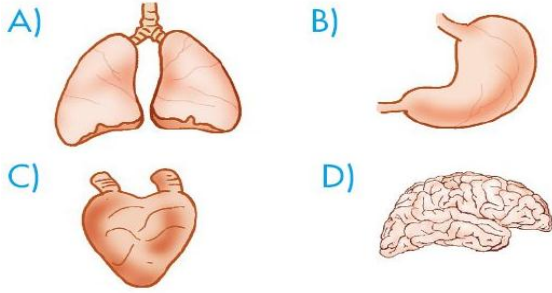
2 Aşağıdaki ifadelerden doğru olanlarına *D*, yanlış olanlarına *Y* yazınız. (21 PUAN)

- ☐ İnsan vücudunun dik durmasını sağlayan yapıya iskelet denir.
- ☐ Soluk aldığımızda akciğerlerimizdeki hava boşalır.
- ☐ İnsan vücuduna hayat veren sıvıya damar denilir.
- ☐ Burun, yutak, yemek borusu ve akciğer solunum organıdır.
- ☐ Muayene olurken doktorların sırtımızı ve göğsümüzü dinlediği alete mikroskop denir.
- ☐ İnsan vücudunun dik durmasını sağlayan yapıya iskelet denir.
- ☐ İskelet sistemimizin gelişimi için süt ve süt ürünlerini tüketmeliyiz.

3 Aşağıdakilerden hangisinin nabız sayısı en fazladır?



4 İçimize çektiğimiz havanın temizlenmesi aşağıdaki organların hangisinde gerçekleşir?



5 Kalp vücudumuzun hangi bölümünde bulunur?

- A) Göğüs boşluğunda
- B) Karın boşluğunda
- C) Başımızın arka kısmında
- D) Midemizin yanında

6 Resimdeki çocuk aşağıdakilerden hangisini yapmaktadır?

- A) Ateşini ölçüyor.
- B) Elleri tutuyor.
- C) Oyun oynuyor.
- D) Nabzını ölçüyor.



- 7
- Kan, vücudumuzda besin ve oksijen taşıyan sıvıdır.
 - Kan, vücutta damar adı verilen yapılar içinde dolaşır.
 - Kanın damarlar içindeki hareketini akciğerler sağlar.
 - Kalp, saniyede yaklaşık bir kez kasılıp pompalama yapar.

Yukarıdaki bilgilerden kaç tanesi doğrudur?

- A) 1
- B) 2
- C) 3
- D) 4

8



Ömer, Y şeklinde bir plastik veya cam boru iki uzun ve bir kısa plastik hortum ayrıca bir adet huni alarak deney yapmaya hazırlanıyor. Ömer aşağıdakilerden hangisini yapmaya çalışıyor olabilir?

- A) Ateş ölçer
- B) Stetoskop
- C) Enjektör
- D) Termometre

- | | |
|-----------------------|----------|
| 1. Kol kemikleri | a. Uzun |
| 2. Kalça kemikleri | b. Kısa |
| 3. Kafatası kemikleri | c. Yassı |
| 4. Kaburga kemikleri | |

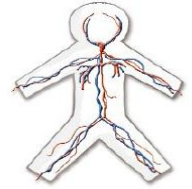
9

Yukarıdaki kemiklerle - çeşitlerini eşleştirirsek hangisi doğru olur?

- | | |
|----------|----------|
| A) 1 - c | B) 2 - c |
| C) 3 - a | D) 4 - b |

10

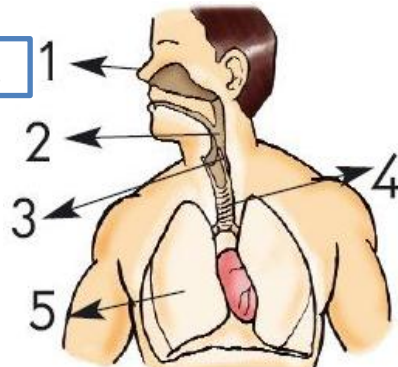
Elif yandaki gibi bir kâğıt bebek hazırlayıp bu bebeğin üzerine kırmızı ve mavi iplikler yaptırdı.



Elif bu iplerle aşağıdakilerin hangisini göstermeye çalışmaktadır?

- A) Damarları
- B) Akciğerleri
- C) Soluk borusunu
- D) Sinirleri

11



- | |
|---------|
| 1-..... |
| 2-..... |
| 3-..... |
| 4-..... |
| 5-..... |

Yukarıdaki insan modelinde numaralandırılmış kısımların adlarını yandaki numaralara göre yazınız. (9 PUAN)