

3-A SINIFI DOĞAL SAYILAR KONUSUNUN DEĞERLENDİRME ETKİNLİĞİ

ADI SOYADI

VELİSİNİN İMZASI

OKUL NO

3-A SINIF ÖĞRETMENİ H.AHMET CİN

1.AŞAĞIDAKİ SAYILARDAN BİR ÖNCE VE BİR SONRAKİ SAYIYI YAZINIZ.

<div style="display: flex; justify-content: space-around;"> <div><div style="border: 1px solid black; padding: 2px 10px;"> </div>118<div style="border: 1px solid black; padding: 2px 10px;">.....</div><div style="border: 1px solid black; padding: 2px 10px;">.....</div><div style="border: 1px solid black; padding: 2px 10px;">667</div><div style="border: 1px solid black; padding: 2px 10px;">.....</div></div> <div style="display: flex; justify-content: space-around; margin-top: 10px;"> <div><div style="border: 1px solid black; padding: 2px 10px;">.....</div>667<div style="border: 1px solid black; padding: 2px 10px;">.....</div><div style="border: 1px solid black; padding: 2px 10px;">.....</div><div style="border: 1px solid black; padding: 2px 10px;">403</div><div style="border: 1px solid black; padding: 2px 10px;">.....</div></div> <div style="display: flex; justify-content: space-around; margin-top: 10px;"> <div><div style="border: 1px solid black; padding: 2px 10px;">.....</div>890<div style="border: 1px solid black; padding: 2px 10px;">.....</div><div style="border: 1px solid black; padding: 2px 10px;">.....</div><div style="border: 1px solid black; padding: 2px 10px;">299</div><div style="border: 1px solid black; padding: 2px 10px;">.....</div></div> <div style="display: flex; justify-content: space-around; margin-top: 10px;"> <div><div style="border: 1px solid black; padding: 2px 10px;">.....</div>709<div style="border: 1px solid black; padding: 2px 10px;">.....</div><div style="border: 1px solid black; padding: 2px 10px;">.....</div><div style="border: 1px solid black; padding: 2px 10px;">345</div><div style="border: 1px solid black; padding: 2px 10px;">.....</div></div> <div style="display: flex; justify-content: space-around; margin-top: 10px;"> <div><div style="border: 1px solid black; padding: 2px 10px;">.....</div>400<div style="border: 1px solid black; padding: 2px 10px;">.....</div><div style="border: 1px solid black; padding: 2px 10px;">.....</div><div style="border: 1px solid black; padding: 2px 10px;">665</div><div style="border: 1px solid black; padding: 2px 10px;">.....</div></div> </div></div></div></div></div>	<div style="display: flex; justify-content: space-around;"> <div><div style="border: 1px solid black; padding: 2px 10px;">.....</div>450<div style="border: 1px solid black; padding: 2px 10px;">.....</div><div style="border: 1px solid black; padding: 2px 10px;">.....</div><div style="border: 1px solid black; padding: 2px 10px;">560</div><div style="border: 1px solid black; padding: 2px 10px;">.....</div></div> <div style="display: flex; justify-content: space-around; margin-top: 10px;"> <div><div style="border: 1px solid black; padding: 2px 10px;">.....</div>462<div style="border: 1px solid black; padding: 2px 10px;">.....</div><div style="border: 1px solid black; padding: 2px 10px;">.....</div><div style="border: 1px solid black; padding: 2px 10px;">432</div><div style="border: 1px solid black; padding: 2px 10px;">.....</div></div> <div style="display: flex; justify-content: space-around; margin-top: 10px;"> <div><div style="border: 1px solid black; padding: 2px 10px;">.....</div>150<div style="border: 1px solid black; padding: 2px 10px;">.....</div><div style="border: 1px solid black; padding: 2px 10px;">.....</div><div style="border: 1px solid black; padding: 2px 10px;">253</div><div style="border: 1px solid black; padding: 2px 10px;">.....</div></div> <div style="display: flex; justify-content: space-around; margin-top: 10px;"> <div><div style="border: 1px solid black; padding: 2px 10px;">.....</div>794<div style="border: 1px solid black; padding: 2px 10px;">.....</div><div style="border: 1px solid black; padding: 2px 10px;">.....</div><div style="border: 1px solid black; padding: 2px 10px;">149</div><div style="border: 1px solid black; padding: 2px 10px;">.....</div></div> <div style="display: flex; justify-content: space-around; margin-top: 10px;"> <div><div style="border: 1px solid black; padding: 2px 10px;">.....</div>403<div style="border: 1px solid black; padding: 2px 10px;">.....</div><div style="border: 1px solid black; padding: 2px 10px;">.....</div><div style="border: 1px solid black; padding: 2px 10px;">760</div><div style="border: 1px solid black; padding: 2px 10px;">.....</div></div> </div> </div></div></div></div>
---	--

2.AŞAĞIDAKİ TABLODA BOŞ BIRAKILAN YERLERİ DOLDURUNUZ.

	Yüzlükler	Onluklar	Birlikler
			
Sayı:			
Basamak adları	Yüzler b.	Onlar b.	Birler b.
Rakamın basamak değeri			

	Yüzlükler	Onluklar	Birlikler
			
Sayı:			
Basamak adları	Yüzler b.	Onlar b.	Birler b.
Rakamın basamak değeri			

3- 0,7 VE 8 RAKAMLARINI HER DEFAKINDA BİRER KEZ KULLANARAK;

- 3 basamaklı doğal sayı oluşturunuz.
- Bu rakamlarla oluşturulabilecek en büyük sayı kaçtır?
- Bu rakamlarla oluşturulabilecek en küçük sayı kaçtır?
- 750'den büyük en küçük sayı kaç olur?
- 800'den küçük en büyük sayı kaç olur?.....

4- DOĞAL SAYILARINI SEMBOL KULLANARAK BÜYÜKTEN KÜÇÜĞE DOĞRU SIRALAYINIZ.

- 201, 100, 598, 999 ve 670
- 325,657,269,845, ve 364
- 367,169,247,561 ve 957
- 154,324,841,964 ve 352

5- 8 BİRLİK, 9 YÜZLÜK VE 2 ONLUK OLARAK ÇÖZÜMLENEN SAYI İLE İLGİLİ AŞAĞIDAKİ SORULARI YANITLAYIN.

- Yukarıdaki sayı kaçtır?
- Bu sayıda, sayı değeri en büyük olan rakam kaçtır?
- Basamak değeri en büyük olan rakam hangi basamaktadır?
- Bu sayının basamak değerleri toplamı kaçtır?.....
- Bu sayının sayı değerleri toplamı kaçtır?.....

6. AŞAĞIDA VERİLEN DOĞAL SAYILARIN HANGİ ONLUĞA YAKIN OLDUKLARINI ÖRNEĞE UYGUN OLARAK YAZINIZ.

516	→	520	183	→		222	→		245	→	
144	→		672	→		439	→		369	→	

7.

606	383	710	555	641	998	312
-----	-----	-----	-----	-----	-----	-----

AŞAĞIDA VERİLEN BİLGİLERE GÖRE YUKARIDAKİ SAYILARI BOŞ BIRAKILAN YERLERE YAZALIM.

a. Yüzler basamağında 3, birler basamağında 2 rakamı vardır. ...

312

b. Onlar basamağında 5 vardır.

c. Yüzler basamağında 9, birler basamağında 8 rakamı vardır.

d. Yüzler basamağındaki rakamın basamak değeri 600, birler basamağındaki rakamın basamak değeri 6'dır.

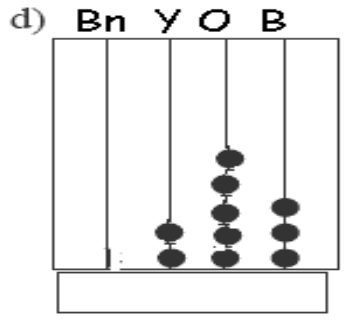
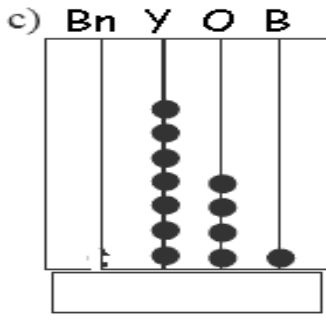
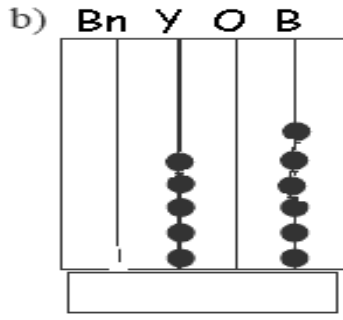
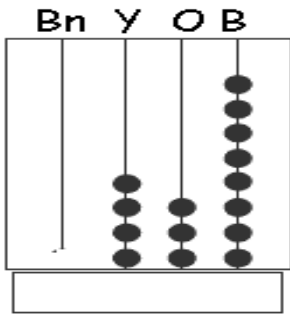
.....

e. Onlar basamağındaki rakamın basamak değeri sıfırdır.

8- 593 doğal sayısında yüzler basamağındaki rakam 3 arttırılır, onlar basamağındaki rakam 2

azaltılırsa oluşan yeni sayıda nasıl bir değişiklik olur?

9- ABAKÜSTEKİ SAYILARI ALTLARINA YAZIN



10- AŞAĞIDAKİ İKİ SAYIYI İNCELEYİNİZ. BOŞLUĞA (>, =, <) İŞARETLERİNDEN UYGUN OLANI YAZINIZ

345	366	660	600	546	356	666	199
677	667	808	709	770	760	808	799
299	399	688	677	299	391	588	577
365	366	754	744	565	566	911	199
167	667	980	908	567	567	580	508

11-AŞAĞIDAKİ TABLOYU İNCELEYİNİZ. TEK SAYILAR İÇİN “T”; ÇİFT SAYILAR İÇİN “Ç” YAZINIZ

Sayı	Tek	Çift	Sayı	Tek	Çift	Sayı	Tek	Çift	Sayı	Tek	Çift
25			365			31			657		
37			366			55			485		
44			473			66			359		
29			211			65			127		
82			113			72			400		
96			159			69			200		
120			188			369			110		
146			600			148			324		
179			490			258			357		
167			216			357			328		
888			687			333			747		
147			247			269			852		

SAYIN VELİ :Bu etkinlik çocuğunuzun öğrendiklerini hatırlatmak,tekrar etmek ve pekiştirmek amacıyla hazırlanmıştır.Çocuğunuzu tanımak,teşvik etmek ve desteklemek amacıyla birlikte yapınız ve değerlendiriniz

EMEKLİ ÖĞR:H.AHMET CİN