

ADI SOYADI

VELİSİNİN İMZASI

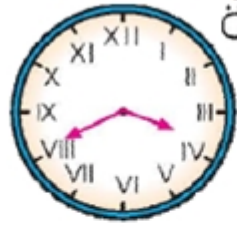
OKUL NO

3.SINIF ÖĞRETMENİ

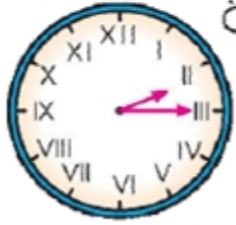
1. Aşağıdaki saatlerin okunuşlarını karşlarına yazınız.



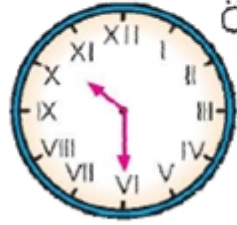
Öğleden önce



Öğleden sonra



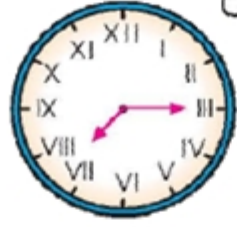
Öğleden sonra



Öğleden önce



Öğleden sonra



Öğleden önce

2. Aşağıdaki tabloda istenenleri yerlerine yazınız.

Zaman	30 dakika önce	5 dakika sonra
04 . 15		
03 . 30		
12 . 10		
06 . 20		
10 . 40		
08 . 35		

3. Aşağıda verilen sayısal saatleri karşlarındaki kadrana yel kovan ve akrep çizerek gösteriniz.

08 : 05



11 : 35



17 : 10



23 : 55



04 : 20



20 : 20



05 : 20



21 : 20



09 : 45




11 : 20



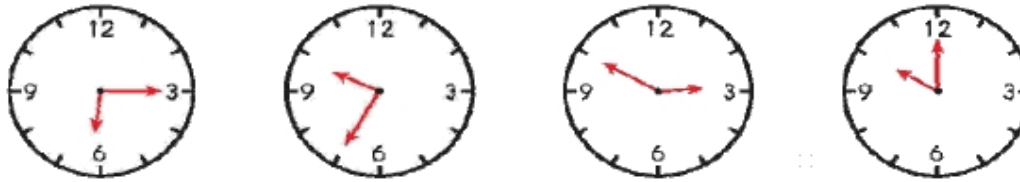
4. Aşağıdaki tabloda bazı şehirlerin tren kalkış ve varış saatleri verilmiştir. Bu yolculukların ne kadar sürdüğünü karşlarına yazınız.

Şehir adları	Kalkış saati	Varış saati	Geçen süre
Ankara-Kütahya	18.10	22.40	
Balıkesir-Manisa	03.25	06.30	
İzmit-Ankara	10.15	17.25	
Kayseri-Sivas	01.30	05.45	
Erzincan-Kars	12.40	22.00	

5. Aşağıdaki saatlerin kaç gösterdiğini altlarına yazınız.



6. Aşağıdaki saatlerin sabah saati ile okunuşunu yazınız.



7. Aşağıdaki saatlerin akşam saati ile okunuşunu yazınız.



8. Ortadaki dijital saatte verilen üstteki saat kadranında gösteriniz ve verilen öncesini ve sonrasını bularak çizip yazınız.

25 dakika önce

25 dakika sonra

öğleden sonra 9.

21:00

30 dakika önce

30 dakika sonra

öğleden önce 5.

05:00

15 dakika önce

15 dakika sonra

öğleden sonra 1.

13:00

20 dakika önce

20 dakika sonra

öğleden önce 7

07:00