

















KUMBARAMDAKİ PARALAR

1					Kumbaramda kaç para var?
	4 tane	3 tane	2 tane	4 tane	
a)	6TL 70kr.	b)	6TL 80kr.	c)	5TL 90kr.

2					Kumbaramda kaç para var?
	2 tane	2 tane	2 tane	4 tane	
a)	4TL 10kr.	b)	3TL 90kr.	c)	3TL 50kr.

3					Kumbaramda kaç para var?
	4 tane	3 tane	4 tane	2 tane	
a)	5TL 70kr.	b)	6TL 70kr.	c)	7TL 30kr.

4					Kumbaramda kaç para var?
	2 tane	2 tane	4 tane	3 tane	
a)	5TL 10kr.	b)	5TL 35kr.	c)	4TL 80kr.

MANAV ALIŞVERİŞİ



1kg 5 TL



1kg 5 TL



1kg 4 TL



1kg 5 TL



1kg 3 TL



1kg 4 TL



1kg 4 TL

Aşağıdaki 8 sorunun cevaplarını bulup işaretleyin.

8 kg armut ve 7 kg patates için kaç TL ödemeliyim?.....	2 kg portakal ve 3 kg üzüm aldım. Kasaya 50TL verdim. Kaç TL para üstü almalıyım?.....
4 kg domates ve 3 kg portakal için kaç TL ödemeliyim?.....	6 kg patates ve 4 kg domates aldım. Kasaya 50TL verdim. Kaç TL para üstü almalıyım?.....
4 kg havuç ve 4 kg üzüm için kaç TL ödemeliyim?.....	2 kg patlıcan, 9 kg armut ve 5 kg havuç aldım. Kasaya 100TL verdim. Kaç TL para üstü almalıyım?.....
2 kg üzüm ve 5 kg armut için kaç TL ödemeliyim?.....	
6 kg havuç, 5 kg domates ve 4 kg portakal için kaç TL ödemeliyim?.....	
22 - 68 - 35 - 29 - 62 - 42 - 40 - 25 - 10	

SAYI ÖRÜNTÜLERİ

Örüntülerdeki kuralı bul ve örüntüyü devam ettir. Cevabı işaretle.

21	25	29	33	37	?
23	17	19	13	15	?
42	44	50	52	58	?
38	33	27	20	12	?
22	26	31	37	44	?
32	30	26	20	12	?
2 - 60 - 3 - 52 - 9 - 41					