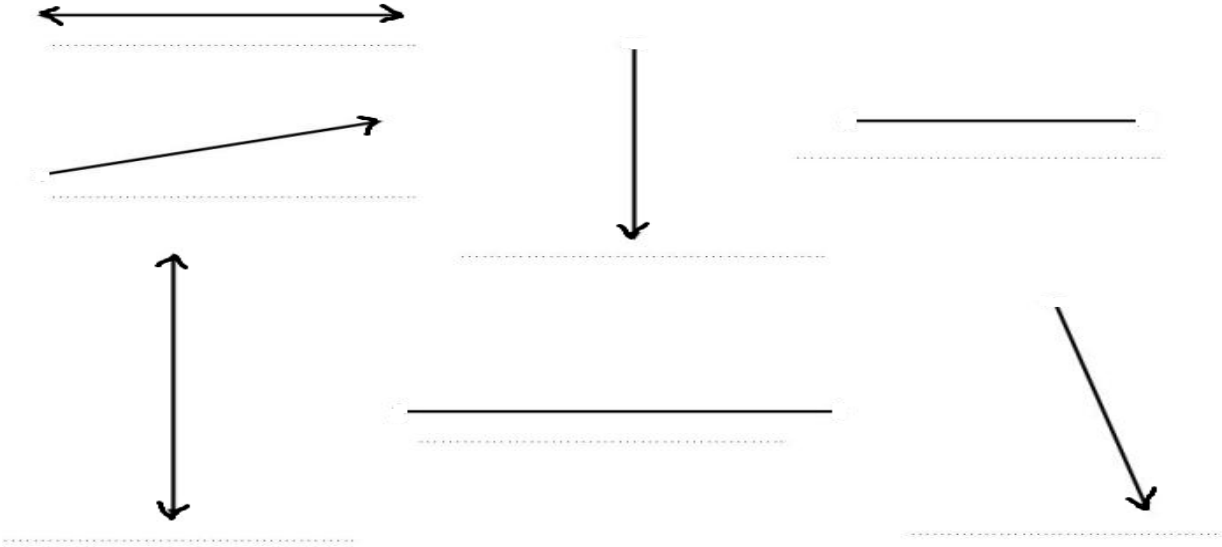



DOĞRU, DOĞRU PARÇASI, İŞİN

Aşağıdaki şekillerin adlarını yazınız.

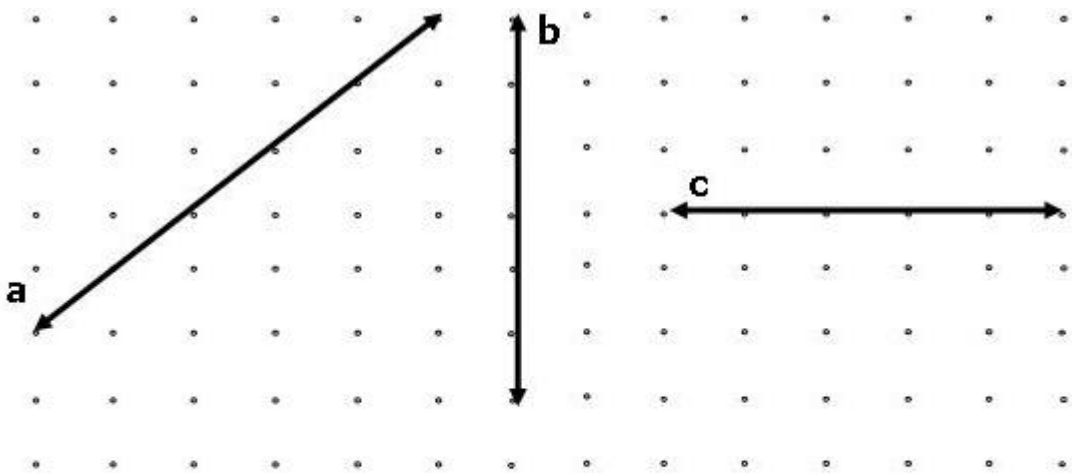


Noktalı alana cetvel kullanarak doğru, doğru parçası ve ışın çizin. Doğruya ad veriniz.



YATAY, EĞİK, DİKEY DOĞRULAR

Aşağıdaki noktalı alandaki doğruları inceleyiniz, boşlukları tamamlayınız.




a doğrusu doğrudur.

b doğrusu doğrudur.

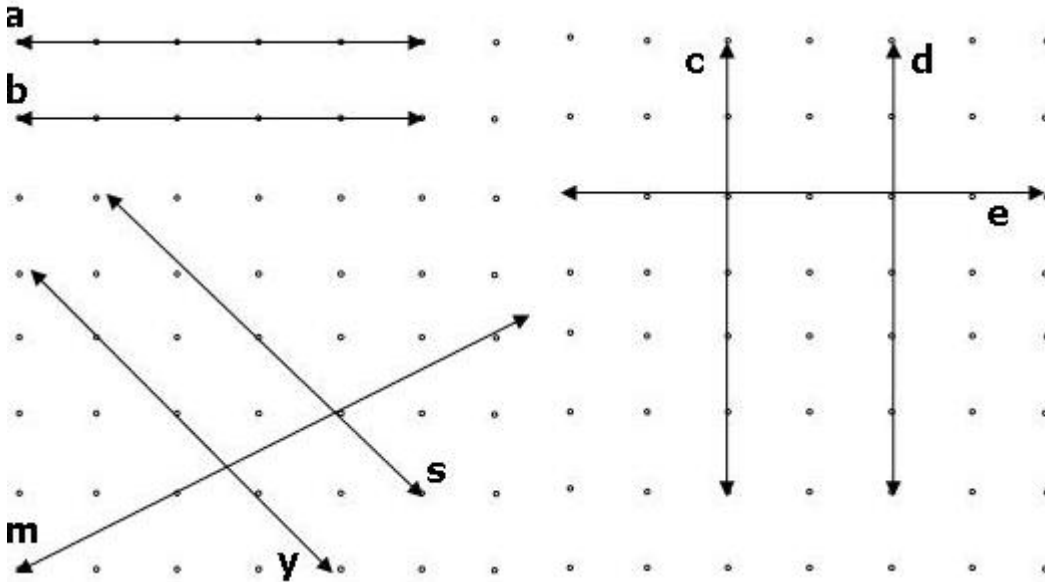
c doğrusu doğrudur.

Aşağıdaki noktalı alana cetvel kullanarak eğik, yatay ve dikey doğrular çiziniz, doğrulara ad veriniz.



PARALEL, KESİŞEN, DİK KESİŞEN DOĞRULAR

Aşağıdaki doğruların birbirlerine göre durumlarını inceleyiniz, boşlukları tamamlayınız.



a ve b doğruları birbirine göre doğrulardır.

d ve e doğruları birbirine göre doğrulardır.

s ve m doğruları birbirine göre doğrulardır.


c ve d doğruları birbirine göre doğrulardır.

c ve e doğruları birbirine göre doğrulardır.

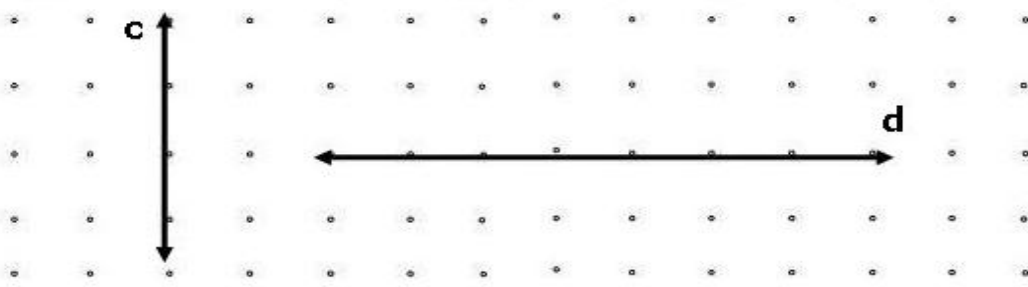
y ve s doğruları birbirine göre doğrulardır.

y ve m doğruları birbirine göre doğrulardır.

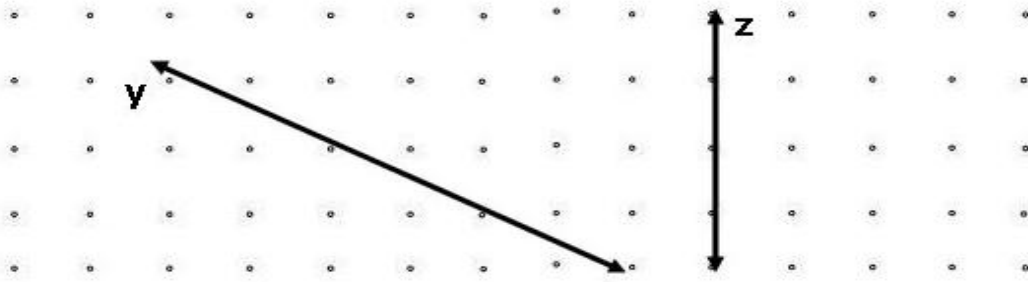
Aşağıdaki noktalı alana “a doğrusu”na paralel bir doğru çiziniz.



Aşağıdaki noktalı alana öyle bir doğru çizin ki, c doğrusuna paralel, d doğrusu ile dik kesişen olsun.



Aşağıdaki noktalı alana öyle bir doğru çizin ki, y doğrusu ile paralel, z doğrusu ile kesişen olsun.



NOKTA

Aşağıdaki tabloda belirtilen noktaları istenen renklerle belirtiniz.

	A	B	C	D	E
0					
1					
2					
3					
4					
5					

- A1 – B1 – A4 – B4 noktalarını kırmızı renkle belirtin.
- C1 – E1 – C3 – E3 noktalarını mavi renkle belirtin.
- C5 – D4 – E5 noktalarını kahverengi renkle belirtin.

DEĞERLENDİRME TESTİ

1.) Bir noktadan kaç tane doğru geçebilir?

A.) 3 tane

B.) 5 tane

C.) sınırsız

2.) Aşağıdakilerden hangisi doğru modelidir?

A. 

B. 

C. 

3.) Aşağıdakilerden hangisi yanlıştır?


A. Doğru iki uçtan da uzatılabilir.


B. Doğru parçası iki uçtan uzatılabilir.


C. Işın bir uçtan uzatılabilir.


D.

4.) Aşağıdakilerden hangisi ışın modelidir?

A.) 

B.) 

C.) 

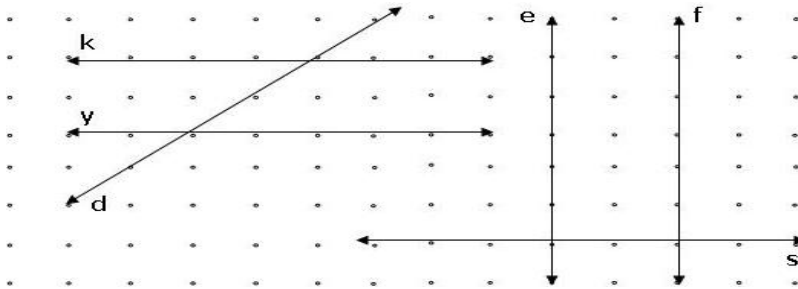
5.) 

Yukarıdaki geometrik şeklin okunuşu hangisidir?

A.) m ışını

B.) m doğru parçası

C.) m doğrusu



6. – 7. – 8. – 9. ve 10. soruları yandaki şekle göre yanıtlayınız.

6.) Aşağıdaki doğrulardan hangileri birbirine paraleldir?

A.) d ve k doğruları

B.) e ve f doğruları

C.) s ve e doğruları

7.) Hangi doğrular birbiri ile kesişir ?

A.) y ve d doğruları

B.) k ve y doğruları

C.) e ve f doğruları

8.) Hangi doğrular birbiri ile dik kesişen doğrulardır ?

A.) f ve s doğruları

B.) y ve d doğruları

C.) d ve e doğruları

9.) Her iki uçlarından da uzatırsak hangi doğrular bir noktada kesişirler ?

A.) k ve y doğruları

B.) e ve f doğruları

C.) d ve s doğruları

10.) Aşağıdakilerden hangisi yanlıştır ?

A.) e ve f doğruları birbirine paralel doğrulardır.

B.) k ve d doğruları birbiri ile dik kesişen doğrulardır.

C.) e ve s doğruları birbiri ile dik kesişen doğrulardır.