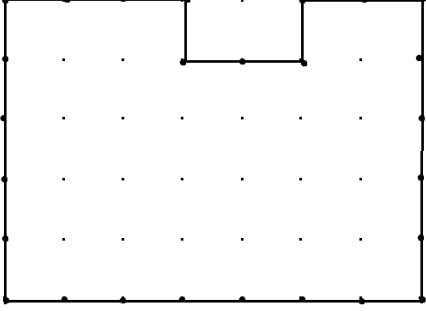


Adı Soyadı:

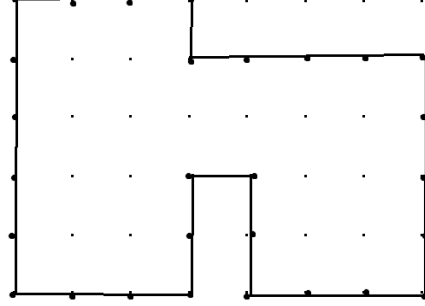
Tarih:

ÇEVRE

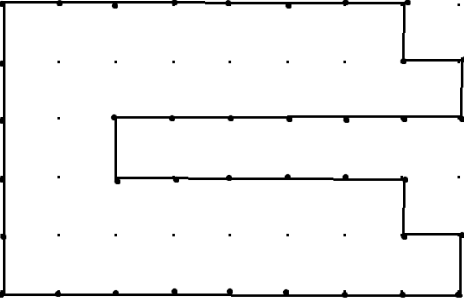
Aşağıdaki geometrik şekillerin çevre uzunluklarının kaç birim olduğunu altlarına yazınız.



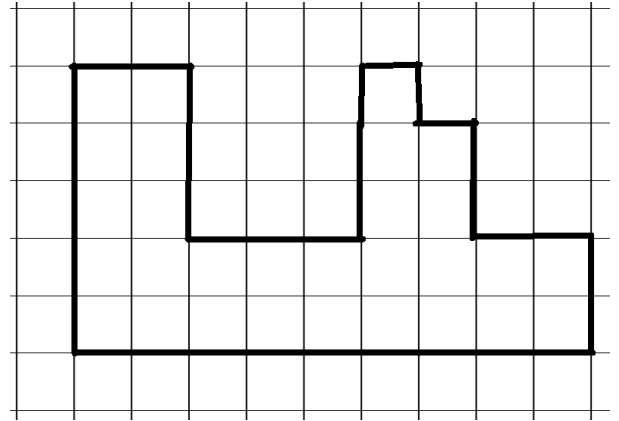
Çevre=



Çevre=



Çevre=



Çevre=

6 cm



Çevre=

8 cm



Çevre=