

MATEMATİK DEĞERLENDİRME TESTİ -1-

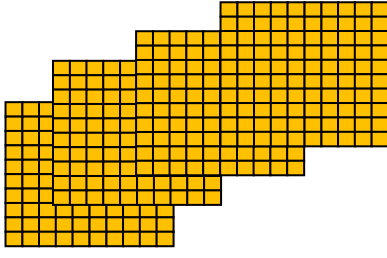
1- Verilen sayıların hangisinin okunuşu doğrudur?

A) 385= Üç yüz seksen üç

B) 201= İki yüz bir

C) 816= Altı yüz on sekiz

2-



Yandaki onluk taban bloklarıyla gösterilen sayı kaçtır?

A) 401

B) 402

C) 302

3- “509” sayısında 5 ve 9 sayısı yer değiştirirse yeni sayı kaç olur?

A) Elli dokuz

B) beş yüz dokuz

C) dokuz yüz beş

4- Aşağıdaki sayı sıralamalarından hangisi doğrudur?

A) $265 > 89 < 37$

B) $63 < 89 > 30$

C) $70 > 52 > 61$

5- 345 , 370 , 300 sayılarından hangisi en büyüktür?

A) 345

B) 370

C) 300

6- Tek doğal sayılar nelerdir?

A)0-1-2-3-4

B)0-2-4-6-8

C)1-3-5-7-9

7- Çift doğal sayılar nelerdir?

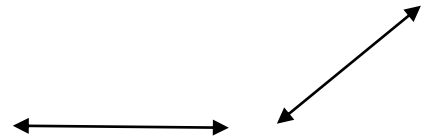
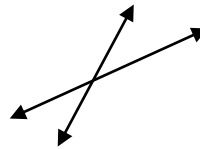
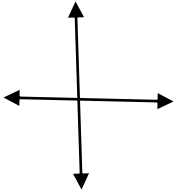
A)7-9-4-8

B)1-3-5-7-9

C)0-2-4-6-8

8- Aşağıda verilen doğruların isimlerini yazın?

(yatay doğru, kesişen doğrular, kesişen doğrular, paralel doğrular, eğik doğru)



9- Aşağıdaki sayıları küçükten büyüğe doğru sıralayın.

39,98,48,

49,52,29,

136,198,145

296,687,132,

10- Aşağıdaki sayıları çözümleyiniz.

642= yüzlük + onluk +birlik

320=yüzlük +onluk +birlik

411= (.....X 100) + (.... X 10) + (... X 1)

802 = (.....X 100) + (.....X 10) + (.....X 1)

11- Aşağıdaki sayıların arasına > , < veya = işaretlerinden uygun olanları koyunuz.

Büyüktür > , küçüktür < , eşittir =

2345

239124

211211

5034

753600

5959

200279

408290

680689

12--- 9-14-?-24-39 Sayma dizininde ? yerine hangi sayı gelmelidir?

- A) 19 B) 21 C) 22

13- (4 , 2 , 3) rakamlarını birer kez kullanmak koşulu ile yazabileceğimiz üç rakamlı en küçük sayı hangisidir?

- A) 234 B) 243 C) 324

14- “ 4 , 1 , 8 “ rakamları ile yazılabilen üç basamaklı;

- A) En büyük doğal sayı = D) En küçük doğal sayı =
B) En büyük tek doğal sayı = E) En küçük tek doğal sayı =
C) En büyük çift doğal sayı = F) En küçük çift doğal sayı =

15- “ 3 + 6 = 9 ” işleminin Romen rakamları ile gösterilişi aşağıdakilerden hangisidir?

- A) III + V = VIII B) IV + V = XI C) III + VI = IX

16- (246 < ?) karşılaştırılmasında (?) işareti yerine gelebilecek en küçük sayı kaçtır ?

- A) 147 B) 245 C) 247

17- “703” sayısında 7 ve 3 sayısı yer değiştirirse yeni sayı kaç olur?

- A) Üç yüz yedi B) Üç yüz yetmiş C) Yedi yüz üç

18- “4AB – 136 = 346” işleminde “A – B” =?

- A) 5 B) 6 C) 7

19- Bir çıkarma işleminde çıkan 78, fark 47, eksilen kaçtır?

- A) 125 B) 126 C) 31

20- 757 İşleminde bilinmeyen A ve B terimlerinin farkı kaçtır ?

- $\begin{array}{r} \text{AB} \\ - \text{AB} \\ \hline 680 \end{array}$ A) 4 B) 0 C) 6

21- 250 — A = 179 eşitliğinin sağlanması için, "A" yerine kaç yazılmalıdır?

- A) 73 B) 71 C) 70

22- A - 413 = 398 eşitliğinde, "a" yerine hangi sayı yazılmalıdır?

- A) 811 B) 711 C) 911

23- 412 - 109 = işleminin sonucu kaçtır?

- A) 313 B) 303 C) 293

24- Beş yüzlükten oluşan sayının 10 eksiği kaçtır?

- A) 390 B) 490 C) 690

25- 30 eksiği 34 olan sayının 15 fazlası kaçtır?

- A) 69 B) 59 C) 79

BAŞARILAR