

1-Ali ve Ahmet mağazaya gittiler. Kazak için 108 TL, pantolon için 226 TL ve gömlek için 14 TL ödediler. Ali ve Ahmet toplam kaç lira para harcadılar?

Çözüm:

2-“Dört yüz yetmiş sekiz” ve “üç yüz elli altı” sayılarının toplamını bulunuz?

Çözüm:

3-265 sayısını en yakın onluğa yuvarlayıp elde ettiğimiz sayıya 368 eklersem sonuç kaç olur?

Çözüm:

4-Ali Bey, pazarda satmak için arabasına 213 kilogram elma, 167 kilogram armut ve 567 kilogram üzüm yükledi. Ali Bey arabasına toplam kaç kilogram meyve yükledi?

Çözüm:

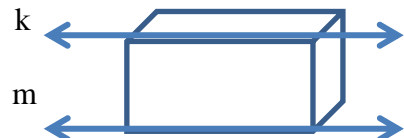
5-236 TL, 205 TL ve 37 TL verilerini kullanarak bir problem kurun ve çözün.

6-Bir televizyonun fiyatı 376 TL’dir. Bilgisayarın fiyatı ise televizyon fiyatından 189 TL fazladır. Televizyon ve bilgisayar toplam kaç liradır?

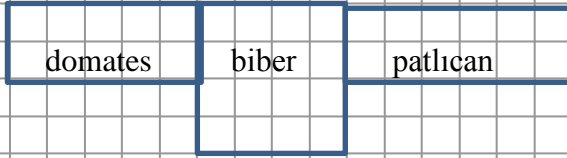
Çözüm:

7-Dikdörtgenin üzerindeki k ve m doğruları için hangisini söyleyebiliriz.

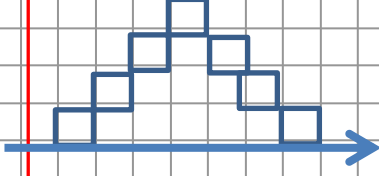
- A) Dik doğrulardır
- B) Paralel doğrulardır.
- C) Kesişen doğrulardır.



8- Ali Bey tarlasını aşağıdaki gibi bölümlere ayırdı ve sebze ekti.
Ali Bey toplam kaç birim kare alana **domates** ekmiştir? (Her kare 1 birim)



9-Aşağıdaki şeklin verilen doğruya göre simetriği hangisidir?



A)



B)



C)



10-Aşağıya doğru, doğru parçası ve ışın çiziniz.(Cetvel kullanabilirsiniz.)
Doğru doğru parçası ışın

Halil AYGÜN
Sınıf Öğretmeni