

Adı ve Soyadı:.....

Puan:.....

**3.Sınıflar Matematik Dersi 1.Dönem 2. Yazılı Sınav Soruları**


\* Aşağıdaki kutulara uygun şekilleri cetvel kullanarak çizin.(2X6=1 2P)

Yatay doğru çiz.	Dikey doğru çiz.	Eğik doğru çiz.	Paralel doğrular çiz.	Kesişen doğrular çiz.	Dik doğrular çiz.

\* Aşağıdaki örüntülerin kuralını belirleyerek noktalı yerleri uygun şekilde doldurun.(2X4=8P)

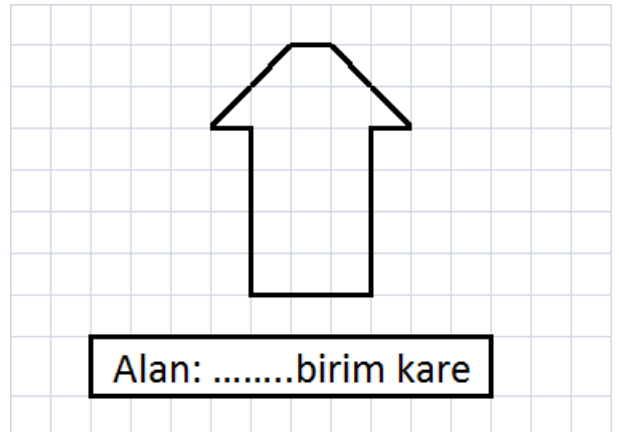
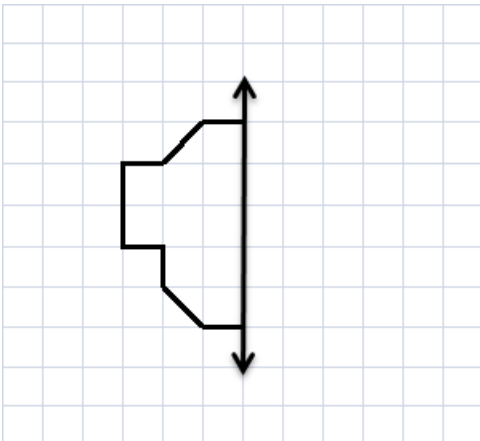
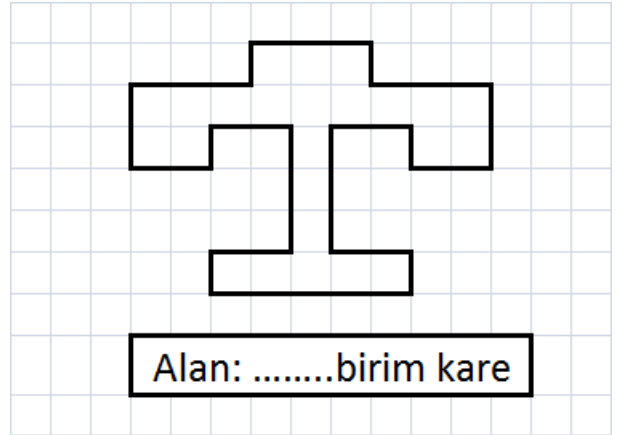
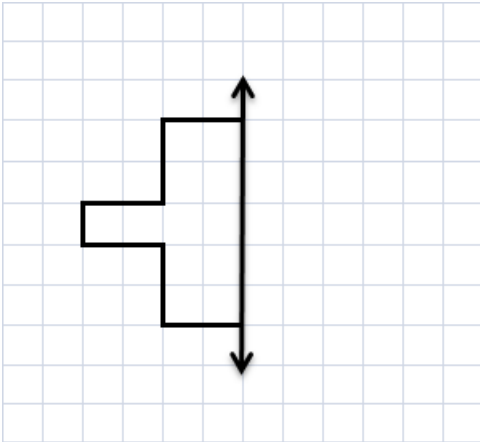
- 3 – 5 – 8 – 10 – 13 - ..... - ..... - ..... - .....

- 1 – 2 – 4 – 8 - ..... - .....

-  .....-  - ..... - ..... - .....

\* Aşağıdaki şekillerin simetriğini çizin.(5X2=1 0P)

\* Aşağıdaki şekillerin alanlarını hesaplayınız.(5X2=1 0P)



\* Aşağıdaki toplama işlemlerini yapınız.(3X2=6P)

$$\begin{array}{r} 574 \\ + 148 \\ \hline \end{array} \quad \begin{array}{r} 286 \\ + 464 \\ \hline \end{array}$$

\* Aşağıdaki toplama işlemlerinde verilmeyeni bulunuz.(3X2=6P)

$$\begin{array}{r} 15... \\ + ...23 \\ \hline 5...9 \end{array} \quad \begin{array}{r} ...39 \\ + 5...6 \\ \hline 71... \end{array}$$

\* Aşağıdaki çıkarma işlemlerini yapınız.(4X2=8P)

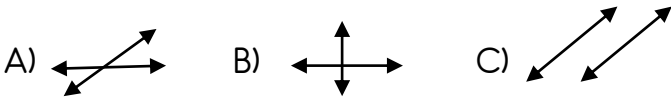
$$\begin{array}{r} 870 \\ - 235 \\ \hline \end{array} \quad \begin{array}{r} 700 \\ - 326 \\ \hline \end{array}$$

### TEST

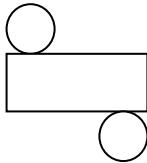
1-Aşağıdakilerden hangisi ışına örnektir?

A) ——— B) ————— C) <—>

2-Aşağıdakilerden hangisi paralel doğrulara örnektir?



3-Yandaki şekil hangi geometrik cismin açılımıdır?



A) Silindir B) Koni C) Küre

4-Namik Kemal İlkokulunda 186 kız öğrenci ve kız öğrencilerden 36 fazla erkek öğrenci vardır. Okuldaki kız ve erkek öğrencilerin toplamı kaçtır?

A) 222 B) 408 C) 308

5- Birler basamağında 4, yüzler basamağında 7 ve onlar basamağında 3 olan sayı kaçtır?

A) 473 B) 743 C) 734

6- 746 sayısındaki 4 ve 7 rakamları yer değiştirilirse yeni oluşan sayının onlar ve yüzler basamaklarının basamak değerleri toplamı kaçtır?

A) 740 B) 470 C) 47

7- 8, 3, 5 rakamlarıyla yazılabilecek en büyük çift sayı hangisidir?

A) 853 B) 835 C) 538

8- Buse'nin 142, Dila'nın Buse'den 26 eksik kitabı vardır. Buse ve Dila'nın kitaplarının toplamı kaçtır?

A) 258 B) 116 C) 312

9- 254, 156, 354, 260 sayıları büyükten küçüğe doğru sıralandığında baştan ikinci sayı hangisi olur?

A) 260 B) 354 C) 254

10- Üç basamaklı en büyük çift sayıdan, iki basamaklı en büyük tek sayıyı çıkarırsak sonuç kaç olur?

A) 900 B) 899 C) 897

Not: Her test sorusu 4 puan olup, toplam 40 puandır.

**Test sorularının cevaplarını optik forma da işaretleyiniz.**

MATEMATİK			
1	(A)	(B)	(C)
2	(A)	(B)	(C)
3	(A)	(B)	(C)
4	(A)	(B)	(C)
5	(A)	(B)	(C)
6	(A)	(B)	(C)
7	(A)	(B)	(C)
8	(A)	(B)	(C)
9	(A)	(B)	(C)
10	(A)	(B)	(C)

**MATEMATİK**

**Doğru Sayısı :** .....

**Yanlış Sayısı :** .....