




1. Aşağıdaki varlıklardan hangisi canlıdır?



Yukarıdaki varlıklardan hangisi cansızdır?

A) I B) II C) II ve III

3. Aşağıdaki ortamlardan hangisi yapay çevredir?



Resimdeki varlıkta;

- büyüme,
- gelişme,
- çoğalma,
- solunum yapma

özelliklerinden kaç tanesi vardır?

A) 1 B) 3 C) 4

a	yılan	b	balık
c	yunus	d	solucan

Tablodaki canlılardan;

- toprak,
- deniz

ortamlarında yaşayanlar hangi seçenekte doğru verilmiştir?

A) a, b c, d  
B) a, d b, c  
C) b, c a, d



Ayşe'nin sorusunu hangi arkadaşı yanlış cevaplamıştır?



Resimdeki canlılarda;

- I. büyüme,
- II. beslenme,
- III. solunum yapma

özelliklerinden hangileri ortakdır?

A) I ve II B) II ve III C) I, II ve III



Melis'in babası Cengiz Bey sağlıklı bir yaşam sürmektedir.

Buna göre Melis'in babası;

- dengeli beslenme,
- ▲ spor yapma,
- meyve ve sebze tüketme

davranışlarından hangilerini yapıyor olabilir?

A) ■ B) ▲, ● C) ■, ▲, ●



Orhan bilinçli, İbrahim bilinçsiz bir tüketicidir.







İbrahim aşağıdakilerden hangisini yapmalı ki Orhan gibi bilinçli bir tüketici olsun?

- A) Son kullanma tarihi geçmiş ürünleri almalıdır.
- B) Alışverişten önce alacaklarının listesini yapmalıdır.
- C) Su ve elektriği sürekli açık tutmalıdır.



1. Varlıklar canlı ve cansız olarak iki gruba ayrılır.

Buna göre aşağıdaki gruplandırmalardan hangisi yanlıştır?




	Canlı	Cansız
A)		
B)		
C)		

2. Aşağıdaki canlılardan hangisi



Ördek

canlısıyla aynı ortamda yaşar?




A)		B)	
	Tilki		Nilüfer çiçeği
C)			
	Karınca		


3. Sağlıklı yaşam için ..... gibi besinleri tüketiyorum.

 Gamze

Gamze sağlıklı bir yaşam sürmektedir.

Bu nedenle Gamze'nin cümlesindeki ..... ile gösterilen yere hangi besin yazılamaz?

A)		B)	
	Et		Süt
C)			
	Cips		



Resimde rakamlarla gösterilen varlıklarla ilgili hangi seçenek doğrudur?

- A) 1 cansız varlıktır.  
B) 2 ve 4 cansız varlıktır.  
C) 3 canlı varlıktır.

5. Doğru Yanlış

1. Muslukları boş yere açık tutmamalıyız.	<input type="checkbox"/>	<input type="checkbox"/>
2. Uyurken ışığı açık bırakmamalıyız.	<input type="checkbox"/>	<input type="checkbox"/>
3. Alışverişte ihtiyacımız olan ürünleri almalıyız.	<input type="checkbox"/>	<input type="checkbox"/>

Işıl yukarıdakilerden bilinçli bir tüketicinin yapması gerekenlere X işareti koymuştur.

Buna göre Işıl'ın yaptığı işaretleme aşağıdakilerden hangisi olabilir?

	Doğru	Yanlış		Doğru	Yanlış
A) 1	<input type="checkbox"/>	X	B) 1	X	<input type="checkbox"/>
2	X	<input type="checkbox"/>	2	<input type="checkbox"/>	X
3	<input type="checkbox"/>	X	3	X	<input type="checkbox"/>
C) 1	X	<input type="checkbox"/>			
2	X	<input type="checkbox"/>			
3	X	<input type="checkbox"/>			

6. Aşağıdaki ortamlardan hangisi doğal çevre örneğidir?

A)		B)	
	Köpek kulübesi		Akvaryum
C)			
	Orman		

7. I. varlığın; II.

	
I	II

I. varlığın;

- beslenme,
- büyüme,
- gelişme




özelliklerinden kaç tanesi II. varlıkta bulunmaz?

- A) 1 B) 2 C) 3

8. Aşağıdaki bilgilerden hangisi yanlıştır?

- A) Cep telefonu canlı varlıktır.  
B) Sinek canlı varlıktır.  
C) Menekşe bitkisi canlı varlıktır.

9. Aşağıdaki canlılardan hangisinin yaşadığı yer su ortamıdır?

A)		B)	
	Papağan		Balık
C)			
	Tırtıl		