

Adı:
Soyadı:

ATATÜRK İLKOKULU 3.SINIFLAR
FEN BİLİMLERİ II. DEĞERLENDİRMESİ

Tarih:

Not:

9 puan

1. Kaç duyu organımız vardır? Bunlardan birden fazla görevi olanların görevlerini kısaca yazınız.

4 puan

2. Göz sağlığımız için yapılması gerekenlerden 2 tanesini yazınız.

4 puan

3. Kulak sağlığımız için yapılması gerekenlerden 2 tanesini yazınız.

5 puan

4. Hareket çeşitlerini yazınız.

6 puan

5. Kendiliğinden hareket edemeyen cansız varlıkları hareket ettirmek için uygulanan kuvvetlerin isimleri nelerdir? İsimlerini yazarak birer örnek veriniz.

4 puan

6. Bitkiler hareketli mi, hareketsiz midir? Açıklayınız.

6 puan

7. Hızlanma hareketine 2 tane örnek veriniz.

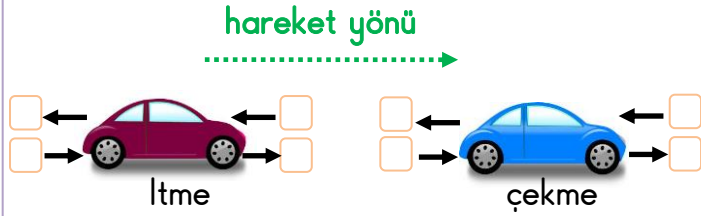
6 puan

8. Dönme hareketine 2 tane örnek veriniz.

8 puan 9. Kuvvetin cisimler üzerindeki etkisine ait şemada boş bırakılan kutuları örneğe uygun tamamlayınız.

Kuvvet	→	cisimleri döndürebilir.
	→	
	→	
	→	
	→	

6 puan 10. Aşağıdaki arabaların altlarında belirtilen kuvvet çeşidine göre hareket yönünde ilerlemesi isteniyor. Bunun için önünde veya arkasında belirtilen yönlerin hangisinden kuvvet uygulanmalıdır? İşaretleyiniz.(X)




Elif 3 dakikada
Fuat 2 dakikada
Sena 4 dakikada

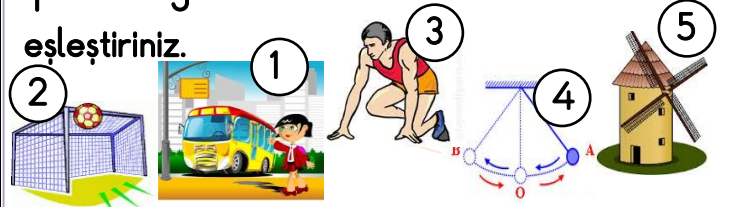
6 puan 11. Yukarıda okulda yapılan koşu yarışında öğrencilerin yarışı bitirme süreleri verilmiştir. Buna göre öğrencilerin hızları ile ilgili ne söylenebilir? Aşağıya yazınız.

6 puan 12. Günlük hayatımızda hareketli varlıkların oluşturabileceği tehlikeler nelerdir? 2 tanesini yazınız.

8 puan 13. Görsellerde itme kuvveti uygulanan nesnelere ait çemberi maviye, çekme kuvveti uygulananlarınkini yeşile boyayınız.



10 puan 14. Rakamları kullanarak görsellerin ifade ettiği hareket türlerini kavramlarla eşleştiriniz.



☐ hızlanma ☐ dönme ☐ sallanma
☐ yavaşlama ☐ yön değiştirme

Yiyeceklerin tadını almamızı sağlar.

Sesleri duymamızı ve dengemizi sağlar.

Nesnelerin soğuk, sıcak, sert yumuşak vb. özelliklerini anlamamızı sağlar.

6 puan 15. Yukarıdaki bilgi şemasında sırası ile hangi duyu organlarından söz edilmiştir?

A. B. C.

6 puan 16. Aşağıdaki boşlukları uygun kelimeler ile tamamlayınız.

Bir varlığın başka bir varlığa göre yerini değiştirmesine.....denir.

Burumuz koku almanın dışında..... alma görevini de yapar.

Duran bir cismi hareket ettiren, hareket eden bir cismi yavaşlatan veya durduran, cismin hızını yönünü ve şeklini değiştiren etkiye.....denir.