

## TÜRKÇE

### METE'NİN KAR SEVGİSİ

Mete kardan adam yapmayı çok seviyordu. Karın yağması için sabırsızlanıyordu. Sınıf arkadaşı Yunus' la komşu idiler. Yunus da kardan adam yapmayı çok seviyordu. Günler geçti kış mevsimi nerdeyse bitmek üzereydi ama henüz kar yağmamıştı. Mete çok üzülüyordu. Mete karda kaymak için kızak bile yapmıştı. Mete babasına neden kar yağmadığını sordu. Babası ise bazı senelerde kar yağışı az olabilir, dedi. Mete odasına gitti ve uyudu. Mete rüyasında Yunus'la birlikte kocaman bir kardan kale yaptıklarını gördü. Mete rüyasından üzgün bir şekilde uyandı. Mete'nin üzgün olduğunu gören babası ona pencereden dışarı bakmasını söyledi. Mete dışarıya baktığında gözlerine inanamadı. Her taraf bembeyaz karla kaplıydı. Mete sevinçten babasına sarıldı. Hemen dışarı fırladı. Yunus'u da çağırıp birlikte oynadılar.

#### Metinle ilgili sorular

1.Mete neden sabırsızlanıyordu?

.....

2.Mete en çok neyi seviyordu?

.....

3.Mete'nin komşusu kimdi?

.....

4.Mete karda kaymak için ne yapmıştı?

.....

5.Mete babasına ne sordu?

.....

6.Babası Mete'ye ne cevap verdi?

.....

7.Mete rüyasında ne gördü?

.....

8.Mete rüyasından uyanınca ne gördü?

.....

## MATEMATİK

1 . Noktalı yerleri, örnekte olduğu gibi doldurunuz.

- |   |   |
|---|---|
| ▪ 1 tane 25 Krş, 1 tane 50 Krş = 75Kr eder. | ▪ 10 tane 5 Krş, 2 tane 25 Krş=.....eder. |
| ▪ 4 tane 25 Krş, 5 tane 10 Krş=..... eder.  | ▪ 6 tane 50 Krş, 4 tane 25 Krş=.....eder. |
| ▪ 8 tane 10 Krş, 10 tane 5 Krş=..... eder.  | ▪ 5 tane 5 Krş, 25 tane 1 Krş =.....eder. |

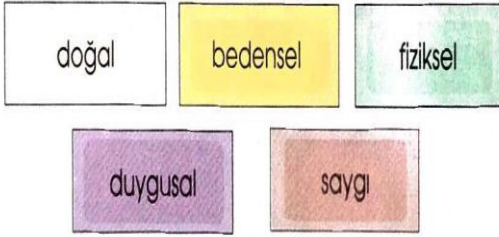
2. Elimizdeki bütün paraları bozdurmak istiyoruz. Bütün kağıt paralarımızın içinde diğerlerinin kaç tane olduğunu yazınız

- |                            |                             |
|----------------------------|-----------------------------|
| ▪ 200 TL = 4 tane 50 TL    | ▪ 20 TL = .....tane 1 TL    |
| ▪ 100 TL = .....tane 50 TL | ▪ 10 TL = .....tane 10TL    |
| ▪ 100 TL = .....tane 10 TL | ▪ 100 TL = .....tane 1 TL   |
| ▪ 50 TL = 5 tane .....TL   | ▪ 100 TL = ..... tane 10 TL |
| ▪ 50 TL = 10 tane ..... TL | ▪ 100 TL = 5 tane .....TL   |
| ▪ 20 TL = .....tane 10TL   | ▪ 50 TL = ..... tane 10 TL  |

## HAYAT BİLGİSİ

### 1. Boşlukları kutulardaki uygun kelimelerle tamamlayın.

- 1- Ten rengimiz, saç rengimiz, göz rengimiz, boyumuz ve kilomuz bizi diğer insanlardan ayıran ..... özelliklerimizdir.
- 2- Farklı fiziksel özelliklere sahip olan arkadaşlarımıza ..... duymalıyız.
- 3- Farklı fiziksel özelliklere sahip olmak ..... bir durumdur.
- 4- Sporcu olmak isteyen birinin ..... özellikleri buna uygun olmalıdır.
- 5- Fiziksel özelliklerimizin yanında ..... özelliklerimiz de bize özeldir.




### 2. Aşağıda verilen işleri hangi meslek grubunun yaptığını karşılarına yazın.

- 1- İnsanları eğitir ve onlara bilgi öğretir → : .....
- 2- İnsanları güldürür → : .....
- 3- Trafik güvenliğini ve düzenini sağlar → : .....
- 4- Toplumun güvenliğini sağlar → : .....
- 5- Ülkeyi yönetir, hükûmete başkanlık eder → : .....
- 6- Hastalara aşı ve pansuman yapar → : .....
- 7- Okulumuzu temizler → : .....
- 8- Müdüre yardım eder, öğrencileri okula kaydeder. : .....
- 9- Yangınlara müdahale eder → : .....
- 10- Mektup ve kolileri evlere teslim eder → : .....


## FEN BİLİMLERİ

1)

Aşağıdaki ortamlardan hangisinde uzun süre kalırsak işitme kaybı yaşamayız?



2)




Ayşe, Ali ve Emre halk oyunları çalışması yapmaktadır. Çalışma sırasında davula olan uzaklıkları şekilde verilmiştir.

Buna göre hangi çocuklar davulun sesini eşit şiddette duyar?

- A) Ayşe - Emre      B) Ayşe - Ali  
C) Ali - Emre

3)


Aşağıda görselleri verilen varlıklardan hangisi daha düşük şiddetli sesleri duyabilme özelliğinden yararlanarak avını yakalar?



4)

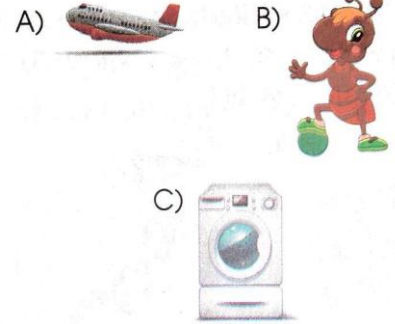


Kendini yukarıdaki gibi ifade eden aydınlatma aracı aşağıdakilerden hangisidir?



5)

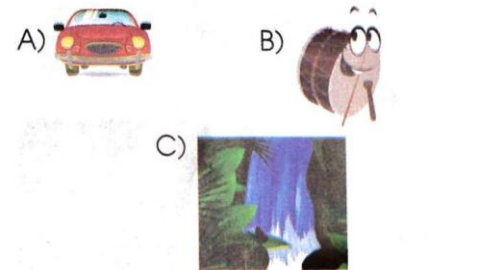
Aşağıda görselleri verilen varlıklardan hangisinin çıkardığı ses diğerlerinden daha şiddetlidir?



6)

Elif sınıfta yapay ses kaynakları ile ilgili bir sunum yapmaktadır. Sunumu için hazırladığı tabloda bazı görseller kullanmıştır.

Aşağıdakilerden hangisi bu görsellerden biri **olamaz**?



Veli İmza:.....