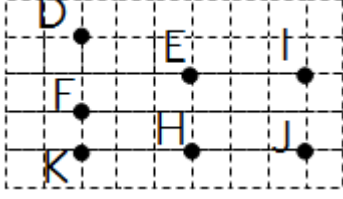


MATEMATİK

Adı:..... Soyadı:.....
Numarası: Sınıfı:..... Tarih:/...../.....

KARENİN, DİKDÖRTGENİN ÜÇGENİN KÖŞE VE KENARLARI



1. Yandaki şekilde hangi üç noktayı birleştirirsek bir üçgen elde ederiz?

- A) D,E,F B) K,H,J C) D,F,K



2.

- Dört kenarı vardır.
- Dört köşesi vardır.
- Sadece karşılıklı kenarlarının uzunlukları birbirine eşittir.

Yukarıda özellikleri verilen şekil aşağıdakilerden hangisidir?

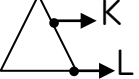
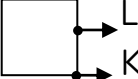
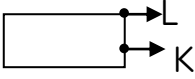
- A) Dikdörtgen B) Kare C) Üçgen

3. Aşağıdakilerden hangisinin 3 kenarı ve 3 köşesi vardır?

- A)  B)  C) 

4. "K" köşeyi "L" kenarı göstermektedir.

Yukarıdaki bilgilere uyan şekil hangisidir?

- A)  B)  C) 

5. Aşağıda verilen bilgilerden hangisi yanlıştır?



- A) Karenin dört kenarı, dört köşesi vardır.
B) Dikdörtgenin beş kenarı, beş köşesi vardır.
C) Üçgenin üç kenarı, üç köşesi vardır.




6. Gökhan'ın en son boyadığı şekil hangisidir?



Şekilleri yeşil renge boyadım.
En son boyadığım şekil ise dikdörtgensel bölge.

- A)  B)  C) 

7. Aşağıdaki geometrik şekillerden hangisinin 4 köşesi ve 4 kenarı vardır?

- A)  B)  C) 


8. Yandaki şekil ile verilen bilgilerden hangisi yanlıştır?

- A) 4 ayrıtı vardır. B) 3 kenarı vardır.
C) 3 köşesi vardır.

9. Aşağıdaki geometrik şekillerden hangisinin kenar ve köşesi yoktur?


- A)  B)  C) 

10. Dikdörtgenin üzerindeki noktalar neyi göstermektedir?



- A) A: Ayrıtı C: Köşe B) A: Köşe C: Kenar C) A: Kenar C: Köşe



11. Aşağıdaki geometrik şekillerden hangisinin 4 kenarı ve 4 köşesi vardır?

- A)  B)  C) 

12. Aşağıdaki geometrik şekillerden hangisinin köşe sayısı diğerlerinden azdır?

- A)  B)  C) 

13. Yıldız hangi seçenekte verilen şeklin kenarındadır?

- A)  B)  C) 