

Adı:.....  
Soyadı:.....

## HAFTA SONU EV ÇALIŞMASI

Tarih : 1 2.1 2.201 4

### H A Y A T B İ L G İ S İ

A. Atatürk'ün okuduğu okulları yazınız.

- 1)..... 2).....  
3)..... 4).....  
5)..... 6).....

B. Aşağıda verilen olayları ve ilgili olduğu bayramları eşleştiriniz.

19 Mayıs 1919'da Atatürk Samsun'a çıktı.

23 Nisan 1923'te TBMM açıldı.

30 Ağustos 1922 Kurtuluş Savaşı'nın zafer ile sonuçlanması.

29 Ekim 1923'te Cumhuriyet ilan edildi.

Cumhuriyet Bayramı

Atatürk'ü Anma Gençlik ve Spor Bayramı

Ulusal Egemenlik ve Çocuk Bayramı

Zafer Bayramı

C. Dini bayram kutlamalarına katılmak niçin önemlidir? Kısaca yazınız.

D. Okulu ve çevresini güzelleştirmek için neler yapabilirsiniz? Kısaca yazınız.

E. Okulda yararlandığımız kaynakları bilinçli tüketmek için neler yapabiliriz?

doğalgaz:.....

elektrik:.....

su:.....

F. Gelecekte seçmek istediğiniz mesleği ve nedenini belirtiniz.

## T Ü R K Ç E

G. Aşağıdaki bulmacada verilen kelimelerin eş anlamlılarını bulup üzerini çizin. Geriye kalan harflerden oluşan cümleyi aşağıya yazınız.

abide      deprem      acele      eser  
 baci      fakir      cenk      güz  
 çağrı      öğüt      tören      kırmızı

A	F	A	N	I	T	E	R	İ	N	S
S	M	E	R	A	S	İ	M	E	D	A
N	Ç	Y	Ç	A	B	U	K	O	A	V
K	S	O	N	B	A	H	A	R	V	A
A	K	K	I	Z	K	A	R	D	E	Ş
N	A	S	İ	H	A	T	İ	L	T	L
I	S	U	I	Y	A	P	I	T	N	Ç
Z	E	L	Z	E	L	E	O	K	A	L

H. Aşağıda yönergeleri dikkatle okuyarak istenilenleri yapınız.

Aşağıda verilen varlıkların durumuna göre uygun seçeneği işaretleyiniz.			
Varlık Adı	Tekil	Çoğul	Topluluk
elmalar			
düzine			
sınıf			
muz			
Rize			
ordu			
kuşlar			

Aşağıda verilen eylemlerin zamanına göre uygun seçeneği işaretleyiniz.				
Eylem	Geçmiş Zaman	Şimdiki Zaman	Gelecek Zaman	Geniş Zaman
yazar				
düşmüş				
okuyor				
alacak				
geçti				
döner				
uçuyor				

I. Aşağıda verilen cümlelerde varlık adlarını bulup altını kırmızı kalem ile çizin. Varlığın özelliğini bildiren sözcüğü mavi kalemle yuvarlak içine alınız.

Yaşlı adama yardım ettim.

Kırmızı kalemimi kaybettim.

Üç çocuk oynuyordu.

Yuvarlak masa etrafında toplandık.

Dağlar, yeşil ağaçlar ile süslenmişti.

Babam güzel oyuncaklar almış.

Sekizinci soru çok kolaydı.

Sınıfımıza yeni öğrenci geldi.

J. Aşağıdaki harflerden bir sonra gelen harfleri yazarak verilen şifreyi çözünüz.

A	T	R	H	M	H	E	H	M	A	U	Ş	U	M	O	G	P	D	M	B	I	K	D	P	I	O	Y	D	K	Ç	I	P

ABCÇDEFGĞHIİJKLMNOÖPRSŞTUÜVYZ

# MATEMATİK

K. Aşağıda verilen problemleri çözünüz.

1. Bir toplama işleminde 1 .toplanan 33, toplam 62 ise 2.toplanan kaçtır?


3. Bir çıkarma işleminde eksilen 90, çıkan 35 ise fark kaçtır?


2. Hangi sayının 44 eksiği 56 eder?


4. Bir çıkarma işleminde çıkan 57, fark 26 ise eksilen sayı kaçtır?


L. Aşağıdaki işlemlerde verilmeyen sayıları bulunuz.

22 +..... 50	50 -22 .....	34 +..... 53	..... -..... .....	45 +..... 75	..... -..... .....	53 +..... 88	..... -..... .....	62 +..... 91	..... -..... .....
..... +29 45	45 -29 .....	..... +37 54	..... -..... .....	..... +48 66	..... -..... .....	..... +53 70	..... -..... .....	..... +64 80	..... -..... .....

M. Aşağıdaki örüntülerde istenen sayıları bulunuz.

20 17 14 11 8 5 ?



1 3 6 10 ?

1 1 2 3 5 ?

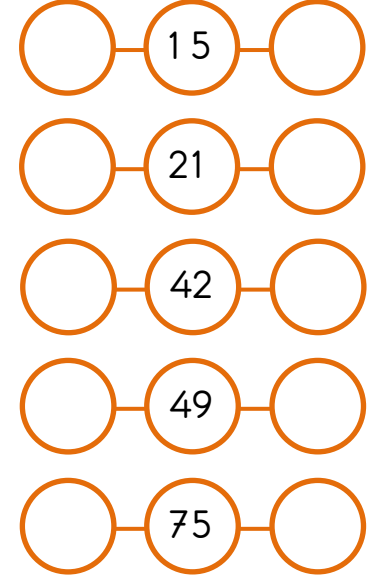
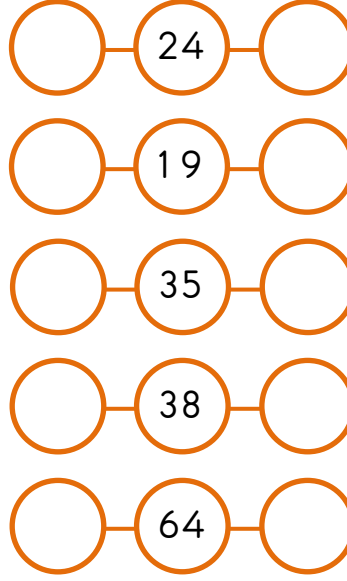
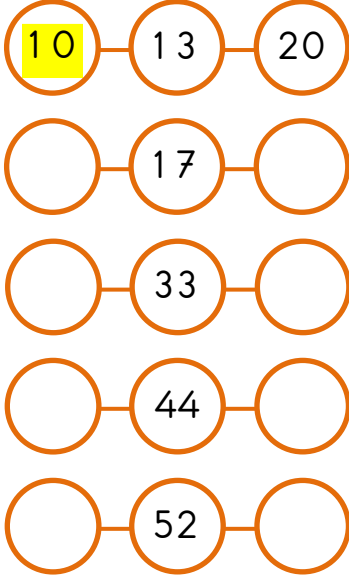
21 20 18 15 11 ?

8 6 7 5 6 4 ?

N. Aşağıda verilen şekillerin simetri doğrularını çiziniz.



O. Aşağıda verilen sayıların hangi onluklar arasında olduğunu yazınız. En yakın olduğu onluğu boyayınız.



P. Aşağıda verilen bilgilere uygun şekilleri çizerek istenen özelliklerini yazınız.



kare

kenar sayısı:.....

köşe sayısı:.....



üçgen

kenar sayısı:.....

köşe sayısı:.....



çember

kenar sayısı:.....

köşe sayısı:.....

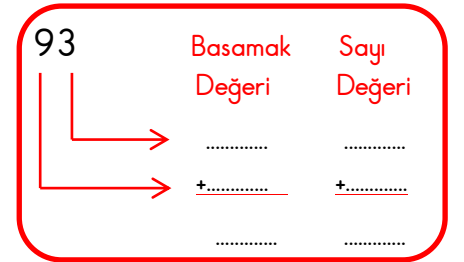
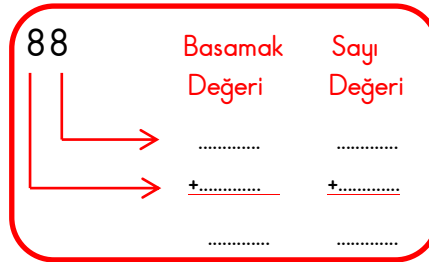
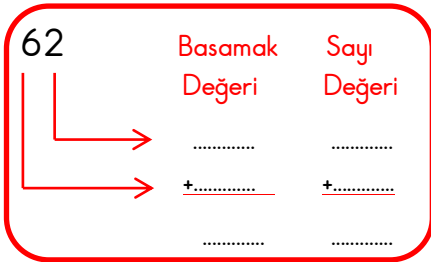


dikdörtgen

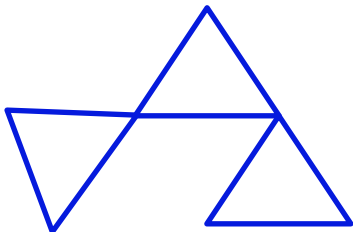
kenar sayısı:.....

köşe sayısı:.....

R. Aşağıda verilen sayıların sayı ve basamak değerlerini ve toplamalarını bulunuz.



S.DÜŞÜN BAKALIM...



Yandaki şekil 9 çubuk kullanılarak oluşturulmuştur. Yalnız iki çubuğun yerini değiştirerek 5 üçgen elde edebilir misin?