

MATEMATİK

Adı:..... Soyadı:.....
Numarası: Sınıfı:..... Tarih:/...../.....

SAYALIM, SIRALAYALIM

1. 27-24-21 -1 8-1 5-1 2

Yukarıdaki sayma için aşağıdakilerden hangisi **doğrudur**?

- A) 27'den geriye doğru ikişer ritmik sayma
B) 27'den geriye doğru üçer ritmik sayma
C) 27'den ileriye doğru üçer ritmik sayma

2. İki düzine kalem **üçer üçer** kaç kez sayarız?
A) 8 B) 7 C) 6

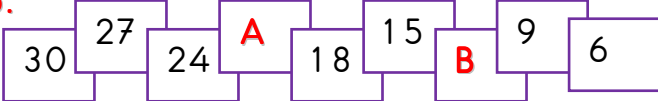
3. 40 tane **findığı** Sultan beşer beşer, Uğur dörder dörder, **Metin** ikişer ikişer sayıyor.

Buna göre aşağıdakilerden hangisi **yanlıştır**?

- A) En çabuk Sultan sayar.
B) En çabuk Metin sayar.
C) Uğur, 10 kez sayar.

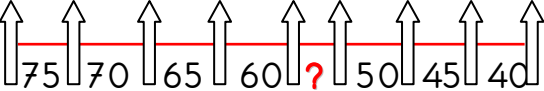
4. On altıdan başlayarak dörder dörder saydığımızda, **altına** sırada hangi sayıyı söyleriz?

- A) 32 B) 36 C) 40

5. 

Yukarıdaki saymada A ve B yerine ne gelmelidir?

- A) 21 ve 13 B) 12 ve 15 C) 21 ve 12

6. 

Yukarıdaki saymada "?", yerine ne gelmelidir?

- A) 50 B) 55 C) 60

7. İleriye doğru hem **üçer üçer**, hem de **dörder dörder** saynma yaparken aşağıdakilerden hangisini söyleriz?

- A) 23 B) 24 C) 25

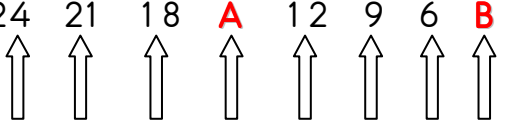
8. 40'tan başlayıp **beşer beşer** saydığımızda **yedinci** sayı kaç olur?

- A) 70 B) 75 C) 80

9. 65, 70, , 80, 85, , 95

Yukarıdaki **beşer beşer** saymada boş kutulara hangi sayılar gelmelidir?

- A) 75 ve 90 B) 90 ve 75 C) 75 ve 96

10. 

Yukarıdaki saymada A ve B yerine hangi sayılar gelmelidir?

- A) 15 ve 4 B) 16 ve 3 C) 15 ve 3

11. Aşağıda 90'dan geriye ikişer ritmi sayma yapılmıştır. Bu saymada hangi sayı **yanlış** söylenmiştir?


90	88	86	84	82
80	78	76	74	72
70	69	66	64	62
60	58	56	54	52

- A) 80 B) 69 C) 54

12. Aşağıdakilerden hangisinde geriye doğru üçer ritmik sayılmıştır?

A)  15 18 21 24 27 30 33 36

B)  45 40 35 30 25 20 15 10

C)  39 36 33 30 27 24 21 18