


MATEMATİK DERSİ PROBLEMLER





- 7- Fatma teyzenin 2 tavuğu vardır. Bir tavuğundan günlük 4 yumurta almaktadır. Bu verilenlere göre Fatma teyze 3 günde toplam kaç yumurta alır?




- 8- Eren, akşam saat 21.00' da uyumaktadır. Sabah saat 07.00' de uyanan Eren kaç saat uyumuştur?



- 9- Köstebek Dişlek günde 4 metre kazı yaptığına göre, 8 günde toplama kaç metre kazabilir?



- 10- Her gün kahvaltıda yarım yumurta tüketen Melisa, 18 günün sonunda kaç bütün yumurta vemiştir?



- 11- Bir kilogram karpuzun fiyatı 4 TL'dir. Pazardan 8 kilogram karpuz alan Mehmet Bey, pazarcıya 50 TL verdiğine göre kaç TL para üzeri almalıdır?



- 12- Ayşe kırtasiyeden, 13 TL'ye bir hikâye kitabı, tanesi 3 TL olan kalemlerden ise 6 tane almıştır. Ayşe kırtasiyeciyeye kaç TL ödeme yapmalıdır?

