




ADI SOYADI

VELİSİNİN İMZASI

OKUL NO

2-A SINIF ÖĞRETMENİ H.AHMET CİN

1. Kimin yaptığı işlem doğru **değildir**?

A) 
$$\begin{array}{r} 17 \\ - 8 \\ \hline 9 \end{array}$$
 B) 
$$\begin{array}{r} 16 \\ - 8 \\ \hline 8 \end{array}$$
 C)
$$\begin{array}{r} 17 \\ - 9 \\ \hline 7 \end{array}$$
 

2. Ali ile kardeşi 15 tane muzun 8 tanesini yedi.
Kaç tane muz kaldı?

A) B) C)

3. Yılmaz'ın 13 lirası vardı. 5 liraya top aldı.
Yılmaz'ın kaç lirası kaldı?



A) B) C)

4. Ümit'in 11 lirası vardı. 6 liraya kitap aldı.
Ümit'in kaç lirası kaldı?

A) B) C)

5. Vazodaki 16 çiçeğin, 9 tanesi papatya kalanı
güldür. Vazoda kaç tane gül vardır?

A) 7 B) 8 C) 9

6.  'teki 17 yolcunun 8'i bayan kalanı
çocuktur.  'te kaç çocuk vardır?

A) 8 B) 9 C) 10

7. Okulumuzdaki 13 öğretmenin 7'si bayandır.
Okulumuzda kaç erkek öğretmen vardır?

A) 5 B) 6 C) 7

Her renkli şekil bir rakamı göstermektedir.
Aşağıdaki soruları buna göre yanıtlayınız.

8.  -  = Kaçtır?

A) 1 B) 2 C) 3

9.  -  = Kaçtır?

A) 2 B) 3 C) 4

10.  -  = Kaçtır?

A) 2 B) 3 C) 4

11. Kimin yaptığı işlem doğrudur?

A) 
$$\begin{array}{r} 16 \\ - 8 \\ \hline 9 \end{array}$$
 B) 
$$\begin{array}{r} 15 \\ - 8 \\ \hline 9 \end{array}$$
 C)
$$\begin{array}{r} 17 \\ - 8 \\ \hline 9 \end{array}$$
 

12. Arzu'nun 16 lirası vardı. 9 liraya oyuncak bebek aldı. Arzu'nun kaç lirası kaldı?
A) 6 B) 7 C) 8
13. Burak 12 boya kaleminin 6 tanesinin ucunu kırmış. Kaç tane ucu açık kalem vardır?
A) 4 B) 5 C) 6
14. Ayla 18 lirasının 8 lirasını kumbarasına attı. Ayla'nın kaç lirası kaldı?
A) 10 B) 9 C) 8
15. Mert'in 16 bilyesi vardı. 8 tanesini kardeşine verdi. Mert'in kaç bilyesi kaldı?
A) 8 B) 9 C) 10
16. Naci'nin 13 lirası vardı. 6 liraya top aldı. Naci'nin kaç lirası kaldı?

- A) 6 B) 7 C) 8

17. Erhan tabaktaki 17 cevizin 9 tanesini yedi. Tabakta kaç ceviz kaldı?

A) 7 B) 8 C) 9

18. Ali 12 erğin bir miktarını yedi. 7 erik kaldı. Ali kaç erik yedi?

A) 5 B) 6 C) 7

19. Ahmet'in 13 lirası vardı. Top aldı. Cebinde 9 lirası kaldı. Ahmet topa kaç lira verdi?

A) 6 B) 5 C) 4

20. Burcu'nun 14 lirası vardı. Kitap alınca cebinde 5 lirası kaldı. Burcu kitaba kaç lira verdi?

A) 8 B) 9 C) 10

GEÇMEZ								GEÇER		ORTA			İYİ			PEKİYİ				YAZIYLA	
1								2		3			4			5				rakamla	
5	10	15	20	25	30	35	40	45	50	55	60	65	70	75	80	85	90	95	100	PUAN	
1	2	3	4	5	6	7	8	9	10	11	12	13	14	15	16	17	18	19	20	Soru sayı	
																				ŞIKLAR	
																				Cevap an	