

BÖLME İŞLEMİ

Aşağıdaki nesnelere istenilen şekilde örneğe uygun olarak gruplayınız.


ÖRNEK:

2'şer grup oluşturalım.




Toplam Nesne Sayısı	Gruplardaki Nesne Sayısı	Oluşan Grup Sayısı
8	2	4

3'er grup oluşturalım.



Toplam Nesne Sayısı	Gruplardaki Nesne Sayısı	Oluşan Grup Sayısı
...

4'er grup oluşturalım.




Toplam Nesne Sayısı	Gruplardaki Nesne Sayısı	Oluşan Grup Sayısı
...

5'er grup oluşturalım.



Toplam Nesne Sayısı	Gruplardaki Nesne Sayısı	Oluşan Grup Sayısı
...

6'ar grup oluşturalım.




Toplam Nesne Sayısı	Gruplardaki Nesne Sayısı	Oluşan Grup Sayısı
...

7'er grup oluřturalım.



Toplam Nesne Sayısı	Gruplardaki Nesne Sayısı	Oluřan Grup Sayısı
...

8'er grup oluřturalım.



Toplam Nesne Sayısı	Gruplardaki Nesne Sayısı	Oluřan Grup Sayısı
...

9'ar grup oluřturalım.



Toplam Nesne Sayısı	Gruplardaki Nesne Sayısı	Oluřan Grup Sayısı
...

10'ar grup oluřturalım.



Toplam Nesne Sayısı	Gruplardaki Nesne Sayısı	Oluřan Grup Sayısı
...

1'er grup oluřturalım.



Toplam Nesne Sayısı	Gruplardaki Nesne Sayısı	Oluřan Grup Sayısı
...