

ADI SOYADI:	
SINIF VE NUMARA:	



TARİH:	
ALDIĞI NOT:	

TİCARET İLKÖĞRETİM OKULU 2014-2015 DERS YILI
MATEMATİK 1. DÖNEM 2. DEĞERLENDİRME SORULARI

1)

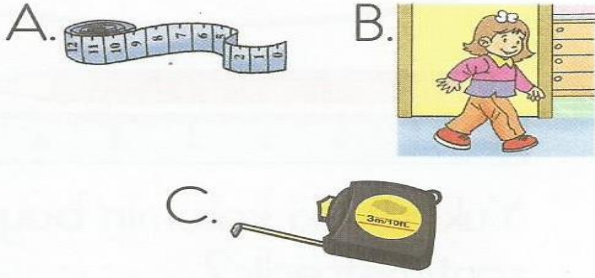


Yukarıdaki kalemin boyu kaç santimetredir?

- A. 9 B. 8 C. 7

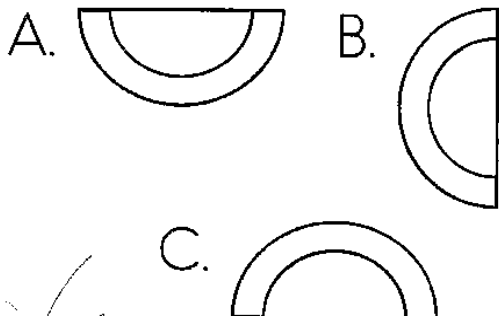
2)

Aşağıdakilerden hangisi standart ölçü birimi değildir?



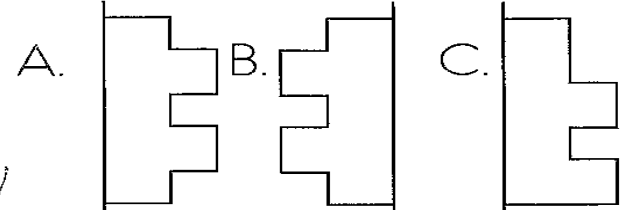
3)

Yandaki şeklin simetriği aşağıdakilerden hangisidir?




4)

Yandaki şeklin simetri doğrusuna göre simetriği aşağıdakilerden hangisidir?



5)

4 onluk 6 birlikten oluşan sayının rakamlarının yerleri değiştirilirse yeni sayı kaç onluk kaç birlikten oluşur?



6)

Birler basamağı 7, onlar basamağı 3 olan sayı aşağıdakilerden hangisidir?

- A. 37 B. 73 C. 77

7)

47 sayısından önce ve sonra gelen sayılar hangi seçenekte verilmiştir?

a. 45 - 46

b. 46 - 48

c. 46 - 49

8)



Saat iki buçuk

Aşağıdaki saatlerden hangisi Murat'ın söylediği zamanı göstermektedir?

A.



B.



C.



9)

Aşağıdaki sayısal saatlerin hangisi öğleden sonra üçü göstermektedir?

A.

13:00

B.

03:00

C.

15:00

10)



Yukarıda basamak değerleri verilen sayı kaçtır?

A. 4

B. 30

C. 34

11)

3 onluk + 9 birlik = A

4 onluk + 5 birlik = B

Yukarıdaki bilgilere göre A + B işleminin sonucu kaç olur?

A.147

B.84

C.66

12)



Aşağıdakilerden hangisi yandaki örüntüye benzer bir örüntüdür?

A. **AABB**CD

B.



C.



13)

86, 28, 65, 43

Sayılarının büyükten küçüğe sıralanışı hangi seçenekte doğru verilmiştir?

A. 28, 43, 65, 86

B. 86, 65, 43, 28

C. 86, 65, 28, 43

14)

$$84 - 26 = \square$$

$$\square - 29 = \bigcirc$$

Yukarıdaki işlem sırasına göre \bigcirc kaç eder?

A.39

B. 28

C. 29

