




Ad Soyad:


HAYAT BİLGİSİ SEVİYE TESPİT TESTİ – 4

Not:

- 1.) 1.  2.  3. 
- a. kara b. hava c. deniz

Yukarıdaki taşıtlar ve nerede gittikleri eşleştirilse, **doğru eşleşme** nasıl olur?

- A. 1a - 2b - 3c B. 1b - 2c - 3a
C. 1b - 2a - 3c


- 2.) 

Karşıdan karşıya geçerken, hangi öğrencinin söylediği ışıktaki **geçmeliyiz**?

- A. Emre B. Eren C. İzel


- 3.)  Aşağıdaki ifadelerden hangisi **yanlıştır**?

- A. Karşıya geçerken önce sağa bakarız.
B. Yaya geçitlerinde üstünlük yayalarıdır.
C. Kırmızı ışıktaki bekler, yeşil ışıktaki geçeriz.

- 4.) 

Yukarıdaki çocuklardan hangisi diğerlerinden **farklı bir duygu** yaşamaktadır?

- A.  B.  C. 

- 5.)  Çocuklar, 29 Ekim'de biz hangi bayramı kutladık?

- A. Zafer Bayramı B. Cumhuriyet Bayramı
C. Ulusal Egemenlik ve Çocuk Bayramı

- 6.) 1.Yaya geçitlerini kullanmalıyız.

2.Kırmızı ışıktaki geçmeliyiz.


3.Trafik lambalarının olduğu yerden geçmeliyiz.

4. İki arabanın arasından yola çıkmalıyız.

5. Karşıya geçerken üst geçitleri kullanmalıyız.

Yukarıdaki ifadelerden hangileri **doğrudur**?

- A. 1 - 3 - 5 B. 1 - 2 - 3 - 5 C. hepsi

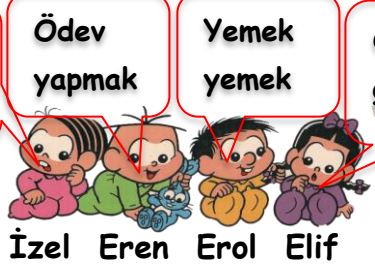
- 7.)  Şuraya **denizde giden** bir taşıt resmi çizeyim...

Buna göre, Yezda aşağıdaki resimlerden hangisini çizebilir?

- A.  B.  C. 

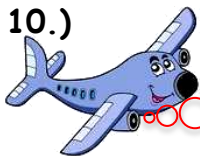
- 8.)  Yandaki insanlar için aşağıdakilerden hangisi **söylenemez**?

- A. küskünler B. kızgınlar C. mutlular

- 9.) 

Hangi çocukların söylediğini her gün **yapmayız**?

- A. İzel - Erol B. Eren - Elif C. Eren - İzel

- 10.)  Beni kullanan insanla - ra ne denir çocuklar?

- A. kaptan B. pilot C. makinist

11.) Her insanın kendine özgü özellikleri vardır.

Bireysel farklılıklara saygı göstermeliyiz.

İnsanların yetenek ve becerileri aynıdır.

Yukarıdaki ifadelerden hangisi ya da hangileri doğrudur?

A.  

B.  


C.  

12.)

Ödev yapmak

uyumak

Oyun oynamak



Emel Yezda Eren

Hangi öğrencinin söylediğine, bir gün içinde daha çok zaman ayırırız?

A. Yezda

B. Eren

C. Emel

13.)



Aşağıdaki eşyaların hangisi daha düzenli kullanılmıştır?

A.



B.



C.



14.)

oy - demokrasi - seçim - hak - seçmen - beslenme - sandık

Yukarıdaki sözcük grubunda, konu dışında olan sözcük aşağıdakilerden hangisidir?

A. sandık

B. beslenme

C. seçim

15.)



Hayatımızı devam ettirmek için besinleri vücudumuza almaya ne denir?

A. beslenme

B. sağlık

C. tedavi

16.)



Aşağıdakilerden hangisi bizdeki fiziksel değişikliklerden değildir?

A. Boyumuzun uzaması

B. Kilomuzun artması

C. Zekamızın artması

17.)

1. Hayat Bilgisi

2. Türkçe

3. Türkçe

4. Matematik

5. Müzik

6. İngilizce

Yezda'nın pazartesi günü yukarıdaki dersleri vardır. Buna göre Yezda'nın pazartesi günü hangisini çantasına koymasına gerek yoktur?


A. Sözlük

B. Boya kalemleri

C. Cetvel

18.)

Banyo yapmak



Tırnak kesmek

Saç taramak

Yukarıdaki öğrenciler hangisine örnek vermiştir?

A. Dengeli beslenme

B. Kişisel bakım

C. Ev kuralları

19.)



İstiklal Marşı ile ilgili hangi ifade yanlıştır?

A. İstiklal Marşını Atatürk yazmıştır.

B. İstiklal Marşını hazırol şeklinde dinlemeliyiz.

C. İstiklal Marşı 10 kıtadan oluşur.

20.)



Karşıdan karşıya geçerken önce sonra sonra tekrar bakarız.

İzel'in cümlesinde boş yerlere sıra ile hangileri gelmelidir?

A. sola - sola - sağa

B. sağa - sola - sağa

C. sola - sağa - sola