

1.)



1



2



3

Yukarıdaki evlerden hangisi tarihi bir ev değildir?

- A. 3 B. 1 C. 2

2.)



Karadeniz'de yaşayan insanlar eskiden evlerini hangisinden yaparlardı?

- A. toprak B. ağaç C. kerpiç

3.)

GÜNEŞ

BULUT

AY



Hangi öğrencinin söylediği, gökyüzündeki bir **gök cismi** değildir?

- A.  B.  C. 

4.)

teleskop

mikroskop

büyüteç



ZÜMRA

İZEL

EYMEN

Hangi öğrencinin söylediği ile gökyüzündeki **gökcisimlerini** inceleriz?

- A. Eymen B. Zümra C. İzel

- 5.) 1. Ağaçların yaprakları sararıp düşer
2. En çok yağmur bu mevsimde yağar.
3. Hava, toprak ve su soğumaya başlar.

Yukarıda verilenlerden hangisi ya da hangileri **sonbahar mevsiminin** özellikleridir?








- A. 1 - 2 B. 1 - 3 C. 1 - 2 - 3

6.)



Yukarıda, hangi **mevsime** ait görsel yoktur?

- A. Kış B. Sonbahar C. İlkbahar

Pazartesi	Salı	Çarşamba	Perşembe	Cuma	Cumartesi	Pazar
						

Yukarıdaki grafiğe göre, **hangisi** yanlıştır?

- A. Pazartesi günü hava bulutludur.
B. Cuma günü hava parçalı güneşlidir.
C. Cumartesi günü kar yağışlıdır.


8.)



Eren, Dünya'nın hareketlerini göstermek için yukarıdaki gibi bir düzenek hazırladı. Buna göre kaç numaralı cisim, **Dünya'yı** göstermektedir?

- A. 3 B. 2 C. 1

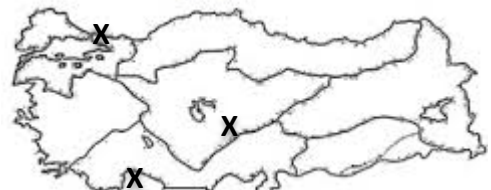
9.)



Yukarıda yapılan deneyde aşağıdakilerden hangisi gösterilmiştir?

- A. Mevsimlerin oluşumu B. Dünyanın oluşumu
C. Gece gündüzün oluşumu

10.)



Aydın ailesi tatilde gezdikleri yerleri işaretlemiştir. Buna göre hangisine **gitmemişlerdir**?

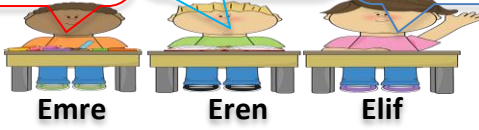
- A. Ankara B. İstanbul C. Antalya

11.)

Dünyanın kendi etrafında dönmesi

Dünyanın güneş etrafında dönmesi

Ayın dünya etrafında dönmesi



Emre

Eren

Elif

Hangi öğrencinin söylediğinin sonucunda mevsimler oluşur?

A. Emre

B. Eren

C. Elif

12.)



Yandaki görselde aşağıdakilerden hangisinin oluşumu anlatılmaktadır?

A. Gece gündüz

B. Mevsimler

C. Dünyanın oluşumu

13.)



gazoz



buhar



cam



sünger

Hangi öğrencilerin söyledikleri katı maddelere bir örnektir?

A.



B.



C.



14.)

SIVI



KATI

Yukarıda boş yere aşağıdakilerden hangisi gelmelidir?

A. Donma

B. Erime

C. Yoğuşma

15.)



shutterstock · 32530648

Yandaki kardan adam için hangisi söylenebilir?

A. Donarak su haline gelmektedir.

B. Eriyerek buz haline gelmektedir.

C. Eriyerek su haline gelmektedir.

16.)

30 Ağustos

29 Ekim

23 Nisan



YEŞİM

İZEL

EREN

Hangi öğrenci, düşmanı denize kesin olarak döktüğümüz tarihi söylemektedir?

A. Yeşim

B. Eren

C. İzel

17.)



Aşağıdaki ifadelerden hangisi yanlıştır?

A. Dünya kendi etrafında 24 saatte döner.

B. Dünyanın güneş etrafında dönmesi ile gece gündüz oluşur.

C. Dünya güneş etrafında 365 gün 6 saatte döner.

18.)



Aşağıdaki ifadelerden hangisi doğrudur?

A. Katı maddeler eriyerek gaz haline gelir.

B. Sıvı maddeler donarak gaz haline gelir.

C. Gaz maddeler yoğuşarak sıvı haline gelir.

19.)



Hangisi, benim eğitim alanında yaptığım bir yeniliktir?

A. Cumhuriyetin ilanı

B. Soyadı Kanunu

C. Yeni Türk Alfabesinin kabulü

20.)



Aşağıdakilerden hangisi benim gittiğim ilk ve son okuldur?

A. Mahalle Mektebi - Harp Akademisi

B. Mahalle Mektebi - Harp Okulu

C. Şemsi Efendi İlkokulu - Harp Akademisi