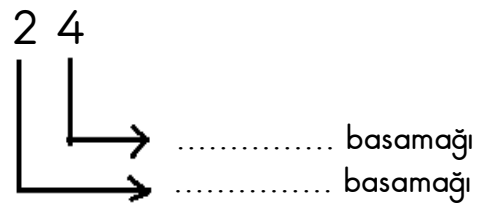
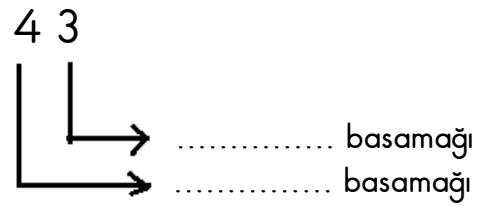
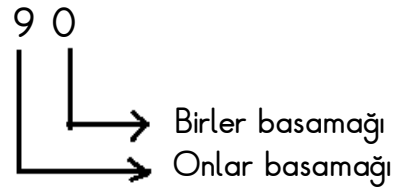
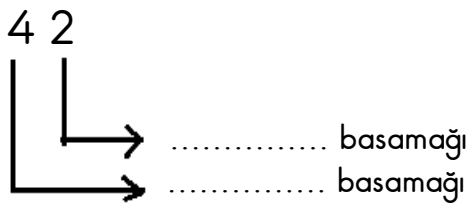
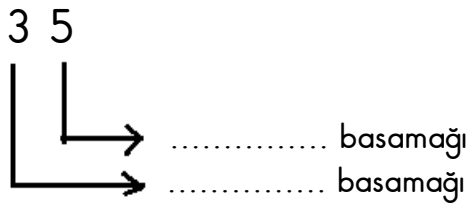
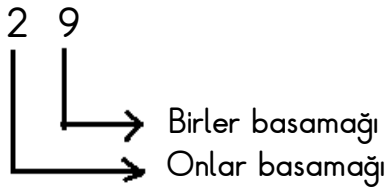


# ADALET İLKOKULU 2/C SINIF MATEMATİK ÇALIŞMA SAYFASI

1) Aşağıdaki tabloda basamaklarındaki rakamları verilen sayıları ve okunuşlarını örnekteki gibi yazınız.

Onlar Basamağı	Birler Basamağı		Sayı	Sayının Okunuşu
2	5	→	25	Yirmi beş
3	6	→		
4	8	→		
6	0	→		
7	9	→		
8	1	→		
9	2	→		
2	6	→		
7	2	→		
5	4	→		
3	8	→		
2	0	→		
9	7	→		
7	3	→		

2) Aşağıdaki sayıları basamaklarına ayırınız.



3) Aşağıdaki doğal sayıların onluk ve birlik sayılarını yazınız.

- 74 = 7 onluk + 4 birlik
- 25 = ..... onluk + ..... birlik
- 14 = ..... onluk + ..... birlik
- 36 = ..... onluk + ..... birlik
- 48 = ..... onluk + ..... birlik
- 59 = ..... onluk + ..... birlik
- 62 = ..... onluk + ..... birlik
- 83 = ..... onluk + ..... birlik
- 44 = ..... onluk + ..... birlik

- 81 = ..... onluk + ..... birlik
- 70 = ..... onluk + ..... birlik
- 96 = ..... onluk + ..... birlik
- 30 = ..... onluk + ..... birlik
- 71 = ..... onluk + ..... birlik
- 29 = ..... onluk + ..... birlik
- 41 = ..... onluk + ..... birlik

4) Aşağıdaki verilen sayıların basamak değerlerini yazınız.

