



## TOPLAMA İŞLEMİ PROBLEMLERİ

1.  Babamın verdiği 5 TL'ye, annemin verdiği 4 TL'yi ekledim.  
Kaç liram olmuştur?


2.  Gruptaki arılara 5 arı daha katılıyor. **Grupta toplam kaç arı olur?**



3. Gruptaki ördeklerin yanına 3 ördek daha geliyor. **Toplam kaç ördek olur?**

[illegible]

4. Ali amcanın 4 keçisi vardı. Ali amca 3 keçi daha alırsa kaç keçisi olur?



5. Benim 10, kardeşimin 4 bilyesi vardır. Bilyelerimizin sayıları toplamı kaçtır?




6.  
- Ahmet, cevizleri aynı sepete doldurmak istiyor. Buna göre sepette kaç ceviz olur?



7. Bahattin'in 6 TL'si vardı. Babası yandaki kadar daha para verdi. Bahattin'in kaç lirası oldu?




8.  Elif üç toplama işlemi yaptı. Sonucu doğru olan işlem, ablasının yaşını göstermektedir. Aşağıdakilerden hangisi Elif'in ablasının yaşıdır?




A)  $6 + 7 = 15$

B)  $8 + 7 = 14$

C)  $8 + 4 = 12$

9.  5 kırmızı güle 7 mavi gül ekleyip buket hazırladım.




Arda'nın hazırladığı bukette kaç çiçek vardır?

10.   Azra iki grup halindeki balonların sayılarını topluyor. **Toplam kaç balon vardır?**



11. 7 boya kalemim vardı. Annem 6 boya kalemi daha alınca kaç boya kalemim olmuştur?

- 1 2.  Nisa, ineklerin sayısından başlayıp birer sayma yapıyor. 5.saymada söylediği sayının 8 fazlası kaçtır?

