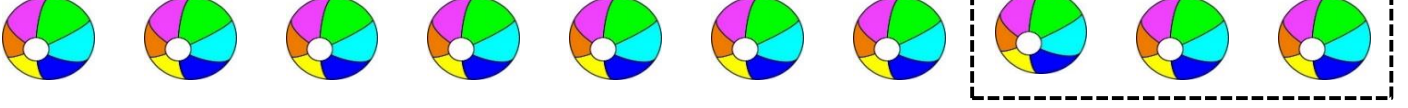


# Bin Çoklutan İstenilen Kadarını Ayırma

(Ayırma İşlemini Sonda Gösterelim)

1. Toplardan 3 tanesini ayıralım.




2. Toplardan 8 tanesini ayıralım.



3. Toplardan 5 tanesini ayıralım.



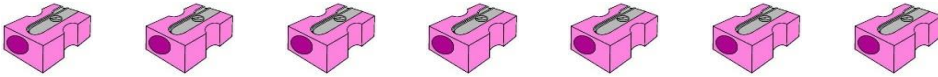
4. Kalemlerden 9 tanesini ayıralım.




5. Kalemlerden 4 tanesini ayıralım.



6. Kalemtraşlardan 6 tanesini ayıralım.



7. Silgilerden 2 tanesini ayıralım.



8. Kitaplardan 1 tanesini ayıralım.



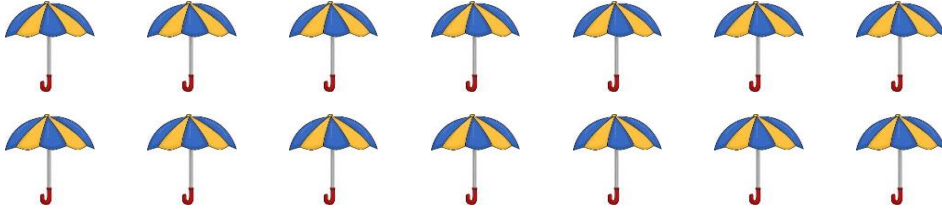
9. Suluklardan 7 tanesini ayıralım.



10. Arabalardan 3 tanesini ayıralım.



11. Şemsiyelenden 9 tanesini ayıralım.



12. Bisikletlerden 7 tanesini ayıralım.



13. Uçan Balonlardan 3 tanesini ayıralım.



14. Motorlardan 8 tanesini ayıralım.

