

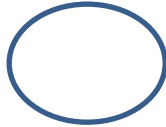
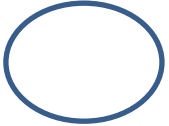


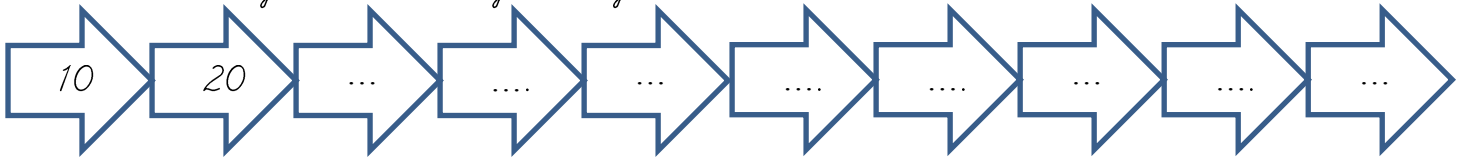
1. Aşağıdaki örüntüde boş bırakılan yere yandaki resimlerden hangisi gelmelidir?
Yuvarlak içine alalım.



2. Aşağıdaki nesnelerin sayısını altlarına yazalım.



3. Onan onan yüze kadar sayarak, yazalım.





4. 20den geriye sayarak yazalım.






5. Aşağıdaki yüzlik tabloda bazı sayılar yazılmamıştır. O sayıları da biz yazalım.

1	2		4			7			10
	12	13		15			18		
			24		26			29	
31				35		37			40
	42						48		
51		53		55				59	
			64		66				70
71					76	77			
81		83					88		90
	92			95				99	

6. Aşağıdaki varlıkları örnekteki gibi onluk ve birliklerine ayıralım.

	
Onluk	Binlik
1	5
15	

	
Onluk	Binlik

	
Onluk	Binlik

7. Aşağıdaki varlıkları eşleştirelim. Eşi olmayan varlığı yuvarlak içine alalım.

