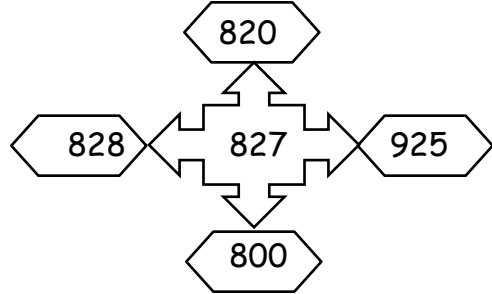
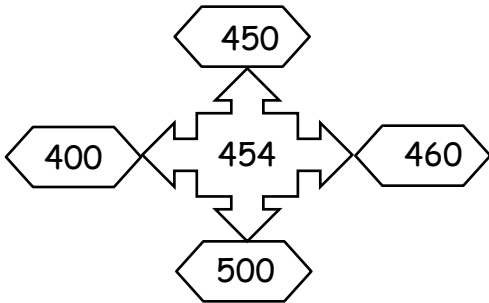


4. SINIF MATEMATİK ÖDEVİ

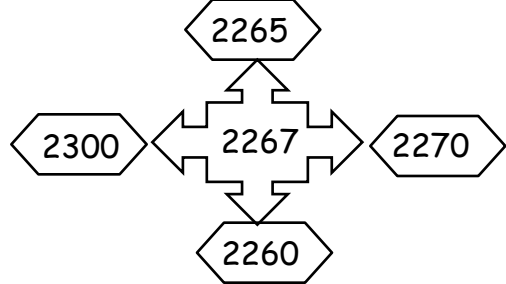
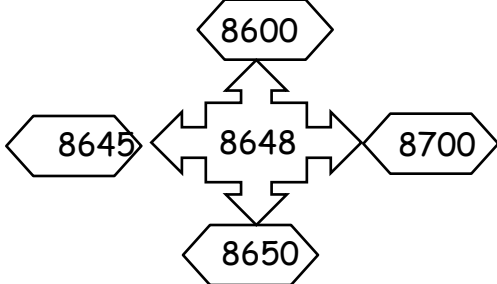
1) Aşağıda verilen sayıları tabloda belirtildiği gibi en yakın yüzlüğe yuvarlayınız.

Sayılar	445	9865	3427	9866	3341	6532	1245	985	5665
En yakın yüzlüğe yuvarlama									

2) Aşağıdaki doğal sayıların en yakın yüzlüğe yuvarlanmış hallerini boyayınız.



3) Aşağıdaki doğal sayıların en yakın yüzlüğe yuvarlanmış hallerini boyayınız.



4) Aşağıda yazılışı verilen doğal sayıları en yakın onluğa ve en yakın yüzlüğe yuvarlayınız.

SAYI	En yakın onluğa yuvarlama	En yakın yüzlüğe yuvarlama
Beş yüz altmış yedi		
Yedi yüz kırk altı		
Bin altı yüz seksen beş		
Üç bin yüz beş		
Beş bin yüz otuz üç		