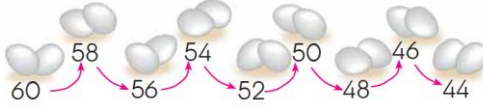


1)



Yukarıdaki ritmik sayma için aşağıdakilerden hangisi söylenemez?

- A) 2' şer 2' şer ileriye doğru sayılmaktadır.
 B) 5. saymada 52 sayısı söylenmiştir.
 C) Bu ritmik sayma devam ettirmek istenirse 42 sayısı söylenmelidir.

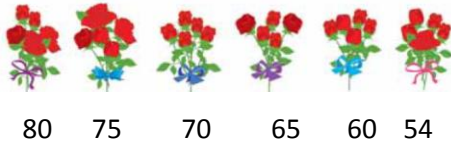
2)

38, 40, 42, 44, 46, ..., ..., 52

Yukarıdaki ritmik saymada verilmeyen sayılar aşağıdakilerden hangisidir ?

- A) 50 ve 52 B) 48 ve 50
 C) 47 ve 48

3)



Ahmet, yukarıdaki gülleri 80 ' den başlayarak 5'er 5' er geri sayarken bir yanlışlık yapmıştır.

Aşağıdaki söylenenlerden hangisini yaparsak bu yanlışlığı düzeltilmiş olur?

- A) 70 yerine 71 yazarak.
 B) 54 yerine 55 yazarak.
 C) 80 yerine 85 yazarak.

5) 3' er 3' er 5 defa sayan bir öğrenci aşağıdaki hangi sayıyı bulur ?

- A) 20 B) 18 C) 15

6)



Yukarıdaki öğrencileri 4' er ritmik saydığımızda aşağıdakilerden hangisini söylemeyiz ?

- A) 8 B) 12 C) 15

7) 44, 48, 52, ..., 60, 64

Yukarıdaki ritmik saymada verilmeyen sayı aşağıdaki hangi seçenekte verilmiştir?

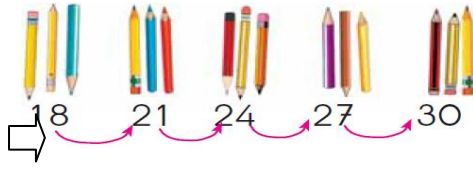
- A) 56 B) 40 C) 68

8) Kaç tane 3 sayarsak 18 sayısına ulaşırız ?

- A) 5
 B) 6
 C) 21



9)



Yukarıdaki ritmik sayma aşağıdaki hangi sayı ile devam ettirilebilir ?

- A) 15 B) 33 C) 31

10)



Yukarıdaki ritmik saymadaki boşluklar hangi sayılarla doldurulmalıdır ?

- A) 74 - 73
B) 74 - 70
C) 82-64

11) 10 ' ar ritmik sayma yaparken 6. saymada hangi sayıyı söyleriz ?

- A) 50 B) 60 C) 70


12)



Yukarıdaki ritmik saymanın doğru olabilmesi için hangi sayıyı değiştirilmesi gerekmektedir ?

- A) 32
B) 28
C) 26

13)



Yukarıdaki ritmik saymada boş bırakılan yere hangi sayı gelmelidir?

- A) 26 B) 38 C) 18

14)

3, 6, 9, 12, 15, 18, 21, ...



Ayşegül

Yukarıdaki görsel ile ilgili olarak söylenenlerden hangisi yanlıştır?

- A) Ayşegül, 3' er ritmik sayma yapmaktadır.
B) Ayşegül, 4. saymada 12'yi söylemiştir.
C) Ayşegül, 21 den sonra 25' i söylemelidir.

Kolaylıklar diliyorum....

