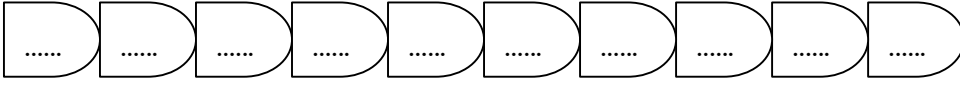
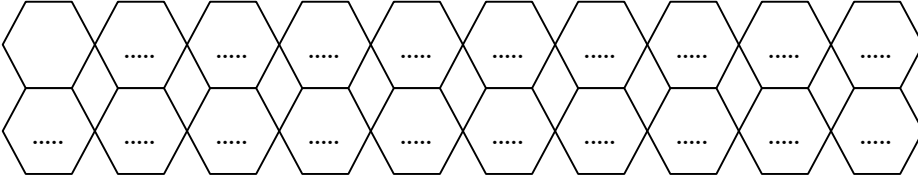




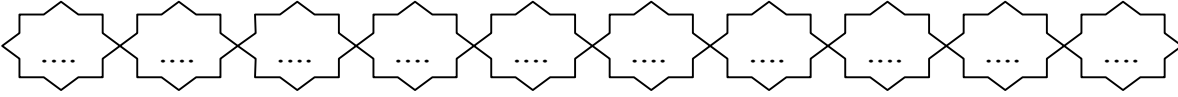
8. 40'tan başlayarak geriye dörder ritmik sayınız.



9. 1 00'den başlayarak geriye beşer ritmik sayınız.



10. 1 00'den başlayarak geriye onar ritmik sayınız.



11. Aşağıdaki boşluklara gelecek sayıları bul.

- İleriye doğru üçer ritmik sayarken 12'den sonra ..... sayısını söyleriz.
- İleriye doğru beşer ritmik sayarken 35'ten sonra ..... sayısını söyleriz.
- İleriye doğru ikişer ritmik sayarken 46'dan sonra ..... sayısını söyleriz.
- İleriye doğru ikişer ritmik sayarken 78'den sonra ..... sayısını söyleriz.
- İleriye doğru ikişer ritmik sayarken 8'den sonra ..... sayısını söyleriz.
- İleriye doğru dörder ritmik sayarken 24'ten sonra ..... sayısını söyleriz.
- İleriye doğru dörder ritmik sayarken 36'dan sonra ..... sayısını söyleriz.
- İleriye doğru onar ritmik sayarken 50'den sonra ..... sayısını söyleriz.

12. Aşağıdaki boşluklara gelecek sayıları bul.

- Geriye doğru ikişer ritmik sayarken 42'den sonra ..... sayısını söyleriz.
- Geriye doğru beşer ritmik sayarken 75'ten sonra ..... sayısını söyleriz.
- Geriye doğru onar ritmik sayarken 30'dan sonra ..... sayısını söyleriz.
- Geriye doğru üçer ritmik sayarken 21'den sonra ..... sayısını söyleriz.
- Geriye doğru dörder ritmik sayarken 20'den sonra ..... sayısını söyleriz.
- Geriye doğru üçer ritmik sayarken 15'ten sonra ..... sayısını söyleriz.
- Geriye doğru ikişer ritmik sayarken 26'dan sonra ..... sayısını söyleriz.