

Adı:

DOĞAL SAYILAR ÜNİTESİ



Soyadı:

Onluklar - Birlikler

Sınıf: 2- B No:

1.

Onluk	Birlik
3	4

 Yandaki tabloda gösterilen sayı aşağıdakilerden hangisidir?


A) 34 B) 43 C) 7

2. Aşağıdakilerden hangisi 58 sayısını ifade etmektedir?

A) 8 onluk 5 birlik
B) 5 onluk 8 birlik
C) 3 onluk 8 birlik


3.  2 düzine kalemim var.

Merve'nin kalemlerini hangi arkadaşı onluk ve birliklerine doğru ayırmıştır?

A)  2 onluk 4 birlikB)  2 onluk 2 birlikC)  4 onluk 2 birlik


4. "6 onluk 5 birlik"ten oluşan sayı aşağıdakilerden hangisidir?

A) 56 B) 65 C) 60

5.  Çiçek bahçesinde 71 tane gül gördüm.


Efe'nin gördüğü 71 tane gülde kaç onluk vardır?

A) 1 B) 6 C) 7

6. 

Yukarıdaki horozların sayısı aşağıdakilerden hangisine eşittir?

A) 1 onluk 6 birlik B) 1 onluk
C) 6 onluk 1 birlik

7.  Sınıfımda 38 öğrencim var. Hepsini de çok seviyorum.

Sınıfımdaki öğrenci sayısı aşağıdakilerden hangisi ile ifade edilebilir?

A) 3 onluk B) 3 onluk 8 birlik
C) 8 onluk 3 birlik



8.

.... onluk	9 birlik
20	9
yirmi	dokuz
29	

 Yandaki tabloda boş bırakılan yere hangi sayı gelmelidir?

A) 9 B) 20 C) 2

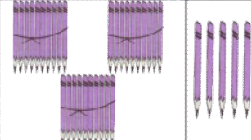

9.

onluk	birlik
	

Yandaki tabloda modellenen sayı aşağıdakilerden hangisidir?



- A) 33 B) 23 C) 32

10. Yandaki tabloda modellenen sayı aşağıdakilerden hangisidir?

onluk	birlik
	


- A) 35 B) 53 C) 55

11.

onluk	birlik
	

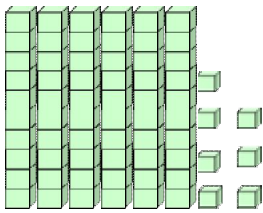
Yandaki tabloda modellenen sayı aşağıdakilerden hangisidir?

- A) 36 B) 46 C) 56



12. Yandaki onluk ve birlik blokları ile ifade edilen sayı hangisidir?

- A) 45 B) 44 C) 54



13. Yandaki onluk ve birlik blokları ile ifade edilen sayı hangisidir?

- A) 67 B) 57 C) 65

onluk	birlik
8	2

14. Yandaki tablo aşağıdaki sayılardan hangisini ifade eder?


- A) Seksen iki B) Yirmi sekiz C) On iki

15.

onluk	birlik
	

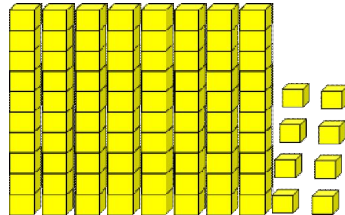
Yandaki abaküste ifade edilen sayı aşağıdakilerden hangisidir?

- A) 94 B) 95 C) 49




16. Yandaki onluk ve birlik blokları ile ifade edilen sayı hangisidir?

- A) 58 B) 95 C) 59




17. Yandaki onluk ve birlik blokları ile ifade edilen sayı hangisidir?

- A) 88 B) 98 C) 89

onluk	birlik
7	3
	

18. Yandaki tabloda aşağıdaki sayılardan hangisi oluşturulur?

- A) 37 B) 73 C) 53

onluk	birlik
9	8
	

19. Yandaki tabloda aşağıdaki sayılardan hangisi oluşturulur?

- A) Sekiz dokuz B) Seksen dokuz C) Doksan sekiz