



Adı:	DOĞAL SAYILAR ÜNİTESİ	
Soyadı:	Deste ve Düzine	
Sınıf: 2- B No:		


1. Aşağıdaki öğrencilerden hangisinin kurduğu cümle bir desteye örnektir?


A)  Evde 12 tane tasom var.


B)  Kırtasiyeden 10 tane kalem aldım.

C)  Evimizdeki kedinin 6 tane yavrusu var.

2. Aşağıdaki nesne gruplarından hangisi bir düzineyi belirtir?

A) 


B) 

C) 

3. Bir deste silgisi olan Ayşe'nin kaç tane silgisi vardır?

- A) 12 B) 10 C) 8

4. Gece gökyüzünde 12 tane yıldız gördüm.




Enes'in gördüğü yıldızları aşağıdakilerden hangisiyle ifade edebiliriz?

- A) deste B) düzine C) sonsuz

5. Yandaki yıldızlara kaç tane daha eklersem bir deste yıldız eder?



- A) 5 B) 10 C) 4

6.  Esra'nın bir düzine kalemi var. Annesi, Esra'ya 4 kalem daha verirse Esra'nın kaç kalemi olur?

- A) 16 B) 14 C) 12

7. Bir bakkal aldığı iki deste futbol topunun 8 tanesini satmıştır. Bakkalın elinde kaç tane top kalmıştır?

- A) 12 B) 20 C) 14

8. 

Yukarıdaki bardakların bir düzine olması için kaç tane daha eklememiz gerekir?

- A) 3 B) 5 C) 12