


## 2.SINIF TEST(2) DESTE VE DÜZİNE


1)



Yukarıdaki şekilde kaç deste fırça bulunmaktadır ?

- A) 20      B) 2      C) 10

2)



Yukarıdaki şekilde bulunan kalemlerle ilgili söylenenlerden hangisi yanlıştır?

- A) Dört düzine kalem vardır.  
B) 48 tane kalem vardır.  
C) 4 deste kalem vardır.

3) Deste için söylenenlerden hangisi doğrudur?

- A) Aynı türden 12 tane nesne ile oluşturulur.  
B) Destenin 2 fazlasına düzine denir.  
C) Deste , düzine ile aynıdır.

4)



Yukarıdaki şekilde bulunan sayma çubuklarından kaç tane deste oluşturabiliriz ?

- A) 3      B) 4      C) 5

5)



Yukarıdaki balıkların sayısı için söylenenlerden hangisi yanlıştır?

- A) 2 düzineden 4 tane daha fazladır.  
B) 2 desteden 4 tane fazladır.  
C) 24 tanedir.



## 2.SINIF TEST(2) DESTE VE DÜZİNE

6)

1	2	3	4	5	6	7	8	9	10
11	12	13	14	15	16	17	18	19	20
21	22	23	24	25	26	27	28	29	30
31	32	33	34	35	36	37	38	39	40
41	42	43	44	45	46	47	48	49	50

Yukarıdaki sayılar için söylenenlerden hangisi yanlıştır?

- A) 10' arlı gruplara ayırdığımızda 5 tane grup oluşturabiliriz.
- B) 12' şerli gruplara ayırdığımızda 6 tane grup oluşturabiliriz.
- C) Bu sayılardan 5 deste oluşturabiliriz.

7)



Şekildeki toplara kaç tane daha top eklersek 2 deste topumuz olur ?

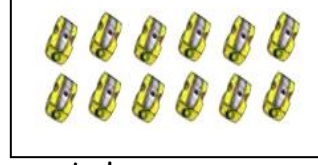
- A) 6
- B) 8
- C) 16

8) Aynı türden 24 tane kalem ile aşağıdakilerden hangisi oluşturulur?


- A) 2 düzine
- B) 2 deste

C) 3 deste

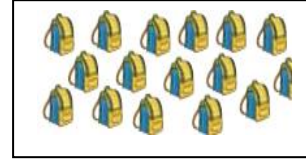
9)



kalemtıraş



araba



çanta

yukarıdaki grupların hangisinin sayısı 1 düzineye eşittir ?

- A) kalemtıraş
- B) araba
- C) çanta

10) Aşağıdaki ifadelerin hangisi yanlıştır?

- A) 1 deste, aynı türden 10 tane nesnenin bir araya gelmesiyle oluşur.
- B) 1 düzine, farklı türden 12 tane nesnenin bir araya gelmesiyle oluşabilir.
- C) Düzine, desteden daha fazladır.

