

1- Sağlığımızı koruyabilmek için aşağıdakilerden hangisini **yapmalıyız**?

- A) Çikolata ve şekerlemeleri çok çok yemeliyiz.
- B) Açıkta satılan yiyecekleri satın almamalıyız.
- C) Ellerimizi yıkamadan beslenme yapmalıyız.

2- Aşağıdakilerden hangisi Atatürk'ün eğitim gördüğü okullardan biridir?

- A) Gazi İlkokulu
- B) Mustafa Kemal İlkokulu
- C) Şemsi Efendi İlkokulu

3- Tanıdığımız insanlarla karşılaştığımızda hangi davranışı **göstermeliyiz**?

- A) Selâm vermeliyiz.
- B) Arkamızı dönüp gitmeliyiz.
- C) Tanımazlıktan gelmeliyiz.



4- Aşağıdakilerden hangisi okul ve sınıf eşyalarına **zarar veren** bir davranıştır?

- A) Kapı ve pencereleri yavaş kapatmak
- B) Kitaplıktaki kitapları düzeltmek
- C) Sıraları çizmek, karalamak

5- Sınıfta özel bir gün için plan yapmanız gerekiyor. Yaptığınız plânda aşağıdakilerden hangisi **yer almaz**?

- A) Özel günün tarihi ve saati
- B) Özel gün yapılacak salon bulunması
- C) Sınıfın süslenmesi



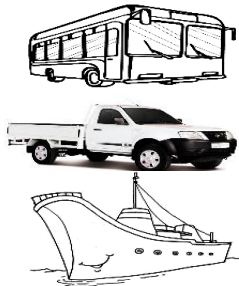
6- Aşağıdakilerden hangisi başımızda **bulunmaz**?

- A) kulak
- B) göz
- C) mide



7- Yandaki taşıtlardan hangisi **farklı grupta** yer alır?

- A) otobüs
- B) gemi
- C) kamyonet



8- Yandaki dördlüğün hangi mısrasında zıt (karşıt) anlamlı sözcükler bir arada kullanılmıştır?

- A) ikinci
- B) üçüncü
- C) dördüncü

Ünümüzü dünyaya
Mertçe duyuran sensin.
Gündüz gün, gece aya,
Benzer kahraman sensin.

9- “Yarışmaya yedi yüz yirmi dört şiir katıldı. hiçbir beğenilmedi. Dönemin Millî Eğitim Bakanı ve arkadaşları Mehmet Âkif’e başvurdular.” Boş bırakılan yere aşağıdakilerden hangisinin yazılması daha uygun olur?

- A) Çünkü
- B) Böylece
- C) Fakat

10- Aşağıdaki cümlelerin hangisinde “Nasıl” sorusunun cevabı vardır?

- A) Meclis’te Mehmet Âkif’in şiiri okundu.
- B) Meclis’teki herkes şiiri coşkuyla alkışladı.
- C) Mehmet Âkif utandı.

11-

asla

unutulmayacak

insan

büyük

bu

Yukarıdaki kelimelerle anlamlı ve kurallı bir cümle oluşturduğumuzda **baştan ikinci kelime** hangisi olur?

- A) büyük
- B) asla
- C) insan

12-

meclis

palto

şiir

ödül

Yukarıdaki kelimeleri alfabetik sıraya koyarsak hangisini **en son sırada** yazmalıyız?

- A) şiir
- B) meclis
- C) ödül

13- “Salih Efe, heyecanlandı. Gözleri yaşlı yaşlıydı ()” cümlesinin sonuna hangi noktalama işareti konulmalıdır?

- A) nokta (.)
- B) soru işareti (?)
- C) ünlem (!)

- 14-beğenildikalplerimizdekavuşmuştu
- 1 2 3

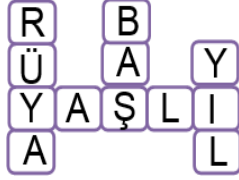
Yukarıdaki kelimelerden hangisi satır sonuna sığmadığında **yanlış** yerden bölünerek hecelenmiştir?

- A) 1 B) 2 C) 3

- 15- "Teyzem, dün gitti" cümlesinin soru cümlesi olması için noktalı yere hangi kelime yazılmalıdır?

- A) markete B) pazara C) nereye

- 16- Yandaki bulmacadaki kelimelerin eş anlamlıları hangi seçenekte doğru olarak verilmiştir?

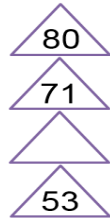


- A) düş, kafa, ihtiyar, sene
B) genç, mevsim, hayal, kafa
C) yüz, uyku, dede, sene

- 17- 73 sayısı aşağıda onluk ve birlikleri verilen hangi sayıdan **daha büyüktür**?

- A) 8 onluk 2 birlik
B) 7 onluk 8 birlik
C) 9 birlik 6 onluk

- 18- Yandaki sayılar yukarıdan aşağıya **büyükten küçüğe doğru** sıralanmıştır. Boş bırakılan şeklin içine hangi sayı yazılabilir?



- A) 73 B) 67 C) 49



Muharrem, üsteki paraları vererek bir kitap alıyor. Aldığı kitabın fiyatı ne kadardır?

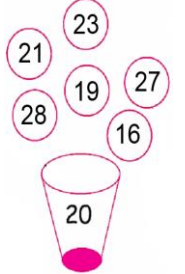
- A) 7 lira 50 kuruş
B) 9 lira
C) 8 lira 50 kuruş

- 20- Dün Bugün Yarın
- Salı

Dün günlerden salıydı. Buna göre yarın günlerden ne olacaktır?

- A) pazartesi B) çarşamba C) perşembe

- 21- Yandaki sayılar en yakın onluğa yuvarlanarak bardağa konulacaktır. Buna göre hangi sayılar bardağın içine konulmaz?

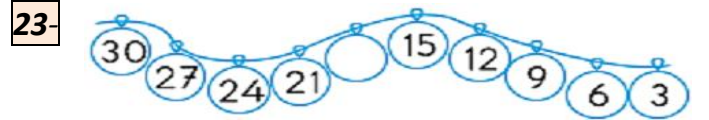


- A) 27 ve 28
B) 16 ve 19
C) 21 ve 23

- 22- Silgimizin uzunluğu hangisiyle daha kolay ölçebiliriz?



- A) karış B) kulaç C) parmak



Yukarıdaki ritmik saymada boş bırakılan yere hangi sayı yazılmalıdır?

- A) 18 B) 19 C) 20

- 24- Aşağıdaki doğal sayılar yakın oldukları onluklarla eşleştirilmiştir. Hangi eşleştirme **yanlış** yapılmıştır?

- A) 34 \Rightarrow 30 B) 66 \Rightarrow 70 C) 85 \Rightarrow 80

- 25- Aşağıdaki ifadelerden doğru olanların yanına "D", yanlış olanların yanına "Y" harfi koyunuz.

- Sıramızın boyu yaklaşık 9 parmaktır. ()
- Okullar sonbahar mevsiminde kapanır. ()
- Bir düzine, bir desteden 2 tane fazladır. ()
- En küçük kâğıt paramız 5 TL dir. ()

B A Ş A R I L A R
Cevaplarınızı kontrol ediniz.

Her soru 4 (dört) puandır.