

BÖLME İŞLEMİ İLE İLGİLİ PROBLEMLER

1. Sultan 63 sayfalık bir kitabın her gün 3 sayfasını okuyor. Sultan kitabı kaç günde bitirir?




2. 4 kasada 96 elma varsa, 1 kasada kaç elma vardır?



3. 69 çiçeği 3'erli şekilde buket yaparsak, kaç buket oluşur?



4. Narin' in 42 kalem var . 7 kutuya paylaşmak istiyor. Her kutuda kaç kalem olur?




5. Çiçekçi Ayşe 93 çiçeği 8 vazoya paylaşmak istiyor. Her vazoda kaç çiçek olur? Artan çiçek olur mu?



6. 36 kişilik bir sınıfta her sıraya 3'er kişi oturduğuna göre bu sınıfta kaç sıra vardır?




7. Tuğba'nın 72 lirası vardır. Tanesi 2 lira olan hikaye kitaplarından kaç tane alabilir?



8. Fikret 5 gömleğe 75 lira ödemiştir. Fikret'in aldığı gömleklerin her biri ne kadardır?



9. Sütçü Yıldız Amca 243 litre sütü her biri 9'ar litre olan bidonlara doldurmak istiyor. Yıldız amcanıza kaç tane bidon gereklidir?



10. 68 liraya aldığım paltomu 4 taksitte ödeyeceğim. Her ay kaç lira ödeme yapmam gerekir?

11. sepette bulunan 143 yumurtayı 11 kişiye paylaşdırmak isteyen satıcının , her kişiye kaç yumurta vermesi gerekir?

