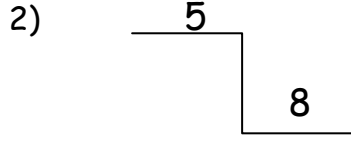


Adı , Soyadı :

## 2. SINIF BASAMAK DEĞERİ

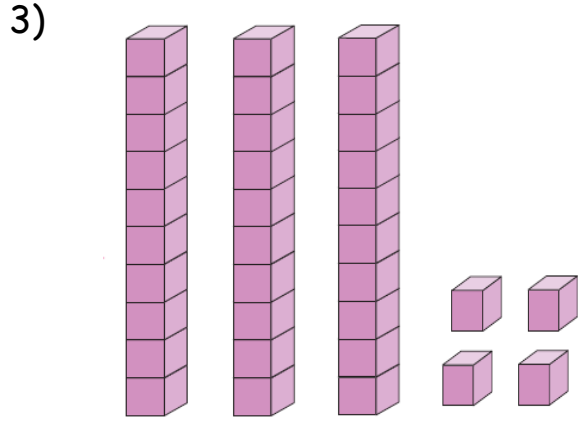
1) Aşağıdaki sayılardan hangisinin, onlar basamağındaki sayının basamak değeri 20' dir ?

- A) 19      B) 25      C) 42



Merdivenin basamaklarına yerleştirilen yukarıdaki sayının 5 rakamının basamak değeri kaçtır ?

- A) 5      B) 50      C) 58



Sayı bloklarıyla yukarıda belirtilen sayının onlar basamağında kaç tane onluk vardır ?

- A) 3      B) 4      C) 30

4) Aşağıdaki sayılardan hangisindeki 3 'ün basamak değeri 30'dur ?

- A) 23      B) 43      C) 39

5) Aşağıdaki sayılardan hangisinin, onlar basamağındaki sayının basamak değeri 70 ' tir ?

- A) 75      B) 47      C) 17

6)

kırmızı	68
mavi	54
yeşil	19
mor	42

Yukarıda sınıfımızda bulunan boya kalemlerinin renkleri ve sayıları görülmektedir. Hangi renkteki boya kaleminin sayısında 4 onluk, 2 birlik bulunmaktadır ?

- A) kırmızı      B) sarı  
C) mor

7) 35 sayısındaki onlukların basamak değerleri toplamı , birliklerin basamak değeri toplamında kaç fazladır ?

- A) 2      B) 25      C) 20

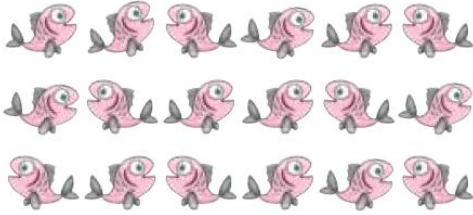


Adı , Soyadı :

8) Rakamlarının basamak değeri 5 ve 60 olan sayı hangi seçenekte verilmiştir?

- A) 65      B) 56      C) 66

9)



Yukarıdaki balıkların sayısındaki onlukların sayısını oluşturan rakam aşağıdakilerden hangisidir ?

- A) 18      B) 1      C) 8

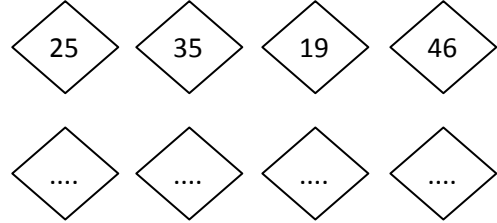
10 ) 65 sayısının basama değeri toplamı kaçtır ?

- A) 25      B) 11      C) 65

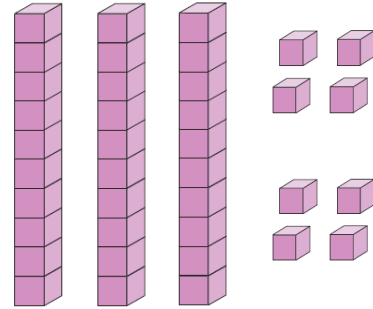
11) Birler basamağının basamak değeri 7 , onlar basamağının basamak değeri 30 olan sayı aşağıdakilerden hangisidir?

- A) 37      B) 73      C) 30

12) Aşağıdaki sayıların onlar basamağındaki rakamların sayı değerlerini küçükten büyüğe doğru sıralayınız.



13)



Yukarıdaki sayı bloklarıyla oluşan sayının onlar basamağındaki rakamı 1 artırırsak yeni sayımız ..... olur.

14 ) Onlar basamağındaki rakamlarının sayı değerleri eşit olanları boyayınız.

