

Adı:	ETKİNLİK SAYFASI	
Soyadı:	Konu : Basamak Adları - Basamak Değerleri	
Etkinlik No:		

A) Aşağıdaki istenen sayıları bulup yazınız.

- Onlar basamağında 7, birler basamağında 3 olan sayı:
- Onlar basamağında 1, birler basamağında 5 olan sayı:
- Birler basamağında 4, onlar basamağında 8 olan sayı:
- Birler basamağında 0, onlar basamağında 2 olan sayı:
- Onlar basamağında 5, birler basamağında 9 olan sayı:
- Birler basamağında 9, onlar basamağında 5 olan sayı:




B) Aşağıdaki sayılarda birler basamağında 6 olan sayıları yuvarlak içine alınız.

43 - 56 - 66 - 71 - 63 - 16 - 60

C) Aşağıdaki sayılarda onlar basamağında 5 olan sayıları kutu içine alınız.

21 - 57 - 65 - 15 - 50 - 95 - 54

Ç) Aşağıdaki sayıların birler basamağındaki sayıları toplayıp sonucunu yazınız.

-  24 - 61 - 32 → + + =
 47 - 54 - 70 → + + =
 90 - 25 - 12 → + + =

D) Aşağıdaki sayıların onlar basamağındaki sayıları toplayıp sonucunu yazınız.

- ❖ 53 - 89 - 18 → + + =
 ❖ 20 - 80 - 40 → + + =
 ❖ 71 - 14 - 62 → + + =

E) Aşağıdaki sayılarda belirtilen rakamın basamak adını ve basamak değerini yazınız.

38 Basamak Adı Basamak Değeri
 ↓

57 Basamak Adı Basamak Değeri
 ↓

94 Basamak Adı Basamak Değeri
 ↓

32 Basamak Adı Basamak Değeri
 ↓

60 Basamak Adı Basamak Değeri
 ↓

85 Basamak Adı Basamak Değeri
 ↓
