






1- "kelebekler" sözcüğü satır sonuna sığmadığında aşağıdakilerden hangisi gibi bölünemez?

- A. ke-
bekler B. ke-
lebekler C. kelebe-
kler

2- Aşağıdakilerden hangisi "Türkçemiz" sözcüğünü doğru hecelemiştir?

- A.  TÜR-kçe-miz B.  Türkçe-miz
C.  Türk-çe-miz

3- kapı dolap okul taş bilet

Yukarıdaki sözcüklerden hangileri sözlükte, "gazete" sözcüğünden önce gelir?

- A. kapı – dolap – okul
B. bilet – dolap
C. okul – taş – bilet

4- tepe cesur küp mil dere

Yukarıdaki sözcüklerden hangileri sözlükte, "küçük" sözcüğünden sonra gelir?

- A. küp – mil – dere
B. tepe – küp – mil
C. cesur – dere

Sınıfımı geçtim ben.
Sevinçten uçtum ben.
Bisiklet isterim senden.
Baba, alalım hemen.

Geçen sene söz verdin.
"Babaannen de şahit." dedin.
Bisiklet isterim senden.
Baba, alalım hemen.

Mustafa SAĞLAM

5., 6., 7. ve 8. soruları yukarıdaki şiire göre cevaplayınız.

5- Şiirdeki çocuk babasından, aşağıdakilerden hangisini istemektedir?

- A.  B.  C. 

6- Şiirdeki, "Babaannen de şahit." dedin. mısrası ile ne anlatılmak istenmektedir?

- A. Babası, babaannenin yanında söz vermiş.
B. Babaanne şehit olmuş.
C. Bisikleti babaanne alacaktı.

7- Şiirin başlığı aşağıdakilerden hangisi olabilir?

- A. Babaannem B. Bisiklet
C. Babamın Bisikleti

8- Şiirde aşağıdakilerden hangisi söz konusudur?

- A. kıskançlık B. mutluluk
C. istek

9- Aşağıdaki sözcüklerden hangisi doğru yazılmıştır?

A. Çarşamba B. Perşembe C. patetiz

10- " için erken uyanamadım." cümlesinin anlamlı bir cümle olabilmesi için noktalı yere aşağıdakilerden hangisi getirilmelidir?

A. Geç vakte kadar televizyon izlediğim
B. Akşam erkenden uyuduğum
C. Annem, beni erkenden uyandırdığı

11- Kar çok yağdığı için yollar kapanmıştı. Kasabaya üç günden beri hiçbir araç gelememişti. Bu yüzden kasabada ekmek sıkıntısı başlamıştı.



Yukarıdaki metne göre kasabaya araçların gelememe nedeni nedir?

A. Kasabada ekmek sıkıntısı olması.
B. Şoförlerin hasta olması.
C. Karın çok yağması.

12- "Dikmek" sözcüğü aşağıdakilerden hangisinde yandaki resimde görülen anlamıyla kullanılmıştır?



A. Pantolonumun sökülen yerini diktim.
B. Bahçemize çam fidanı diktik.
C. Bu ağaçları dedem dikmişti.

13- "Yüz" sözcüğü aşağıdaki seçeneklerden hangisinde, diğer ikisinden farklı anlamda kullanılmıştır?

A. Bunu iki yüz liraya aldım.
B. Utancından yüzü kızarmış.
C. Matematik dersinde beş yüze kadar saydık.

14- "t - a - k - z - i - r - e - p - d - u"

Yukarıdaki harfleri kullanarak aşağıdakilerden hangisini yazamayız?



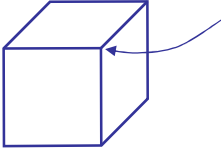
15- "Dün akşam teyzemlere gittik." cümlesinin sözcük ve hece sayısı için aşağıdakilerden hangisi doğrudur?

	Sözcük Sayısı	Hece Sayısı
A.	4	9
B.	4	12
C.	5	10

Türkçe testi bitti.

Matematik testine geçiniz.

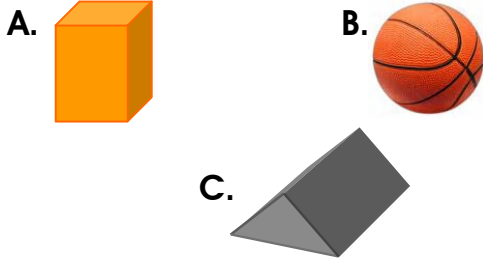
1-



Yukarıdaki şekilde okla gösterilen kısım aşağıdakilerden hangisidir?

- A. yüz B. köşe C. ayrit

2- Aşağıda verilenlerden hangisinde köşe yoktur?



3- Aşağıdaki cisimlerden hangisinde hem düz hem de eğri yüz vardır?




Yukarıda verilenleri birleştirerek aşağıdakilerden hangisini oluşturabiliriz?

- A. küp B. küre C. silindir

5- Aşağıda verilen maddelerden hangisinin sadece 1 tane yüzü vardır?

- A. pin pon topu B. kibrit kutusu C. reşel kavanozu

6- Dikdörtgenler prizması yapmak için aşağıdakilerden hangisini kullanırız?



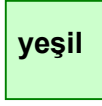
7- Aşağıdakilerden hangisi standart olmayan uzunluk ölçü birimlerinden biri değildir?

- A. karış B. adım C. Metre

8- Ali, annesi ve babası yemek masasının enini ölçüyorlar. Aşağıdakilerden hangisi ile ölçüm yaparlarsa hepsi aynı sonucu bulur?

- A. metre B. parmak C. adım

9-



Yukarıdaki şekillerle ilgili olarak aşağıda verilenlerden hangisi yanlıştır?

- A. İçinde mavi yazan dairedir.
- B. İçinde yeşil yazan küptür.
- C. İçinde sarı yazan üçgensel bölgedir.

10- Hakan'ın 14 tane bilyesi vardır. Hakan'ın bilyeleriyle ilgili olarak aşağıdaki ifadelerden hangisi yanlıştır?

- A. Hakan'ın bilyeleri 1 desteden 4 fazladır.
- B. Hakan'ın bilyeleri 1 düzineden 4 fazladır.
- C. Hakan'ın bilyeleri 2 desteden azdır.


11- Eda'nın annesi 1 düzine yumurtanın 3 tanesini kek yapmak için kullandı. Geriye kalan yumurtalar 1 desteden kaç eksiktir?

- A. 9 B. 1 C. 4

12- Ali, kalemlerini saymış ve "1 düzineden 4 tane eksik" kalemi olduğunu söylemiştir. Buna göre Ali'nin kaç tane kalemi vardır?

- A. 6 B. 4 C. 8


13- Aşağıdakilerden hangisi bir destedir?



14- Ayşe'nin 8 tane boya kalemi vardı. Annesi 7 tane daha boya kalemi verdi. Ayşe'nin boya kalemleri için aşağıdakilerden hangisini söyleyemeyiz?

- A. Ayşe'nin 2 deste boya kalemi olmuştur.
- B. Ayşe'nin boya kalemleri 1 düzineden 3 fazladır.
- C. Ayşe'nin boya kalemleri 1 desteden 5 fazladır.

15- Yandaki şekilde toplam kaç tane kare vardır?



- A. 7 B. 9 C. 3

Matematik testi bitti.

Hayat Bilgisi testine geçiniz.

HAYAT BİLGİSİ

1- Aşağıdakilerden hangisi okul ile ilgili günlük yapmamız gereken işlerden biri değildir?

- A- Çantamızı hazırlamak
- B- Ödevlerimizi yapmak
- C- Marketten ekmek, gazete vb. almak

2-




Mert

Başkalarının düşüncelerine de önem verirdi.



Ayşe



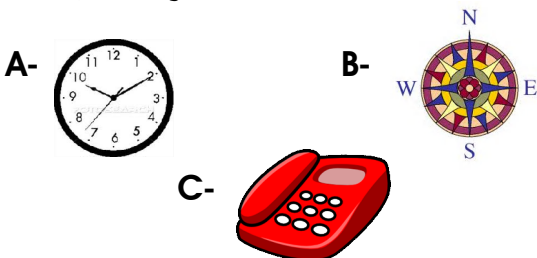
Emre

Disiplinli ve planlı çalışırdı.

Atatürk'ün bütün işlerini başarıyla yapmasının nedenini yukarıdakilerden hangisi doğru açıklamıştır?

- A- Mert
- B- Emre
- C- Ayşe

3- Okula zamanında varabilmek için hangi araçtan faydalanırız?



4-



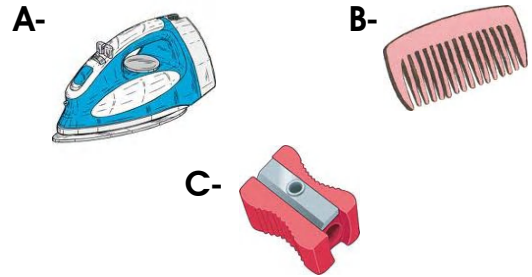
Yarın için çantasını hazırlayan Onur çantasına yukarıdaki araç-gereçleri koymuştur. Buna göre Onur yarın okulda hangi dersi yapmayacaktır?

- A- Beden Eğitimi
- B- Görsel Sanatlar
- C- Müzik

5- Aşağıdaki kişisel bakımlardan hangisini büyüklerimizden yardım almadan yapabiliriz?

- A- Diş fırçalama
- B- Banyo yapma
- C- Saçlarımızı örme

6- Hangisi kişisel bakım aracıdır?



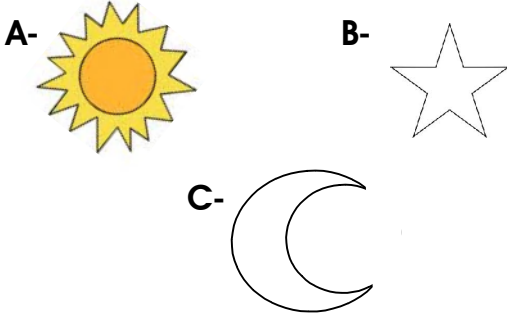
7- Sınıfımızda oturduğumuz yeri bir plan çizerek göstermek istiyoruz. Bu planı çizerken aşağıdakilerden hangisini dikkate almalıyız?

- A- Kapı, pencereler, sıralar
- B- Çöp kovası, mevsim şeridi
- C- Güzel yazı köşesi, harita

8- Aşağıdaki okul kurallarından hangisi başkalarıyla çarpışmamızı önlemek içindir?

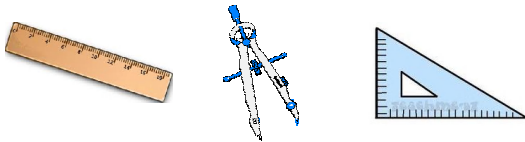
- A- Bahçede ve koridorlarda koşmamak
- B- Yerlere çöp atmamak
- C- Tuvaletleri kirletmeden kullanmak

9- Aşağıdakilerden hangisi bayrağımızda bulunmaz?



10- İstiklal Marşı'mıza niçin saygı göstermeliyiz?

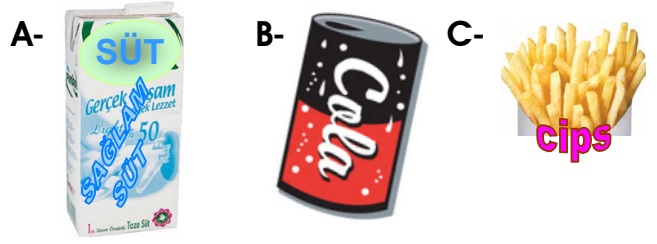
- A- Öğretmenimiz istediği için
- B- Milletimizin bağımsızlığının sembolü olduğu için
- C- Ceza almamak için



11- Yukarıdaki araçlar daha çok hangi derslerde kullanılır?

- A- Türkçe
- B- Matematik
- C- Hayat Bilgisi

12- Aşağıdakilerden hangisi dengeli beslenmede kullanılır?



13- Sabahleyin kahvaltı yapmadan okula giden bir öğrenci için hangisini söyleyebiliriz?

- A- Okula geç kalmaz.
- B- Düzensiz beslenmektedir.
- C- Derslerinde başarılıdır.

14-

1. Menü

2. Menü

3. Menü

- Kuru Fasulye
- Pilav
- Sebze Salatası
- Su

- Makarna
- Etli sebze yemeği
- Yoğurt
- Meyve suyu

- Hamburger
- Patates kızartması
- Pilav
- Kola

Yukarıdakilerden hangisi dengeli beslenmeye uygun değildir?

- A- 1. menü
- B- 2. menü
- C- 3. menü

15- Aşağıdaki ifadelerden hangisi doğrudur?

- A- Herkesin farklı özellikleri vardır.
- B- Herkes birbirine benzemektedir.
- C- Herkes aynı şeyleri yapmaktan hoşlanmaktadır.