

Adı:	HAFTASONU KURSU-2	
Soyadı:	Türkçe - Matematik - Hayat Bilgisi	
12 Ekim 2013		

1) Aşağıdakilerden hangisi sözlükte en önce gelir?

A) armut      B) limon      C) zeytin

2) A-B-C-Ç-D-E-?-?

Yukarıdaki sıraya göre E'den sonra gelecek olan iki harf hangileridir?

A) H-I      B) P-R      C) F-G

3) "Türkçe" kelimesi kaç harften oluşmuştur?

A) 4      B) 6      C) 7

4) "deprem" sözcüğü kaç hecelidir?

A) 1      B) 3      C) 2

5) Aşağıdakilerden hangisi hecelerine yanlış ayrılmıştır?

A) tu-runc-u      B) sa-rı  
C) la-ci-vert

6) 'timsah' kelimesindeki ünlü (sesli) harfler hangileridir?

A) i, a      B) t, m, s, h      C) i, s

10) 'pırasa' sözcüğündeki ünsüz (sessiz) harfler hangileridir?

A) ı, a, a      B) ı, r, a      C) p, r, s

7) 'Ayla kitap okumayı seviyor' cümlesi kaç kelimeden oluşmuştur?

A) 3      B) 5      C) 4




8) Anlamını bilmediğimiz kelimeleri nereden öğreniriz?

A) yazım kılavuzu      B) sözlük  
C) ansiklopedi

9) Aşağıdakilerden hangisinin hece sayısı en fazladır?

A) Çanakkale      B) Ordu  
C) Kayseri

11) Hangi hayvan ismi sözlükte daha önce yer alır?

A)       B)       C) 

12) Hangi cümledeki kelime sayısı diğerlerinden fazladır?

A) Havalar artık soğudu.  
B) Hep birlikte piknik yaptık.  
C) Defterim yırtıldı.

1 2 3  
1 3) kitap biz okuyoruz

Yukarıdaki kelimelerle kurallı cümle oluşturursak sıralama nasıl olur?

- A) 1 - 2 - 3  
B) 2 - 1 - 3  
C) 3 - 1 - 2

1 4)Aşağıdaki sözcüklerin eş anlamlılarını bulup, işaretleyiniz.

- |            |             |            |
|------------|-------------|------------|
|            | 1. Öykü     |            |
| A. Masal   | B. Hikaye   | C. Fıkra   |
|            | 2. Ev       |            |
| A. Konut   | B. Apartman | C. Villa   |
|            | 3. Yoksul   |            |
| A. Zengin  | B. Bonkör   | C. Fakir   |
|            | 4. Deprem   |            |
| A. Fay     | B. Zelzele  | C. Felaket |
|            | 5. Öğüt     |            |
| A. Nasihat | B. Uyarı    | C. İkaz    |
|            | 6. Rüya     |            |
| A. Resim   | B. Uyku     | C. Düş     |
|            | 7. İlk      |            |
| A. Birinci | B. Sonunda  | C. İkinci  |
|            | 8. Misafir  |            |
| A. Gitmek  | B. Konuk    | C. Kalmak  |
|            | 9. Yanıt    |            |
| A. Kelime  | B. Soru     | C. Cevap   |

Ç. Gani ÖZBEK

1 0. Yararlı

A. Faydalı B. İyi C. Kötü

Yavru martı, kumlukta yalnız kalınca, durumunu düşündü. Önünde bol yiyecek vardı. Kumluk sıcak, rahatı iyiydi. Sadece, karşı kayalıklardan gelen martı çığlıkları tedirgin ediyordu onu. Orayı ve oradakileri seviyordu. Ama, uçmaya başlayalı beri, annesi dirlik vermiyordu ikide bir:  
- Haydi uç, denize dal, balık avla, diyerek başının etini yiyordu.

1. Yavru martı nerede yalnız kalmıştı?  
A. kumlukta B. denizde C. evde

2. Yavru martı yalnız kalınca ne düşündü?

A. O gün yaptıklarını B. Annesini  
C. durumunu

3. Yavru martıyı tedirgin eden nedir?  
A. Gece oluşu B. martı çığlıkları  
C. karnının açlığı

4. Ona dirlik vermeyen kimdir?  
A. Arkadaşları B. annesi  
C. diğer martılar

5. Annesi yavru martıdan ne istiyor?  
A. Gezip, eğlenmesini  
B. Uçup, denize dalıp, balık avlamasını  
C. Kumlukta yalnız kalmasını

Ç. Gani ÖZBEK


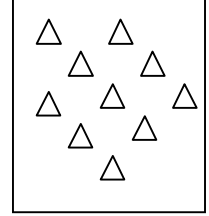


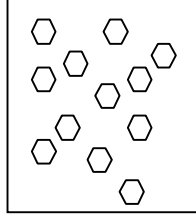
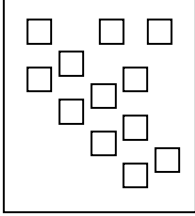
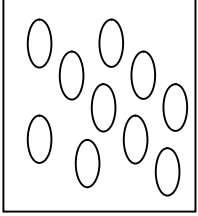
Adı Soyadı:.....

ALDIĞI NOT:.....

Numarası:.....

## ÜMRANIYE İLKOKULU 2-B SINIFI HAFTASONU KURSU

1 )Aşağıdaki nesneleri sayınız. Bu nesnelerin DESTE mi, DÜZİNE mi oluşturduğunu altına yazınız. (7 puan)



.....

.....

.....

.....

.....

.....

.....

2)Aşağıdaki sayıların basamak adlarını ve basamak değerlerini karşılarına yazınız. (12 puan)

32

Basamak adı

Basamak değeri

..... → .....  
..... → .....

85

Basamak adı

Basamak değeri

..... → .....  
..... → .....

36

Basamak adı

Basamak değeri

..... → .....  
..... → .....

3)Aşağıdaki sayıları onluk ve birliklerine ayırınız. (8 puan)

27 = ..... onluk + ..... birlik

37 = ..... onluk + ..... birlik

55 = ..... onluk + ..... birlik

82 = ..... onluk + ..... birlik

4) Aşağıdaki sayıların okunuşlarını yazınız. (8 puan)

86 : .....

67 : .....

93 : .....

70 : .....

5) Aşağıdaki okunuşu verilen sayıları rakamla yazınız. (10 puan)

elli altı=..... doksan beş=..... yetmiş üç=..... kırk altı=.....

seksen sekiz=..... altmış dört=..... on dokuz=..... yirmi yedi=.....

6) 2 den başlayarak 2'şer 2'şer 50 'ye kadar yazınız. (15 puan)

2-.....  
.....  
.....  
.....

7) 5'er 5'er 100'e kadar yazınız. (10 puan)

.....  
.....

8) 3'er 3'er 30'a kadar yazınız. (10 puan)

3.....

9) 4 'er 4'er 40' a kadar yazınız. (10 puan)

4.....

10) Aşağıdaki sayı örüntülerinde verilmeyen sayıları bulup, yazınız. (10 puan)

\* 12 - 14 - 16 - 18 - ..... - 22 - 24 - ..... - 28

\* 58 - 56 - 54 - .... - 50 - ..... - 46 - 44 - 42

\* 25 - 30 - 35 - ..... - 45 - ..... - 55 - 60 - ..... - 70

\* 95 - 90 - 85 - 80 - ..... - 70 - 65 - ..... - 55

\* 3 - 6 - 9 - 12 - ..... - 18 - 21

BAŞARILAR CANLARIM....

Cevaplarını kontrol etmeyi  
unutma!....

Aşağıdaki ifadelerde boş bırakılan yerleri verilenlerden uygun olanlarla tamamlayınız.

düzeni - huzuru

okulda

Mehmet Akif Ersoy

dengeli beslenmiş

özenli

tırnaklarımızı kesmek

yetenekleri – ilgi alanları

öncelik

dengeli - düzenli

ders programı

benzer - farklı

duygularımız

1. ...., bir hafta boyunca okulda hangi derslerin işleneceğini gösteren çizelgedir.
2. .... kişisel bakımdır.
3. Okul kuralları, okulda ..... ve ..... sağlamak için konulmuştur.
4. İstiklal Marşı'mızın yazarı, .....dur.
5. Sınıfta ve koridorda koşturmak, ..... uyulması gereken kurallardan biridir.
6. Her çeşit besinden yeteri kadar yersek ..... oluruz.
7. Sağlığımızı korumak için ..... ve ..... beslenmeliyiz.
8. İnsanların ..... ve ..... farklı olabilir.
9. ...., davranışlarımızı etkiler.
10. Okulda uymamız gereken kurallardan biri de okul ve sınıf eşyalarını ..... kullanmaktır.
11. İşlerimizi, ..... sırasına koyarak yapmalıyız.
12. İnsanların ..... ve ..... yönleri vardır.



Aşağıdaki anlatımları okuyunuz. Doğru ise D, yanlış ise Y sütunundaki harfi, soru numarasına göre kutucuklara yazarak şifreyi çözünüz.

**D Y**

- O K** 1. Okul araç gereçlerini, ders programına göre çantamıza yerleştirmeliyiz.
- U K** 2. Sözlük, yalnızca matematik dersinde ihtiyaç duyduğumuz ders araç gereçlerinden biridir.
- U S** 3. Kişisel bakımımızı yaparken bazen büyüklerimizden yardım isteyebiliriz.
- L E** 4. Bayrağımız, bağımsızlık sembollerimizden biridir.
- Y B** 5. Sınıfın ve okulun temizliğini sağlamak, öğrencilerin görevlerinden biri değildir.
- M i** 6. Okul kuralları, öğretmenler ve okul görevlileri için konulmuştur.
- G E** 7. Dengeli ve düzenli beslenmek, her çeşit besinden yeteri kadar yiyerek olur.
- Y S** 8. Aynı yaştaki iki çocuktan birinin boyunun uzun, diğerinin kısa olması, aralarındaki farklılığa örnektir.
- V i** 9. Aynı yaştaki çocukların farklı özelliklerinin olması doğaldır.
- Ö A** 10. Yaşadığımız duygular ile davranışlarımız arasında bir ilişki yoktur.
- S B** 11. Okul kütüphanesindeki kitapları, özenli kullanmalıyız.
- I L** 12. Okula zamanında gitmek, okul kurallarından biridir.
- N D** 13. İstiklal Marşı, yalnızca bayram törenlerinde söylenir.
- R E** 14. Bayrağımıza ve İstiklal Marşı'mıza saygı göstermeliyiz.



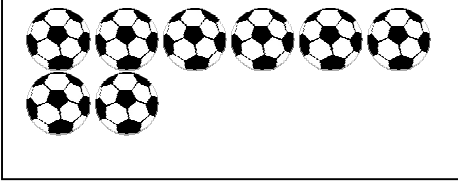


1	2	3	4
...	...	...	...

5	6	4	7	6
...	...	...	...	...

8	3	9	10	11	12	13	12	14
...	...	...	...	...	...	...	...	...

1. Aşağıdaki nesneleri bir desteye tamamlayınız. Kaç tane gerekli olduğunu altına yazınız.



.....

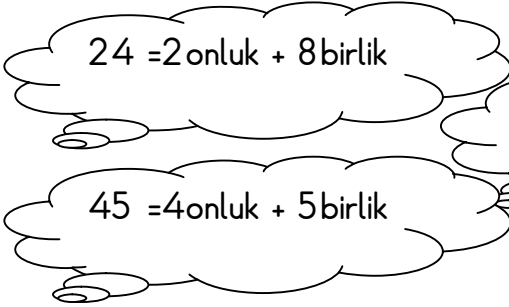
.....

.....

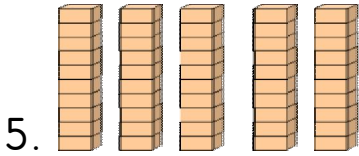
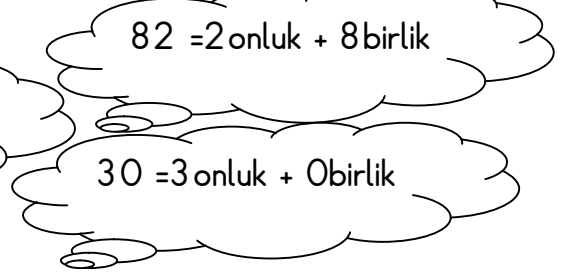
2. 5 tane çiçek toplayan Fatma'nın bir düzine çiçek toplayabilmesi için kaç tane daha çiçek toplaması gerekir? .....

3. 29 sayısında kaç onluk, kaç birlik vardır? .....

4. Aşağıdaki bulutlardan doğru olanlarının içine doğru, yanlış olanlara yanlış yazın.



37 = 3onluk + 7birlik



5. Yandaki onluk ve birlik blokları ile ifade edilen sayı hangisidir? ..... onluk + ..... birlik sayı : .....

6. Beşer beşer sayarken 6. söylediğin sayı kaçtır?

..... - ..... - ..... - ..... - ..... - ..... cevap : .....

7. 26'dan başlayıp ileri ikişer ritmik sayarken 8. söylediğin sayı kaçtır?

..... - ..... - ..... - ..... - ..... - ..... - ..... - ..... cevap: .....

8. 12'den başlayıp 30'a kadar üçer ritmik saydığımızda kaç sayı söyleriz?

..... cevap: .....