

KESİRLERİ KAVRAYALIM

1 Aşağıda verilen ifadelerden doğru olanların karşısına D, yanlış ise Y yazınız.



bütün ekmek

☐

yarım elma

☐

yarım şeftali

☐

bütün karpuz

☐

çeyrek pasta

☐

yarım limon

☐

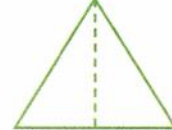
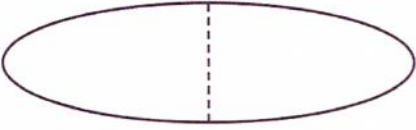
2 Noktalı yerleri tamamlayınız.

2 elmadan ... yarım, ... çeyrek elma elde edilir.

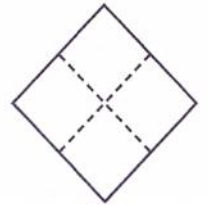
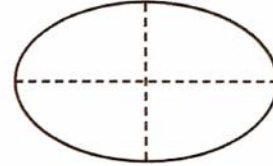
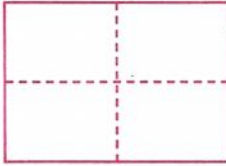
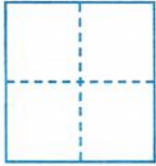
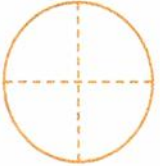
3 pastadan ... yarım, ... çeyrek pasta elde edilir.

4 ekmekten ... yarım, ... çeyrek ekmek elde edilir.


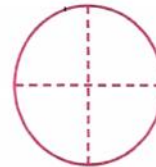
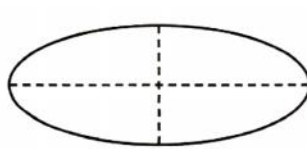
3 Aşağıdaki şekillerin yarısını boyayınız.



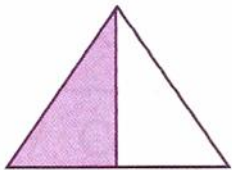
4 Aşağıdaki şekillerin çeyreğini boyayınız.



5 Aşağıdaki şekillerin üç çeyreğini boyayınız.




6 Aşağıdaki şekillerin ne kadarının boyalı olduğunu yazınız.



.....




.....



.....

DÖRT İŞLEM ALIŞTIRMALARI

Verilen sembollere göre boş bırakılan yerleri tamamlayınız.



İşleminiz benden başlasın.

6

+

=

2

:

=

3

:

=

3

×

=

2

+

=

5

:

=

4

×

=

24

-

=

45

=

+

28

=

×

4

=

:

16

=

-

-

=

9

+

=

26

-

=

10

:

=

5

×

=

30

Benim sayım bu oldu.

BÖLME İŞLEMİ

1. Aşağıdaki bölme işlemleriyle sonuçlarını eşleştiriniz.

$14 : 2 = \dots$

$18 : 3 = \dots$

$15 : 3 = \dots$

$12 : 4 = \dots$

7

8

6

4

5

2

3

9

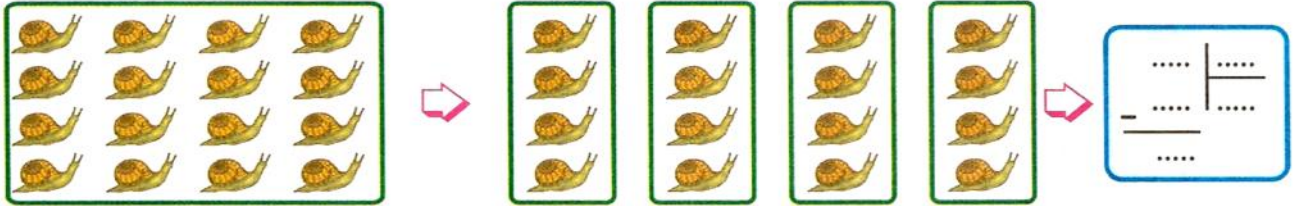
$16 : 2 = \dots$

$12 : 3 = \dots$

$10 : 5 = \dots$

$18 : 2 = \dots$

2. Aşağıda varlıklar gruplandırılmıştır. Siz de bu grupların sayılarını yazarak bölme işlemlerini yapınız.



Aşağıdaki işlemleri ok yönünde ve işlem işaretlerine dikkat ederek yapınız.



OKUDUM

ANLADIM

ÇÖZÜYORUM

Elif'in Doğum Günü

Elif'in doğum günü vardı. Doğum günü pastası yapmak için 4 arkadaşı 5'er yumurta getirdi. Evde de 6 yumurta vardı. Annesi bu yumurtaların bir düzinesinden pasta yaptı. 6 tanesini de omlet için kullandı. Annesi her birinin tabağına 3'er pasta koydu. 13 pasta da arttı. Tabaklardaki pastaların hepsi yenildi. Elif de böylece mutlu bir doğum günü yaşadı.

1. Elif'in arkadaşlarının getirdiği toplam yumurta kaç tanedir?

Çözüm

2. Evde toplam kaç tane yumurta olmuştur?

Çözüm

3. Elif'in annesi toplam kaç pasta yapmıştır?

Çözüm

4. Yumurtalar harcandıktan sonra kaç yumurta artmıştır?

Çözüm

5. Elif ve arkadaşları kaçar pasta yemiştir?

Çözüm

6. Artan pasta adedi kaçtır?

Çözüm

Aşağıdaki eşleştirmeleri örnekteki gibi harflerle yapınız.

A 12 şekerin çeyreği

4'tür.

B 18 can eriğinin yarısı

6 tane çeyrek ekmektir.

C 16 limonun çeyreği

9'dur.

D 3 tane yarım ekmek

4 tane yarım ekmektir.

E 8 tane çeyrek ekmek

3'tür.

ÇARPMA İŞLEMİ


BENEKLİ KELEBEK

1. Aşağıdaki kelebekleri inceleyerek soruları yanıtlayınız.



- ❁ 10 beneği olan kelebeklerden tane var.
- ❁ Kelebeklerin toplam kaç beneği vardır?
- ❁ Her kelebeğe kaç tane benek vardır?
- ❁ Kelebeklerin üzerindeki benekleri toplama işlemi olarak gösteriniz.
Benekleri = + + =
- ❁ Kelebeklerin beneklerini çarpma işlemi olarak gösteriniz.
Benekler = x =

2. Aşağıdaki köpek ve yavrularını inceleyerek soruları yanıtlayınız.



- ❁ Köpek ve yavrularının toplam kaç ayağı vardır?
- ❁ Köpek ve yavrularının toplam kaç gözü vardır?
- ❁ Köpek ve yavrularının ayak ve gözlerinin sayılarını toplama ve çarpma işlemi olarak gösteriniz.

Ayakları = + + + =
..... x =

Gözleri = + + + =
..... x =

Mustafa ÇALIŞKAN