

# B



T.C.

MİLLÎ EĞİTİM BAKANLIĞI

ÖZEL AKŞAM LİSELERİ

ÖĞRENCİ BAŞARISI DEĞERLENDİRME SINAVI

2012-2013 ÖĞRETİM YILI 2. DÖNEM 1. SINAVI

14 NİSAN 2013 Saat:14.00

# 4.

## OTURUM

### DERS KODU VE ADI

(109) KİMYA - 9

(103) DİN KÜL. VE AHLAK BİL. - 9

(111) SAĞLIK BİLGİSİ - 9

(401) SEÇ. DİKSİYON VE HİTABET

(402) SEÇ. PROJE HAZIRLAMA

(403) SEÇMELİ SANAT TARİHİ - 1

(404) SEÇMELİ KİMYA - 10

(405) TÜRK EDEBİYATI / SEÇMELİ TÜRK EDEBİYATI - 10

(406) SEÇ. ULUSLAR. İLİŞKİLER

### SAYFA

2

3

4

5

7

8

10

11

12

### **ADAYLARIN DİKKATİNE!**

1. Her ders için **20** soru bulunmaktadır. Bu oturumda **9. Sınıf** derslerinden sınava giriyorsanız **150, 10. Sınıf** derslerinden sınava giriyorsanız **100 dakika** cevaplama süreniz bulunmaktadır. Sınav başladıktan sonra ilk **30** dakika dolmadan dışarı çıkmayınız.
2. Sınav sırasında sözlük, hesap cetveli veya makinesi, çağrı cihazı, cep telefonu, telsiz, radyo gibi elektronik iletişim araçlarını yanınızda bulundurmuyunuz. Bu araçları kullanmanız ve kopya çekmeye teşebbüs etmeniz hâlinde sınavınız geçersiz sayılacaktır.
3. Başvuru şartlarını taşımadığınız hâlde sınava girmeniz, kopya çekmeniz, başka adayın sınav evrakını kullanmanız, geçerli kimlik belgenizi ve sınav giriş belgenizi ibraz edemediğiniz durumlarda sınavınız geçersiz sayılacaktır.
4. Sınavın değerlendirilmesi aşamasında, bilgisayar ortamında yapılan kopya analizinde ikili veya toplu kopya tespiti hâlinde sınavınız geçersiz sayılacaktır.

### **CEVAP KÂĞIDI VE SORU KİTAPÇIĞI İLE İLGİLİ AÇIKLAMALAR**

1. Cevap kâğıdınızdaki bilgilerin doğruluğunu kontrol ediniz ve cevap kâğıdınızı mürekkepli kalemle imzalayınız.
2. Cevap kâğıdı üzerinde kodlamalarınızı kurşun kalemle yapınız.
3. Kitapçık türünüzü cevap kâğıdınızdaki ilgili alana kodlayınız. Değerlendirme işlemleri cevap kâğıdındaki kodlamalara göre yapıldığından, eksik ya da hatalı kodlamalarda sorumluluk size ait olacaktır.
4. Değiştirmek istediğiniz bir cevabı, yumuşak silgiyle cevap kâğıdını örselemeden temizce siliniz ve yeni cevabınızı kodlayınız.
5. Soru kitapçığının sayfalarını kontrol ediniz, baskı hatası var ise değiştirilmesini sağlayınız.
6. Soruların çözümü için size ayrıca boş kâğıt verilmeyecektir. Soru kitapçığının içindeki boş alanları soru çözümleri için kullanabilirsiniz.
7. Her sorunun dört seçeneğinden sadece biri doğrudur. Doğru seçeneği, cevap kâğıdınızın ilgili sütununa soru numarasını dikkate alarak yuvarlağın dışına taşırmadan kodlayınız. **Soru kitapçığı üzerinde yapılan cevaplandırmalar dikkate alınmayacaktır.**
8. Cevaplamaya istediğiniz dersin sorusundan başlayabilirsiniz. Cevabını bilmediğiniz sorular üzerinde fazla zaman kaybetmeden diğer sorulara geçiniz. Zamanınız kalırsa bu sorulara daha sonra dönebilirsiniz.
9. Yanlış cevaplarınız dikkate alınmadan sadece doğru cevaplarınız üzerinden puanlama yapılacaktır.
10. Soruları ve sorulara verdiğiniz cevapları, yanınızda götürmek amacıyla kaydetmeyiniz; hiçbir şekilde dışarı çıkarmayınız.
11. Sınav bitiminde, soru kitapçığı ve cevap kâğıdını salon görevlilerine teslim ediniz.

**BAŞLAYINIZ DENİLMEDEN SORU KİTAPÇIĞINI AÇMAYINIZ.**

## (109) KİMYA - 9

1. İyonik bileşikler oluşturan birim aşağıdakilerden hangisidir?

- A) İyon B) Atom  
C) Molekül D) Proton

2.  $Al^{3+}$  ve  $SO_4^{2-}$  iyonlarından oluşan bileşik ile ilgili aşağıdakilerden hangisi doğrudur?

- A) Bileşiğin formülü  $Al_3(SO_4)_2$ 'dir.  
B) İyon yüklerinin toplamı +1'dir.  
C) Adı alüminyum sülfattır.  
D) Ametal-ametal bileşiğidir.

3. Atom numarası 11 olan Na atomunun katman elektron dizilimi aşağıdakilerden hangisidir?

- A)  $(11p)^{11}$  B)  $(11p)^2 8^1$   
C)  $(11p)^2 9$  D)  $(11p)^2 8$

4. Lewis yapısı  $:\ddot{X}:$  şeklinde olan element için;

- I- 7A grubundadır.  
II- Soy gazdır.  
III- Ametaldir.

İfadelerinden hangileri doğrudur?

- A) Yalnız II B) Yalnız III  
C) I ve II D) I ve III

5. I-  $Cl_2$   
II-  $H_2O$   
III-  $NaCl$

Yukarıda verilen maddelerden hangileri kovalent bağ içerir?  
( $_1H, _8O, _{11}Na, _{17}Cl$ )

- A) I ve III B) I ve II  
C) Yalnız III D) Yalnız II

6. Lewis yapısı verilen,  $:\ddot{O}=C=\ddot{O}:$  molekülü ile ilgili aşağıdakilerden hangisi yanlıştır? ( $_6C, _8O$ )

- A)  $C=O$  bağları polardır.  
B)  $CO_2$  molekülü apolardır.  
C) Karbon (C) tarafı kısmen negatif.  
D) Bağ elektronları oksijen tarafından daha çok çekilir.

7. Genel formülleri  $C_nH_{2n+2}$  olan hidrokarbonlar aşağıdakilerden hangisidir?

- A) Alkanlar B) Alkenler  
C) Alkinler D) Alkoller

8. Alkollerin yapısında bulunan fonksiyonel grup aşağıdakilerden hangisidir?

- A)  $C \equiv C$  B)  $\begin{array}{c} O \\ || \\ -C-OH \end{array}$   
C)  $-NH_2$  D)  $-OH$

9. Elementlerin kimlik özelliğini atomlardaki;

- I- Proton sayısı  
II- Elektron sayısı  
III- Nötron sayısı

niceliklerinden hangileri oluşur?

- A) Yalnız I B) Yalnız II  
C) II ve III D) I, II ve III

10. Sabit oranlar kanunu aşağıdakilerin hangisinde geçerlidir?

- A) Atom B) İyon  
C) Element D) Bileşik

11. Bir maddenin, molekülleri arasındaki çekim kuvvetinin en büyük olduğu hâl aşağıdakilerden hangisidir?

- A) Gaz B) Sıvı  
C) Katı D) Sıvı veya gaz

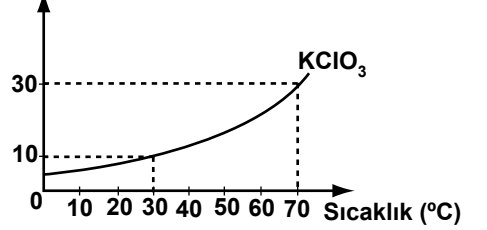
Madde		Karışım türü
I- Limonata	→	Emülsiyon
II- Ayran	→	Süspansiyon
III- Sis	→	Aerosol
IV- Tunç	→	Alaşım

Çizelgede verilen madde-karışım türü eşleştirmelerinden hangisi yanlıştır?

- A) I B) II C) III D) IV

13.  $30^\circ C$ 'ta 100 g su ile hazırlanan doymuş  $KClO_3$  çözeltisinin sıcaklığı  $70^\circ C$ 'a çıkarılıyor.

Çözünürlük  
(g/100 g su)



Grafiğe göre  $70^\circ C$ 'ta doymuş  $KClO_3$  çözeltisi elde etmek için çözeltiliye kaç gram  $KClO_3$  eklenmelidir?

- A) 40 B) 30 C) 20 D) 10

14. Aşağıdakilerden hangisi tane-cik boyutu farkından yararlanılarak geliştirilen ayırma yöntemlerinden biri değildir?

- A) Ayıklama B) Aktarma  
C) Süzme D) Eleme

15. I- Çözünürlük  
II- Yanıcılık  
III- Yoğunluk

Yukarıdakilerden hangileri bir maddenin fiziksel özelliğidir?

- A) Yalnız I B) I ve III  
C) II ve III D) I, II ve III

#### 4. OTURUM

B

16. Kimyasal tepkimeler gerçekleşirken atomlar arasında alınıp verilen ya da ortaklaşa kullanılan tanecik aşağıdakilerden hangisidir?

- A) Elektron B) Proton  
C) Nötron D) İyon

17.  $\text{BaCl}_{2(\text{suda})} + \text{Na}_2\text{SO}_{4(\text{suda})} \rightarrow \text{BaSO}_{4(\text{k})} + 2\text{NaCl}_{(\text{suda})}$

tepkimesinin türü aşağıdakilerden hangisidir?

- A) Yanma  
B) Hidroliz  
C) Asit-Baz  
D) Çözünme-Çökelme

18. Nötr durumdaki bir çözeltinin pH değeri kaçtır?

- A) 0 B) 1 C) 7 D) 14

19. Kısaltması PVC olan polimerin adı aşağıdakilerden hangisidir?

- A) Eten B) Teflon  
C) Polistiren D) Polivinil klorür

20. İki ya da daha fazla molekülün su açığa çıkararak büyük molekülleri oluşturduğu tepkimelere ne ad verilir?

- A) Yanma B) Dehidratasyon  
C) Nötrleşme D) Polimerleşme

#### (103) DİN KÜL. VE AHLAK BİL. - 9

1. Aşağıdakilerden hangisi Mekke'li müşriklerle yapılan savaşlardan biri değildir?

- A) Mute B) Bedir  
C) Uhud D) Hendek

2. Aşağıdakilerden hangisi Veda Hutbesi'nde verilen mesajlardan biri değildir?

- A) Bütün Müslümanlar kardeştir.  
B) Herkesin can, mal ve namusu tecavüzden korunmuştur.  
C) İnsanlar ırk ve renk farkı gözetmeksizin birbirine eşittirler.  
D) İslam'dan önceki ilahi dinlerle dayanışma hâlinde olunmalıdır.

3. Yüce Allah'ın, öğütlerini değişik yollarla Peygamberlerine bildirmesine ne denir?

- A) İlham B) Telkin  
C) Vahiy D) Tebliğ

4. Kur'an-ı Kerim Hz. Muhammed'e hangi dilde indirilmiştir?

- A) Arapça B) Farsça  
C) İbranice D) Urduca

5. Kur'an hangi yıl indirilmeye başlanmıştır?

- A) 610 B) 612  
C) 620 D) 622

6. Aşağıdakilerden hangisi tek tanrıcılık anlamına gelir?

- A) Politeizm B) Agnostisizm  
C) Ateizm D) Monoteizm

7. Aşağıdaki ibadetlerden hangisi hüküm bakımından diğerlerinden farklıdır?

- A) Namaz B) Oruç  
C) Kurban D) Hac

8. Aşağıdakilerden hangisi insanı diğer canlılardan ayıran bir özellik değildir?

- A) Akıl ve irade sahibi olması.  
B) İçgüdüleri ile hareket etmesi.  
C) Yaptıklarından sorumlu olması.  
D) İnanan ve ibadet eden bir varlık olması.

9. Aşağıdakilerden hangisi oruç ibadetiyle doğrudan ilgili değildir?

- A) İmsak B) Sahur  
C) İftar D) Aşure

10. İslam dinine göre aşağıdakilerden hangisi ibadet etmenin gerekçeleri arasında yer almaz?

- A) Allah'ın emri olması  
B) Ruhen ve bedenen huzura kavuşma arzusu  
C) Allah'ın ibadete layık tek varlık olması  
D) Allah'ın hoşnutluğunu kazanma isteği

11. Kur'an-ı Kerim kim tarafından çoğaltılmıştır?

- A) Hz. Peygamber  
B) Hz. Ebu Bekir  
C) Hz. Osman  
D) Hz. Ömer

12. Kur'an-ı Kerim'in cümlelerine ne denir?

- A) Hizb B) Sure  
C) Cüz D) Âyet

13. Komşularla iyi geçinmek, misafirlere ikramda bulunmak, düğün yapmak, ölen birine taziye-de bulunmak aşağıdakilerden hangisine örnek oluşturur?

- A) Yasa B) Âdet  
C) Ahlâk D) Örf

#### 4. OTURUM

B

14. Aşağıdakilerden hangisi ahlaki değerlerden değildir?

- A) İyilik
- B) Empati
- C) Doğruluk
- D) Güvenilirlik

15. Allah'a saygı, sevgi, minnet ve şükür duygularını ifade etme aşağıdaki kavramlardan hangisi ile ifade edilir?

- A) İbadet
- B) İnanç
- C) Ahlâk
- D) İtaat

16. "Sizin evinizin önünden bir nehir geçse ve o nehirde günde beş kez yıkansanız hiç kir kalır mı?..."

Bu hadisin devamında günde beş kez yapacağımız bir davranışın bizi günahlardan temizleyeceği belirtilmektedir. Günahlarımızı temizleyecek bu davranış aşağıdakilerden hangisidir?

- A) Abdest
- B) Kur'an okuma
- C) Tövbe
- D) Namaz

17. Aşağıdakilerden hangisi abdestin farzlarından biri değildir?

- A) Yüzü yıkamak
- B) Ayakları yıkamak
- C) Burna su çekip temizlemek
- D) Elleri dirseklere kadar yıkamak

18. Suyun bulunmadığı veya kullanılamadığı durumlarda temiz toprak vb. şeylerle alınan abdest aşağıdakilerden hangisidir?

- A) Teyemmüm abdesti
- B) Namaz abdesti
- C) Gusül abdesti
- D) Tavaf abdesti

19. Aşağıdakilerden hangisi Peygamberimizin doğduğu ve hayatını geçirdiği Hicaz bölgesi şehirlerinden değildir?

- A) Mekke
- B) Medine
- C) Taif
- D) Mute

20. Aşağıdakilerden hangisi Hz. Muhammed (s.a.v)'in peygamberliği öncesinde yaptığı işlerden biridir?

- A) Akabe Biatları
- B) Kâbe Hakemliği
- C) Medine Vesikası
- D) Hudeybiye Antlaşması

#### (111) SAĞLIK BİLGİSİ - 9

1. Aşağıdakilerden hangisi uzun süreli alkol kullanımında ortaya çıkan rahatsızlıklardandır?

- A) Sıtma
- B) Hepatit
- C) Bronşit
- D) Zatürre

2. I- Sigara

II- Alkol

III- Uyuşturucu madde

Dünya Sağlık Örgütü'nün yayınlarına göre son yıllarda akciğer kanseri erkeklerde % 50, kadınlarda % 260 oranında artmıştır. Bu duruma yukarıda verilenlerden hangilerinin bağımlılığı sebep olmuştur?

- A) Yalnız I
- B) Yalnız II
- C) I ve III
- D) II ve III

3. Aşağıdakilerden hangisi bağımlılarda, maddenin yokluğu durumunda ortaya çıkan belirtilerden değildir?

- A) Baygınlık
- B) Neşelenme
- C) Uykusuzluk
- D) Saldırganlık

4. Bulaşıcı hastalıklara yol açan mikropların ya da zehirlerin hastalık yapıcı etkilerinin azaltılarak vücuda verilmesine ne denir?

- A) Tedavi
- B) Aşılama
- C) Erken tanı
- D) Rehabilitasyon

5. Aşağıdakilerden hangisi insan sağlığına etki eden bünyesel etmenlerdendir?

- A) Genetik bozukluklar
- B) Bireyin sosyal durumu
- C) Kanser yapıcı maddeler
- D) Hayvan ve bitkilerden elde edilen besinler

6. Süt çocuklarının dilinin üzerinde, damak ve yanaklarının iç yüzeyinde bir tür mantarın neden olduğu, beyaz bir tabaka şeklinde ve ağrı yaparak belirti veren hastalığa ne ad verilir?

- A) İshal
- B) Zatürre
- C) Sarılık
- D) Pamukçuk

7. Ülkemiz standardında, normal doğan bir bebeğin boyu aşağıdakilerin hangisinde verilmiştir?

- A) 25 - 30 cm
- B) 45 - 50 cm
- C) 65 - 70 cm
- D) 85 - 90 cm

8. Aşağıdakilerden hangisi gebelik tanısını kesinleştiren durumlardandır?

- A) Halsizlik, bulantı, kusma
- B) Âdet kanamasının olmaması
- C) Bazı besinlere karşı aşırı istek
- D) Ultrasonografide bebeğin belirlenmesi

9. Aşağıdakilerden hangisi bir ailenin uzun yıllar huzurlu, mutlu ve başarılı olması için yapılması gerekenler arasında sayılmaz?

- A) Kişiler ailenin gelirine uygun harcamalar yapmalıdır.
- B) Aile bireyleri birbirlerine karşı saygılı ve hoşgörülü olmalıdır.
- C) Aile bireyleri, ailede yanlış buldukları her davranışı birbirlerine anlatmaktan kaçınmalıdır.
- D) Komşu, akraba, arkadaş, okul, iş ilişkileri olumlu tutumlarla ve uyumlu şekilde sürdürülmelidir.

10. Gelişimini tamamlamış olan yumurta ve sperm çekirdeklerinin birleşmesine ne ad verilir?

- A) Düşük B) Doğum  
C) Döllenme D) Âdet döngüsü

11. I- Mesleği  
II- Eğitimi  
III- Kişilik yapıları

Evliliğe karar verirken çiftler birbirlerinde, yukarıda verilen özelliklerden hangilerine dikkat etmelidir?

- A) Yalnız I B) I ve II  
C) II ve III D) I, II ve III

12. Aşağıdakilerden hangisi kişilerde uyuşturucu madde bağımlılığının alışma dönemi özelliklerindendir?

- A) Bilinci bozulur, idrar ve dışkısını kontrol edemez.  
B) Kişi kullandığı maddeyi bırakmada kendisine güvenemez.  
C) Maddeyi tekrar almama konusunda kendini ikna eder, ancak almak için nedenler bulur.  
D) Uyuşturucuyu karşılamak için yapmayacağı hiç bir şey yoktur, toplumsal değer yargılarını kaybeder.

13. Aşağıdakilerden hangisi paraziter hastalığa sebep olan dış parazitlerdendir?

- A) Bit B) Amip  
C) Tenya D) Plazmodyum

14. Aşağıdakilerden hangisi cinsel yolla bulaşan hastalıklardandır?

- A) Boğmaca B) Zatürre  
C) Kızıl D) Frengi

15. Aşağıdakilerden hangisi verem basilinin insanlara bulaşma yollarından birisi değildir?

- A) Hava yoluyla  
B) Damlacık enfeksiyonuyla  
C) Anofel türü dişi sivrisineklerle  
D) Hasta hayvanlardan elde edilen besinlerle

16. Ateş, baş ağrısı, iştahsızlık ve deride içleri sıvı dolu mercimek büyüklüğünde döküntüler şeklinde belirti veren çocukluk çağı hastalığı aşağıdakilerden hangisidir?

- A) Boğmaca B) Suçiçeği  
C) Menenjit D) Çocuk felci

17. Aşağıdakilerden hangisi yetişkinlik döneminde en çok ölüme sebep olan hastalıklardandır?

- A) İshal  
B) Zatürre  
C) Kalp hastalıkları  
D) Beslenme bozuklukları

18. I- Nabız sayma  
II- İlaç kullanımı  
III- Mikroptan arındırma

Evde hasta bakımında, bakımı yapacak kişinin yukarıdaki bazı temel bakım prensiplerinden hangilerini bilmesi gerekir?

- A) Yalnız I B) I ve II  
C) II ve III D) I, II ve III

19. Kuduz olan hayvanların yok edilerek kuduz mikrobunun insanlara taşınmasının önlenmesi, bulaşıcı hastalıklardan korunmak için alınacak önlemlerin hangisine yönelik bir örnektir?

- A) Kaynağa  
B) Sağlam kişiye  
C) Kişisel temizliğe  
D) Bulaşma yollarına

20. Bir bulaşıcı hastalık etkenin vücuda girmesiyle, hastalık belirtilerinin ortaya çıkmasına kadar geçen süreye ne ad verilir?

- A) Kuluçka süresi  
B) Bulaşma süresi  
C) Enfeksiyon  
D) Endemi

#### (401) SEÇ. DİKSİYON VE HİTABET

1. Uzaktan gelirken derin akisler, Kapadı geçtiğim yolları sisler. Tutuştu içimde birikmiş hisler; Gönlümü o kadar temiz bıraktı. (Orhan Seyfi Orhon)

Bu şiirde altı çizili sözcükte görülen ses olayı aşağıdakilerden hangisidir?

- A) Ünsüz yumuşaması  
B) Ünsüz benzeşmesi  
C) Ünlü daralması  
D) Ünlü düşmesi

2. Bir büyük çağrının uyup sesine Dört duvardan göğü soruyor sesin Süzgünsün haddeden geçmiş- çesine İmbikten çekilmiş gibi tazesin. (Behçet Kemal Çağlar)

Bu dizelerde geçen aşağıdaki sözcüklerden hangisi küçük ünlü uyumuna uymaz?

- A) Büyük B) Soruyor  
C) Süzgünsün D) Çekilmiş

3. Aşağıdaki sözcüklerden hangisi ünlüyle başlayan bir ek aldığı sözcüğün sonundaki sert ünsüz yumuşamaz?

- A) Umut B) Sonuç  
C) Hukuk D) Ahşap

4. Havada bir dost eli oksuyor derimizi; Boynu bükük adalar tanıyor sanki bizi. (Kemalettin Kamu)

Bu dizelerdeki altı çizili sözcükte görülen ses olayı aşağıdakilerden hangisidir?

- A) Ünlü düşmesi  
B) Ünlü daralması  
C) Ünsüz benzeşmesi  
D) Ünsüz yumuşaması

#### 4. OTURUM

B

5. Türkçenin ses özellikleriyle ilgili olarak aşağıda verilen bilgilerden hangisi yanlıştır?

- A) Türkçe kelimelerde “f,h,j” sesleri bulunmaz.
- B) Türkçe kelimelerin sonunda “b,c,d,g” sesleri bulunmaz.
- C) Türkçe kelimelerde iki ünlü yan yana gelmez.
- D) Türkçe kelimelerde iki ünsüz yan yana gelmez.

6. Aşağıdaki sözcüklerden hangisi Türkçe kökenlidir?

- A) Okul
- B) Şair
- C) Havuz
- D) Spor

7. Aşağıdakilerden hangisi ses organlarının eğitimi için yapılması gerekenlerden biri değildir?

- A) Sesi ısıtmak
- B) Sessiz okuma yapmak
- C) Sese teknik kazandırmak
- D) Boğumlama uygulamaları

8. Duruş, hareket, jest, mimik gibi görsel simgeler konuşmanın hangi unsurunu ifade eder?

- A) Dil
- B) Ses
- C) Düşünce
- D) Bedensel davranış

9. Aşağıdaki sözcüklerden hangisinin yazımı yanlıştır?

- A) Melhem
- B) Asfalt
- C) Sarımsak
- D) Menajer

10. Aşağıdaki cümlelerin hangisinde Türkçenin yanlış kullanımıyla ilgili bir örnek yoktur?

- A) Sanatçı klip çekimi için start verdi.
- B) Saatlerimiz saat yediyi gösteriyor.
- C) Keşke sen de yanımızda olsaydın.
- D) Konser salonu full doluydu.

11. 1- Geceleyin bir ses böler uyumu,  
2- İçim ürpermeyle dolar:  
-Nerdesin?

3- Arıyorum yıllar var ki ben onu,

4- Âşkıyım beni çağıran bu sesin.

(Ahmet Kutsi Tecer)

Numaralandırılmış dizelerin hangisinde “ulama” yoktur?

- A) 1
- B) 2
- C) 3
- D) 4

12. Aşağıdaki sözcüklerin hangisinde vurgu ilk hecededir?

- A) Saklama
- B) Çiçekler
- C) Konya
- D) Bolca

13. Aşağıdakilerden hangisi diksiyon kurallarından biri değildir?

- A) Sesler doğru boğumlanmalıdır.
- B) Uzun ve kısa heceler doğru söylenmelidir.
- C) Hece ve sözcük vurgusundan kaçınılmalıdır.
- D) Ulama, duraklama yerinde ve doğru yapılmalıdır.

14. Söz söylerken ağzın, elin, başın istem dışı hareketiyle hecelerin tekrarlanması ve ses, hece, kelimelerin patlamalı, abartılı bir biçimde boğumlanmasından kaynaklanan ileri aşamadaki boğumlanma kusuru aşağıdakilerden hangisidir?

- A) Gevşeklik
- B) Kekemelik
- C) Pelteklik
- D) Tutukluk

15. “S” ünsüzünün şiddetini arttırmaktan ve “r” ünsüzünün çıkarılışında havanın dişlerin arkasına doğru itilmesinden kaynaklanan boğumlama kusuru aşağıdakilerden hangisidir?

- A) Islıklama
- B) Ekleme
- C) Gılama
- D) Atlama

16. “Bir dilin ses özelliklerine bağlı kalınarak seslendirilmesi sanatına (...) denir.” cümlesinde boş bırakılan yere aşağıdakilerden hangisi getirilmelidir?

- A) Üslup
- B) Telaffuz
- C) Konuşma
- D) Güzel konuşma

17. Aşağıdaki cümlelerin hangisinde bir yazım yanlışı vardır?

- A) Bekliyor.
- B) Dinliyecek.
- C) Anlıyorsun.
- D) Başlayacağım.

18. Aşağıdakilerden hangisi konuşmada dikkat edilecek hususlardan biri değildir?

- A) Canlı, inandırıcı ve etkili olmak
- B) Vurgu, tonlama ve telaffuza dikkat etmek
- C) Süslü ifadelerle konuşmayı zenginleştirmek
- D) Sesini, üslubunu amaca ve dinleyene göre belirlemek

19. “Öğretmenimiz hiçbirimizi azarlamaz, çok severdi.” cümlesindeki anlatım bozukluğunun nedeni aşağıdakilerden hangisidir?

- A) Nesne eksikliği
- B) Özne yüklem uyumsuzluğu
- C) Gereksiz sözcük kullanılması
- D) Sözcüğün yanlış anlamda kullanılması

20. Aşağıdakilerden hangisi bir konuşma kusuru değildir?

- A) Yerel ağızla konuşmak
- B) Konuşmayı gereksiz yere uzatmak
- C) Kelimeleri doğru telaffuz etmemek
- D) Konuşmayı jest ve mimiklerle desteklemek

## (402) SEÇ. PROJE HAZIRLAMA

1. Proje hazırlamada aşağıdaki açıklamalardan hangisi doğrudur?

- A) Özet, raporun başında ya da sonunda olabilir.
- B) Rapordaki cümleler basit, sade ve anlaşılır olmalıdır.
- C) Proje maliyeti hakkında araştırmaya gerek yoktur.
- D) Proje çalışmalarında internet kaynak olamaz.

2. Aşağıdaki cümlelerden doğru olanların sonuna (D), yanlış olanların sonuna (Y) işareti koyunuz.

- Proje başlığı konuya uygun olmalıdır. ( )
- Proje raporu uzun cümlelerden oluşmalıdır. ( )
- Denence sonuçları değerlendirilirken tablo ve grafikler kullanılır. ( )

Cümleleri doğru (D) veya yanlış (Y) olarak işaretlediğinizde doğru sonuç aşağıdakilerden hangisi olur?

- A) (D) B) (D) C) (Y) D) (D)  
 (Y) (D) (D) (Y)  
 (D) (Y) (D) (Y)

3. Bazı projeler ve bu projelerin uygulama amaçları verilmiştir.

I. Bir milyar meşe projesi	a) Mesleki eğitimi güçlendirmek
II. Meslek lisesi memleket meselesi projesi	b) Türkiye'yi ağaçlandırmak
III. Fatih projesi	c) Eğitimde teknolojiyi kullanmak

Bu projeler ve uygulama amaçlarının karşılaştırılması aşağıdakilerin hangisinde doğru verilmiştir?

- A) I. a B) I. b  
 II. b II. a  
 III. c III. c  
 C) I. c D) I. c  
 II. b II. a  
 III. a III. b

4. Ece'nin, hazırladığı proje raporunda aşağıdakilerden hangisine yer vermesine gerek yoktur?

- A) Belgeleme
- B) Taslak metin
- C) Kaynak taraması
- D) Maliyet araştırması

5. Bir proje raporu hazırlanırken aşağıdaki çalışmalardan hangisi en son yazılır?

- A) Materyal ve yöntem
- B) Sonuç ve öneriler
- C) Kaynakça
- D) Özet

6. I- Gözlem - Anket  
 II- Veri - İstatistik  
 III- Makale - İnternet

Veri toplama yöntemlerinde verilen karşılaştırmalardan hangileri doğru yapılmıştır?

- A) I ve II B) II ve III
- C) I ve III D) I, II ve III

7. İstatistik için aşağıdaki ifadelerden hangisi söylenmez?

- A) Verileri değerlendirme yöntemidir.
- B) Tablo, grafik ve şekillerle desteklenir.
- C) Sonuçları kesin doğrudur.
- D) Elde edilen verilerin analizini yapar.

8. Bir proje raporu hazırlarken

I- Makale  
 II- Kitap  
 III- Söylenti

ifadelerinden hangileri kaynakça olarak gösterilir?

- A) I ve II B) I ve III
- C) II ve III D) I, II ve III

9. Erkan öğretmen, "Eğitimde Yapılandırmacı Yaklaşım" konulu projenin raporunu yazmak istiyor.

I- Projenin amacı  
 II- Materyal ve yöntem  
 III- Sonuç ve öneriler  
 IV- Giriş

Erkan öğretmen, projenin raporunu hazırlarken yukarıdaki sıralamayı nasıl uygulamalıdır?

- A) I - II - III - IV
- B) IV - I - II - III
- C) IV - II - I - III
- D) I - IV - II - III

10. Aşağıdakilerden hangisi proje raporu yazılırken özet bölümünde yer almaz?

- A) Literatüre yer verilir.
- B) Araştırmanın içeriği hakkında bilgi verilir.
- C) Ulaşılabilecek sonuç hakkında bilgi verilir.
- D) Bilimsel çalışmanın amacı hakkında bilgi verilir.

11. "Teknoloji eğitiminde yapılan- dırmacı yaklaşımı geleneksel eğitim yaklaşımı ile karşılaştırıp eğitime olan pozitif etkilerini tespit etmeye çalışmak."

Yukarıda amacı verilen bir projeye ait en uygun proje başlığı hangisi olabilir?

- A) Meslek eğitiminde endüstriyel sanatlar
- B) Teknoloji eğitiminde yapılandırmacı yaklaşım
- C) Alternatif eğitim teknolojileri
- D) Eğitimde modellemenin etkisi

## 12. Mimar Sinan'dan Geleceğe Mektup

Bir Mimar Sinan eseri olan Şehzadebaşı Camii'sinin restorasyonunu yapan inşaat mühendisi, caminin restorasyonu sırasında yaşadıkları olayı şöyle anlatıyor: "Caminin restorasyonu programında bahçedeki kemerlerin yenilenmesi yer alıyordu. Kemerin kilit taşını sökerken boşluğa yerleştirilmiş cam şişeye rastladık. Şişenin içerisinde Osmanlıca, Mimar Sinan tarafından bu kemerlerin nasıl onarılacağını açıklayan bir mektup vardı. Sinan, mektubunda kemeri inşa ettikleri taşın Anadolu'nun neresinden getirdiklerini dahi yazıyordu."

Yukarıdaki metinde Mimar Sinan'ın bıraktığı mektup, projenin hangi kısmıdır?

- A) Biyografi B) Amaç  
C) Rapor D) Kaynakça

## 13. Aşağıdaki bulmacada karışık olarak verilen kelimeleri bularak işaretleyiniz.

T	M	K	Ü	T	Ü	P
Ö	K	R	U	E	M	Z
Z	L	A	P	L	A	T
E	Y	P	Y	E	Z	Ö
T	Z	O	R	N	U	M
V	A	R	U	S	A	T
S	Ü	R	E	Ç	G	K

- özet
- rapor
- kaynak
- yöntem

Bulmacada olmayan kelime aşağıdakilerden hangisidir?

- A) özet B) rapor  
C) kaynak D) yöntem

## 14. "Eğer bu alanda daha önceden yapılmış çalışmalara ulaşamadım bu icadımı gerçekleştiremezdim." diyen bir bilim insanı aşağıdakilerden hangisinin önemini vurgulamıştır?

- A) Proje raporunun yazılması  
B) Bilimsel etik  
C) Evrensellik  
D) Olgusallık

## 15. Bir proje raporunda denence sonuçlarının yer aldığı bölüm aşağıdakilerden hangisidir?

- A) Özet B) Kaynakça  
C) Teşekkür D) Bulgular

## 16. K= Projenin hitap ettiği alanda daha önce yapılmış çalışmalar ..... bölümünde tanıtılır.

L= Proje çalışmasında kullanılan materyallerin tanıtıldığı, projedeki deneylerin anlatıldığı bölüm ..... bölümünde tanıtılır.

Yukarıdaki cümlelerde boş bırakılan yerlere uygun kelimelerden hangileri getirilmelidir?

- A) K= giriş  
L= projenin amacı  
B) K= materyal, teknik ve yöntem  
L= giriş  
C) K= giriş  
L= materyal, teknik ve yöntem  
D) K= projenin amacı  
L= giriş

## 17. "Bilimsel çalışmalar orijinal olmalıdır. Başka eserlerden kaynak göstermeden bilerek yada bilmeyerek doğrudan aktarma yapılmamalıdır." diyen bir bilim insanı, bilimsel ilkelerden hangisini vurgulamaktadır?

- A) Olgusallık  
B) Evrensellik  
C) Denenebilirlik  
D) Bilimsel etik

## 18. Proje hazırlanırken verilerin düzenlenmesinden daha çok bu verilerin anlaşılır hale getirilmesi gerekir.

Proje hazırlamada yukarıdaki cümle ile açıklanmak istenen nedir?

- A) Projenin yazılması  
B) Projenin sunulması  
C) Projenin incelenmesi  
D) Projenin araştırılması

## 19. I- Proje raporu dosyada saklanmalıdır.

II- Kaynakça, projenin başında belirtilmelidir.

III- Projenin adı, projenin amacına uygun olmalıdır.

Yukarıda verilenlerden hangileri proje yazma basamağında bulunur?

- A) I ve II B) I ve III  
C) II ve III D) I, II ve III

## 20. Bir projenin sonuçlarının belli bir metin haline getirilmesi, projenin hangi basamağı ile ilgilidir?

- A) Projenin sınanması  
B) Projenin sunulması  
C) Projenin raporlaştırılması  
D) Denencelerin oluşturulması

## (403) SEÇMELİ SANAT TARİHİ - 1

## 1. Eşyayı, durağan bir noktaya göre uzaklıklarını ve aralarındaki duruş ayrımlarını canlandıracak şekilde resmetme tekniğine ne ad verilir?

- A) Portre B) Perspektif  
C) Minyatür D) Natürmort

## 2. Gotik üslupla inşa edilmiş olan Notre Dame (Notr Dam) Katedrali, günümüzde aşağıdaki Avrupa ülkelerinden hangisindedir?

- A) İtalya B) Fransa  
C) İngiltere D) Almanya

## 3. Aşağıdaki sanatçı - eser eşleştirmelerinden hangisi yanlıştır?

- A) Rafael - "Atina Okulu"  
B) Mazaçyo - "Vergi Parası"  
C) Cotto - "İsa'nın Doğumu"  
D) Tiziano - "Kralların Secdesi"



#### 4. OTURUM

B

4. Avrupa'da "Gotik Sanatı"na öncülük eden ülke, aşağıdakilerden hangisidir?

- A) İtalya B) İspanya  
C) Fransa D) İngiltere

5. Avrupa'da, 9. yy.'dan başlayarak 12. yy. boyunca devam eden Roman sanatı daha çok aşağıdaki alanların hangisinde etkinlik göstermiştir?

- A) Resim  
B) Mimarlık ve heykel  
C) Edebiyat ve heykel  
D) Mimarlık ve edebiyat

6. "Üstü taş, tuğla, mermer, bronz vb. maddelerden yapılmış bir kapakla örtülü olan sanduka biçiminde mezar" şeklinde tanımlayabileceğimiz kavram, aşağıdakilerden hangisidir?

- A) Odeon B) Lahit  
C) Kriptâ D) Keramik

7. "Bazilika", hangi uygarlığa ait bir yapı türüdür?

- A) Roma B) Mısır  
C) Sümer D) Urartu

8. Kurulduğu coğrafyada taşın fazla olmamasından dolayı yapılarda temel malzeme olarak kilden yapılmış kerpiç tuğlalar kullanan İlk Çağ uygarlığı, aşağıdakilerden hangisidir?

- A) Frig B) Sümer  
C) Lidya D) Urartu

9. Sakkara'da bulunan Coser (Zoser) Piramidi, hangi tür piramitlerin ilk örneğidir?

- A) Düz piramitler  
B) Taş piramitler  
C) Kaya piramitler  
D) Basamaklı piramitler

10. "Dinleme / İşitme (ses / fonetik) Sanatları", aşağıdakilerden hangisini kapsar?

- A) Bale B) Resim  
C) Müzik D) Mimari

11. Orhun Abideleri gibi yazıtları inceleyen bilim dalı, aşağıdakilerden hangisidir?

- A) Epigrafi B) Arkeometri  
C) Nüvizmatik D) Antropoloji

12. "Orta Taş Çağı"nın diğer adı, aşağıdakilerden hangisidir?

- A) Neolitik Çağ  
B) Kalkolitik Çağ  
C) Mezolitik Çağ  
D) Paleolitik Çağ

13. "..... kazıları, Ulu Önder Atatürk'ün isteği üzerine 1935 yılında Türk Tarih Kurumu (TTK) tarafından başlatılmıştır." cümlesinde boş bırakılan yere, aşağıdaki İlk Çağ yerleşim yerlerinden hangisi yazılmalıdır?

- A) Truva B) Kültepe  
C) Gordion D) Alacahöyük

14. • MÖ 2000 yılında Kafkaslar üzerinden gelerek Orta Anadolu'ya yerleşmişlerdir.  
• Anadolu'da anıtsal heykel sanatını başlatan uygarlıktır.  
• Önemli yerleşim yerleri arasında Alishar (Yozgat), Alacahöyük ve Eskişehir (Çorum), Kültepe (Kayseri), İnandık Höyüğü (Çankırı) ile Maşat Höyüğü (Tokat) sayabiliriz.

Hakkında kısa bilgi verdiğimiz İlk Çağ Anadolu uygarlığı, aşağıdakilerden hangisidir?

- A) Frig B) Hitit  
C) Lidya D) Urartu

15. Gotik sanatının özelliklerini üstünde taşıyan Dojlar Sarayı, İtalya'nın hangi şehrinde bulunmaktadır?

- A) Roma B) Torino  
C) Floransa D) Venedik

16. Roman kiliseleri genelde kaç nefli inşa edilmişlerdir?

- A) 3 B) 4 C) 5 D) 6

17. Rönesans Dönemi heykelleri konularını daha çok aşağıdakilerin hangisinden alır?

- A) İncil  
B) Bilim insanları  
C) Krallar ve mitoloji  
D) İncil, Tevrat ve mitoloji

18. Ressam Leonardo da Vinci'nin akla ilk gelen tablosu, aşağıdakilerden hangisidir?

- A) Mona Lisa  
B) İsa'nın Vaftizi  
C) Meryem'e Müjde  
D) Son Akşam Yemeği

19. Rönesans mimarisinde örtü sistemi olarak kubbenin yanı sıra aşağıdakilerden hangisi de kullanılmıştır?

- A) Paye B) Saçak  
C) Tonoz D) Portal

20. İstanbul'un, 1453 yılında Türkler tarafından alınması sonrasında burada yaşayan ve Yunan kültürünü yakından tanıyan sanatçılar ve bilim adamlarının İtalya'ya göç etmesi, Orta Çağ Avrupası'nda görülen aşağıdaki gelişmelerden hangisinin ortaya çıkmasında etkili olduğu söylenebilir?

- A) Coğrafi keşiflerin  
B) Fransız İhtilalinin  
C) Reform hareketlerinin  
D) Rönesans hareketlerinin

#### 4. OTURUM

B

#### (404) SEÇMELİ KİMYA - 10

1. Ebonit tarak yünü kumaşa sürtüldükten sonra musluktan akan suya yaklaştırılıyor ve tarakın suyu çektiği gözlemleniyor.

Bu gözleme göre, maddenin yapısıyla ilgili olarak aşağıdaki-lerden hangisi söylenebilir?

- A) Elektriklenen madde nötrdür.  
B) Madde yekpare atomlardan oluşur.  
C) Maddedeki elektrik yükleri hareketlidir.  
D) Elektriklenen maddenin yapısı değişir.

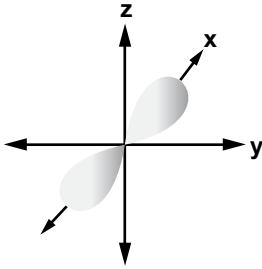
2. Işıma enerjisi ile ilgili;

- I- Sürekli.  
II- Kuantumlar halinde alınıp verilebilir.  
III- Hem dalga hem de parçacık özelliği gösterir.

Bilgilerinden hangileri doğrudur?

- A) Yalnız I  
B) Yalnız II  
C) I ve II  
D) II ve III

3.



Yukarıdaki sınır düzey diyagramı hangi orbitale aittir?

- A) s B) p C) d D) f

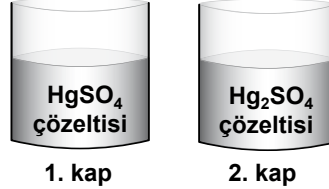
4. 0,5 mol  $\text{Al}_2\text{SO}_4$  bileşiğinde kaç tane Al atomu vardır?

- A)  $6,02 \times 10^{23}$   
B)  $2 \times 6,02 \times 10^{23}$   
C)  $0,5 \times 6,02 \times 10^{23}$   
D)  $0,25 \times 6,02 \times 10^{23}$

5. Açısal momentum kuantum sayısı 2 olan bir alt kabuktaki orbital sayısı kaçtır?

- A) 1 B) 3 C) 5 D) 7

6. Şekildeki kaplarda bulunan çözeltiler aynı miktar elektrik akımı ile aynı süre elektroliz ediliyor.



Buna göre, katotta biriken Hg miktarları arasındaki ilişki aşağıdakilerin hangisinde doğru verilmiştir?

- ( $m_1$ : 1. kapta toplanan cıva miktarı)  
( $m_2$ : 2. kapta toplanan cıva miktarı)

- A)  $m_1 = \frac{1}{2} m_2$  B)  $m_1 = m_2$   
C)  $m_1 = 2m_2$  D)  $m_1 = \frac{1}{4} m_2$

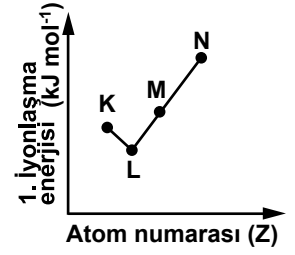
7. “Değerlik elektron sayısı aynı olan farklı elementler .....” cümlesini aşağıdakilerden hangisi doğru olarak tamamlar?

- A) aynı katman sayısına sahiptir.  
B) periyodik sistemin aynı grubunda bulunur.  
C) aynı baş kuantum sayısına sahiptir.  
D) periyodik sistemin aynı periyodunda bulunur.

8. İyot elementi bir ametaldir. Buna göre, aşağıda verilen fiziksel özelliklerden hangisi iyota aittir?

- A) Tel ve levha hâline getirilebilir.  
B) Elektrik iyi iletir.  
C) Yüzeyi mattır.  
D) Isıyı iyi iletir.

9. Grafikte, aynı periyotta yer alan bazı elementlerin 1. iyonlaşma enerjileri verilmiştir:



Buna göre, K, L, M, N ile simgelenen elementlerden hangisi soy gaz olabilir?

- A) K B) L C) M D) N

10. Na ve Cl atomları NaCl bileşiğini oluştururken atomlarda meydana gelen değişimlerle ilgili aşağıdakilerden hangisi söylenemez? ( $_{11}\text{Na}$ ,  $_{17}\text{Cl}$ )

- A) Na'un çapı azalır.  
B) Cl'un çapı artar.  
C) Na ve Cl'un çekirdek yükü azalır.  
D) Na katyona, Cl anyona dönüşür.

11. Aşağıda bazı elementler ile bu elementlerin periyodik sistemdeki gruplarının özel adları eşleştirilmiştir:

$_3\text{X}$ : Alkali metal

$_{12}\text{Y}$ : Halojen

$_9\text{Z}$ : Toprak alkali metal

$_{18}\text{T}$ : Soy gaz

Bu eşleştirmelerden hangileri doğrudur?

- A) Y ve Z B) X ve T  
C) X, Y ve Z D) X, Z ve T

12. Elektron dizilimi  $[\text{Ar}]4s^1 3d^{10}$  şeklinde olan bir element için aşağıdakilerden hangisi doğrudur?

- A) Aktinittir.  
B) Ametaldir.  
C) Lantanittir.  
D) Geçiş elementidir.

#### 4. OTURUM

B

13. I- Kovalent bağ  
II- İyon-dipol bağı  
III- Hidrojen bağı

Yukarıdakilerden hangileri kimyasal türler arasındaki güçlü etkileşimlerden biridir?

- A) Yalnız I B) I ve II  
C) II ve III D) I, II ve III

14. KF, KCl ve KBr bileşikler arasında erime noktası büyük olan KF, küçük olan KBr bileşiktir. Buna göre, bileşiklerdeki anyonların yarıçapları arasındaki ilişki aşağıdakilerden hangisinde doğru verilmiştir?

- A)  $F^- = Br^- = Cl^-$   
B)  $Br^- < Cl^- < F^-$   
C)  $F^- < Cl^- < Br^-$   
D)  $Cl^- = Br^- < F^-$

15. Aşağıda verilen Lewis yapılarından hangisi radikaldir? ( ${}_7N$ ,  ${}_8O$ ,  ${}_{17}Cl$ )

- A)  $\ddot{N}::\ddot{N}$  B)  $\ddot{O}::\ddot{O}$   
C)  $[\ddot{Cl}]^-$  D)  $:\ddot{Cl}.$

16.  $Ar_{(s)} + 6,4 \text{ kJ mol}^{-1} \rightarrow Ar_{(g)}$  denklemi ile ilgili olarak aşağıda verilenlerden hangisi doğrudur?

- A) Ar sıvısı yoğunlaşmıştır.  
B) Madde hâl değiştirmiştir.  
C) Yeni bir kimyasal tür oluşmuştur.  
D) Maddedeki güçlü bağlar kırılmıştır.

17. Bazı atomların elektronegatiflikleri ve Cl atomu ile yaptığı bileşikler tabloda verilmiştir:

Atom	Elektronegatiflik	Bileşik
Na	0,9	NaCl
Al	1,5	$AlCl_3$
Si	1,8	$SiCl_4$
P	2,1	$PCl_5$

Cl atomunun elektronegatifliği 3,0 olduğuna göre, hangi bileşikteki bağın kovalent karakteri en fazladır?

- A) NaCl B)  $AlCl_3$   
C)  $SiCl_4$  D)  $PCl_5$

18. (-) yüklü elektron denizi ile (+) yüklü katyonlar arasında oluşan kimyasal bağ aşağıdakilerden hangisidir?

- A) İyonik bağ  
B) Metalik bağ  
C) Kovalent bağ  
D) Hidrojen bağı

19. Bir miktar He gazı kapalı bir kaba 2 saniyede yayılıyor. Aynı koşullardaki bir miktar  $CH_4$  gazı, aynı kaba kaç saniyede yayılır? (He: 4,  $CH_4$ : 16)

- A) 0,5 B) 2 C) 4 D) 8

20. Özdeş sürtünmesiz pistonlarda bulunan K, L, M ve N gazları aynı koşullarda sıkıştırıldığında, sadece M ve N gazlarının sıvılaştığı gözlemleniyor. Buna göre, gazlardan hangileri ideale en yakın gaz olarak nitelendirilebilir?

- A) K ve L B) M ve N  
C) Yalnız K D) Yalnız N

#### (405) TÜRK EDEBİYATI / SEÇMELİ TÜRK EDEBİYATI - 10

1. Aşağıdakilerden hangisi ilk İslami Türk eserlerinden değildir?

- A) Divan-ı Hikmet  
B) Atabetü'l-Hakayık  
C) Divanü Lügati't-Türk  
D) Muhakemetü'l-Lügatayn

2. Çark bozulmuş dünya ıslah olmuyor  
Ehl-i fukaranın yüzü gülmüyor  
Âşık Ruhsatı dediğini bilmiyor  
Yazı belli değil hat belli değil  
(Ruhsatı)

Bu dörtlüğün konusuna göre türü aşağıdakilerden hangisidir?

- A) Taşlama B) Koçaklama  
C) Güzelleme D) Ağıt

3. Yazdığı kaside ve hicivleriyle tanınan on yedinci yüzyıl divan şairi, aşağıdakilerden hangisidir?

- A) Nefî B) Şeyhî  
C) Bakî D) Zâtî

4. Kasidede şairin kendini övdüğü bölüm, aşağıdakilerden hangisidir?

- A) Dua B) Teşbib  
C) Fahriye D) Medhiye

5. Dinî - tasavvufî Türk edebiyatında şiirlere verilen genel ad, aşağıdakilerden hangisidir?

- A) İlahi B) Mesnevi  
C) Şarkı D) Tuyuğ

6. Eski Türkçede "sav" olarak adlandırılan özlü sözlerin günümüzdeki karşılığı, aşağıdakilerden hangisidir?

- A) Deyim B) Atasözü  
C) Vecize D) Cümle

7. İslamiyet'ten önceki dönemde, sevilen kimselerin ölümüne duyulan üzüntüyü ifade eden şiirlere ne ad verilir?

- A) Yuğ B) Sıgıtçı  
C) Yas D) Sagu

8. "Bu olaylar sözlü gelenek yoluyla ağızdan ağıza, nesilden nesile geçer." açıklaması aşağıdaki destan oluşumu safhalarından hangisine aittir?

- A) Yayılma B) Derleme  
C) Doğuş D) Yazıya geçme

9. Aşağıdakilerden hangisi Türk halk edebiyatının bölümlerinden değildir?

- A) Anonim B) Dinî-tasavvufi  
C) Klasik D) Âşık tarzı

10. Türkiye'de edebiyat tarihi incelemelerinde bilimsel yöntemler ortaya koyan ilk bilim adamı, aşağıdakilerden hangisidir?

- A) Cevdet Kudret  
B) M. Fuat Köprülü  
C) Agâh Sırrı Levent  
D) Nihat Sami Banarlı

11. Edebiyatımıza İran edebiyatından geçen, konusu aşk, güzellik ve kadın olan nazım türü aşağıdakilerden hangisidir?

- A) Kaside B) Rubai  
C) Gazel D) Şarkı

12. Türkülerde her bendin sonunda tekrarlanan dizelere ne ad verilir?

- A) Üçleme B) Kavuştak  
C) Doldurma D) Uyak

13. Aşağıdakilerden hangisi orta oyununun bölümlerinden biri değildir?

- A) Muhavere B) Hikâyet  
C) Fasıl D) Bitiş

14. Aşağıdakilerden hangisi Batı Etkisinde Gelişen Türk Edebiyatı bölümlerinden değildir?

- A) Fecr-i Ati Edebiyatı  
B) Tanzimat Edebiyatı  
C) Anonim Halk Edebiyatı  
D) Cumhuriyet Dönemi Türk Edebiyatı

15. Aşağıdakilerden hangisi Orhun Abideleri için söylenemez?

- A) Doğu Göktürklerinin tarihini anlatır.  
B) 18. yy. ortalarına doğru bulunmuştur.  
C) 19. yy. sonunda okunmuştur.  
D) Günümüzden üç yüzyıl önce yazılmıştır.

16. Bilginin faydası, cömertlik ve cimrilik, zamanın bozukluğu gibi konuların işlendiği, Edip Ahmet Yükneki tarafından mesnevi tarzında yazılan ve "hakikatlerin eşîği" anlamına gelen eser, aşağıdakilerden hangisidir?

- A) Kutadgu Bilig  
B) Divan-ı Hikmet  
C) Atabetü'l-Hakayık  
D) Divanü Lügati't-Türk

17. Etil suvı aka turur  
Kaya tübi kaka turur  
Balık telim baka turur  
Kölüng takı küşerür

Koşuktan alınmış bu dördlüğün uyak düzeni aşağıdakilerden hangisidir?

- A) aaaa B) aabb  
C) abab D) aaab

18. Aşağıdaki destanlardan hangisi Uygurlara aittir?

- A) Bozkurt B) Türeyiş  
C) Şu D) Manas

19. Aşağıdaki türlerden hangisi öğretici metinler arasında yer almaz?

- A) Mesnevi B) Tezkire  
C) İlmî eserler D) Seyahatname

20. Aşağıdakilerden hangisi Türk halk tiyatrosu meddah türünün özelliklerinden değildir?

- A) Anlatım bütünüyle ses taklidine dayanır.  
B) Özel bir kıyafet ve sahne düzeni bulunmaz.  
C) Tiplerler toplum içinde rastlanan kahramanlardır.  
D) Oyun deve derisinden yapılan renkli şekillerin hareket ettirilmesiyle ibarettir.

#### (406) SEÇ. ULUSLAR. İLİŞKİLER

1. Aşağıdakilerden hangisi soğuk savaş döneminde olası Sovyet tehdidine karşı kurulmuş askeri bir örgüttür?

- A) NATO B) UNESCO  
C) UNICEF D) AB

2. Aşağıdaki ülkelerden hangisi Avrupa Birliği'ne diğerlerinden sonra girmiştir?

- A) Slovakya B) Hollanda  
C) İsveç D) Danimarka

3. Aşağıdakilerden hangisi Güneydoğu Asya Ülkeleri Örgütü'nün kurulduğu ilk günlerdeki asıl amacıdır?

- A) Asya ülkeleri arasında sosyal bağları güçlendirmek  
B) Asya ülkeleri arasında teknolojik işbirliğini geliştirmek  
C) Asya'daki komünist yayılmacılığı karşı blok oluşturmak  
D) Asya kıtasındaki yeraltı kaynaklarının başka ülkelere kullandırılmasını engellemek

4. IMF'nin açılımının Türkçe karşılığı aşağıdakilerden hangisidir?

- A) Körfez İşbirliği Konseyi
- B) Uluslararası Para Fonu
- C) Petrol İhraç Eden Ülkeler örgütü
- D) Ekonomik İşbirliği ve Kalkınma Örgütü

5. Aşağıdaki ülkelerden hangisi Birleşmiş Milletler; Güvenlik Konseyinin daimi üye ülkelerinden biri değildir?

- A) Çin
- B) Rusya
- C) Brezilya
- D) ABD

6. Devletlerin önceden planlayarak, başka ülke vatandaşlarının kanı, görüş ve değerlerini kontrol etmek ve sonuçta davranışları belirlenen doğrultuda değiştirmek amacıyla psikolojik teknikler kullanarak yürüttüğü bilinçli dış politika aracı aşağıdakilerden hangisidir?

- A) Savaş
- B) Propaganda
- C) Reklam
- D) Diplomasi

7. 1952 yılında kurulan ve Avrupa Birliği'nin oluşum sürecini başlatan örgütün adı nedir?

- A) Ekonomik İşbirliği Örgütü
- B) Avrupa Kömür ve Çelik Topluluğu
- C) Avrupa Güvenlik ve İşbirliği Teşkilatı
- D) Avrupa İnsan Hakları Mahkemesi

8. Aşağıdakilerden hangisi diplomatik temsilcilerin görevlerinden biri değildir?

- A) Savaş ilan etmek
- B) Ülkesini temsil etmek
- C) Müzakerelerde bulunmak
- D) Vatandaşların hak ve çıkarlarını korumak

9. Birleşmiş Milletleri'nin ana organlarından olan Uluslararası Adalet Divanı'nın görevi aşağıdakilerden hangisidir?

- A) Bölgesel savaşları ikna yoluyla sonlandırmak
- B) Ülkeler arasındaki deniz sınırlarını belirtmek
- C) Kişiler arasında çıkan hukuki sorunları çözmek
- D) Devletlerin kendi aralarında halledemedikleri sorunları çözmek

10. Aşağıdakilerden hangisi coğrafi kriter esasına göre yapılan gruplandırmada, global örgütler sınıfına girer?

- A) Avrupa Birliği
- B) Varşova Paketi
- C) Birleşmiş Milletler
- D) İslam Konferansı Örgütü

11. Devletlerin uyguladığı dış politikaların en önemli amacı aşağıdakilerden hangisidir?

- A) Ülkenin güvenliğini sağlamak
- B) Ülkenin saygınlığını korumak
- C) Ülkenin ekonomisini geliştirmek
- D) Ülkenin coğrafi sınırlarını genişletmek

12. Aslı latince olan terör kelimesinin Türkçe karşılığı aşağıdakilerden hangisidir?

- A) Eylem
- B) Korku
- C) Gasp
- D) Silah

13. Terörizmin özellikle 2. Dünya Savaşı'ndan sonra tüm dünyada giderek büyüyen bir tehdit olmasında aşağıdakilerden hangisinin etkisi daha fazla olmuştur?

- A) Enerjiye olan talebin giderek artmasının
- B) Ülkeler arası din ve mezhep ayrılıklarının
- C) Sanayi faaliyetlerinin dünyaya yayılmasının
- D) ABD ve SSCB arasındaki rejim çekişmelerinin

14. Aşağıdakilerden hangisi uluslararası ilişkilerin yararlandığı disiplinlerden biri değildir?

- A) Sosyoloji
- B) İktisat
- C) Hukuk
- D) Fizik

15. Aşağıdakilerden hangisi uluslararası ilişkilerin ilk teorisidir?

- A) İdealizm
- B) Realizm
- C) Çoğulculuk
- D) Kapitalizm

16. Aşağıdakilerden hangisi sivil toplum örgütünü uluslararası örgütten ayıran temel unsurdur?

- A) Öncelikli kuruluş amacı çevre sorunlarına dikkat çekmektir.
- B) Oluşumunda devletlerarası anlaşmanın etkisi yoktur.
- C) Demokratik olmayan ülkelerde daha aktiftirler.
- D) Belli bir ülkenin sınırları içinde faaliyet gösterirler.

17. Ülke adı verilen belirli bir toprak üzerinde yaşayan insan topluluklarının bir egemenlik anlayışı ve hukuku içinde siyasi iktidar altında örgütlenmesine ne ne denir?

- A) Rejim
- B) Devlet
- C) Anayasa
- D) Hükümet

18. Aşağıdakilerden hangisi uluslararası hukukun alt dallarından biri değildir?

- A) Uzay hukuku
- B) Devletler hukuku
- C) Yeşil alan hukuku
- D) Deniz ve su hukuku

19. Aşağıdakilerden hangisi çok uluslu şirketlerin uluslararası arenada etkili bir güç olduğuna kanıt gösterilebilir?

- A) Çok sayıda personel istihdam etmeleri
- B) Çok farklı alanlarda üretim yapmaları
- C) Teknolojik gelişmeleri takip ederek kendilerinin de buna katkı yapmaları
- D) Kendi ve başka ülkelerin dış işleri bakanlıklarıyla doğrudan bağlantı kurmaları

20. Diplomasi için aşağıdakilerden hangisinin de olduğu söylenir?

- A) Siyasi gerilim
- B) Küreselleşme
- C) Görüşme sanatı
- D) Ekonomik rekabet

TEST BİTTİ.  
CEVAPLARINIZI KONTROL EDİNİZ.

### **SINAV SÜRESİNCE UYULACAK KURALLAR**

- 1. Adaylar, sınav kurallarına ve salon görevlilerinin tüm uyarılarına uymak zorundadırlar. Kurallara ve uyarılara uymayan adayların sınavları geçersiz sayılacaktır.**
- 2. Sınav başladıktan sonra adayların salon görevlileri ve birbirleri ile konuşmaları, kalem, silgi vb. şeyleri istemeleri yasaktır.**
- 3. Adaylar sınav süresince, sınav giriş belgesi ile birlikte kimlik belgelerinden birini (nüfus cüzdanı, pasaport veya sürücü belgesi) masalarının üzerinde bulundurmamak zorundadırlar.**

### **SALON GÖREVLİLERİNCE SINAV BAŞLAMADAN ÖNCE ADAYLARA YAPILACAK SON UYARI**

- Soracağınız bir şey var mı? Varsa, şimdi sorunuz.
- Sınav başladıktan sonra sorularınıza cevap verilmeyecektir.
- Başlama zilini bekleyiniz.
- Hepinize başarılar dileriz.

**(Salon başkanı başlama ve bitiş saatini tahtaya yazacaktır.)**

**Bu kitapçığın her hakkı saklıdır. Hangi amaçla olursa olsun, kitapçığın tamamının veya bir kısmının Millî Eğitim Bakanlığı Yenilik ve Eğitim Teknolojileri Genel Müdürlüğünün yazılı izni olmadan kopya edilmesi, fotoğraflarının çekilmesi, bilgisayar ortamına alınması, herhangi bir yolla çoğaltılması, yayımlanması veya başka bir amaçla kullanılması yasaktır. Bu yasağa uymayanlar, doğabilecek cezai sorumluluğu ve kitapçığın hazırlanmasındaki mali külfeti peşinen kabullenmiş sayılır.**

**14 NİSAN 2013 TARİHİNDE YAPILAN ÖZEL AKŞAM LİSELERİ ÖĞRENCİ BAŞARISI DEĞERLENDİRME SINAVI**  
**2012-2013 ÖĞRETİM YILI 2. DÖNEM 1. SINAVI 4. OTURUM B KİTAPÇIĞI CEVAP ANAHTARI**

KİMYA - 9	SAĞLIK BİLGİSİ - 9	SEÇMELİ PROJE HAZIRLAMA	SEÇMELİ KİMYA - 10
1. A 2. C 3. B 4. D 5. B 6. C 7. A 8. D 9. A 10. D 11. C 12. A 13. C 14. B 15. B 16. A 17. D 18. C 19. D 20. B	1. B 2. A 3. B 4. B 5. A 6. D 7. B 8. D 9. C 10. C 11. D 12. C 13. A 14. D 15. C 16. B 17. C 18. D 19. A 20. A	1. B 2. A 3. B 4. D 5. C 6. B 7. C 8. A 9. D 10. A 11. B 12. C 13. D 14. A 15. D 16. C 17. D 18. A 19. B 20. C	1. C 2. D 3. B 4. A 5. C 6. A 7. B 8. C 9. D 10. C 11. B 12. D 13. A 14. C 15. D 16. C 17. D 18. B 19. C 20. A
DİN KÜL. ve AHLAK BİL. - 9	SEÇ. DİKSİYON ve HİTABET	SEÇMELİ SANAT TARİHİ	TÜRK EDEBİYATI VE SEÇ. TÜRK EDEBİYATI - 10
1. A 2. D 3. C 4. A 5. A 6. D 7. C 8. B 9. D 10. B 11. C 12. D 13. B 14. B 15. A 16. D 17. C 18. A 19. D 20. B	1. D 2. B 3. C 4. B 5. D 6. A 7. B 8. D 9. A 10. C 11. D 12. C 13. C 14. B 15. A 16. D 17. B 18. C 19. A 20. D	1. B 2. B 3. D 4. C 5. B 6. B 7. A 8. B 9. D 10. C 11. A 12. C 13. D 14. B 15. D 16. A 17. D 18. A 19. C 20. D	1. D 2. A 3. A 4. C 5. A 6. B 7. D 8. A 9. C 10. B 11. C 12. B 13. B 14. C 15. D 16. C 17. D 18. B 19. A 20. D



14 NİSAN 2013 TARİHİNDE YAPILAN ÖZEL AKŞAM LİSELERİ ÖĞRENCİ BAŞARISI DEĞERLENDİRME SINAVI  
2012-2013 ÖĞRETİM YILI 2. DÖNEM 1. SINAVI 4. OTURUM B KİTAPÇIĞI CEVAP ANAHTARI

SEÇMELİ ULUSLARARASI İLİSKİLER
-----------------------------------

1. A
2. A
3. C
4. B
5. C
6. B
7. B
8. A
9. D
10. D
11. A
12. B
13. D
14. D
15. A
16. B
17. B
18. C
19. D
20. C